

1. 国外签发的国际驾驶证可在韩国的使用期限是?

- ① 入境后1年 ② 入境后2年
- ③ 入境后3年 ④ 入境后4年

■ 정답 : 1

2. 下列选项中, 哪一种情况可以获得国际驾驶证?

- ① 取得摩托车驾驶证的人
- ② 取得实习驾驶证的人
- ③ 取得二类普通驾驶证的人
- ④ 取得建筑机械驾驶证的人

■ 정답 : 3

3. 地方警察厅长所签发的国际驾驶证的有效期为签发后几年?

- ① 1年 ② 2年 ③ 3年 ④ 4年

■ 정답 : 1

4. 根据《道路交通安全法》规定, 第一次驾驶核载人数为15人的紧急车辆时应具备的条件是?

- ① 一类普通驾驶证、交通安全教育3小时
- ② 一类特殊驾驶证(大型拖吊车)、交通安全教育2小时
- ③ 一类特殊驾驶证(抢险车)、交通安全教育2小时
- ④ 二类普通驾驶证、交通安全教育3小时

■ 정답 : 1

5. 根据《道路交通安全法》规定，实习驾驶证的有效期为？

- ① 签发后6个月
- ② 签发后1年
- ③ 签发后2年
- ④ 签发后3年

■ 정답 : 2

6. 根据《道路交通安全法》规定，以下选项中不能用一类普通驾驶证驾驶的是？

- ① 12座面包车
- ② 载重10吨的货车
- ③ 摩托化自行车
- ④ 在道路上行驶的5吨叉车

■ 정답 : 4

7. 根据《道路交通安全法》规定，以下选项中不属于一类驾驶证类型的是？

- ① 小型拖吊车驾驶证
- ② 抢险车驾驶证
- ③ 摩托化自行车驾驶证
- ④ 大型车驾驶证

■ 정답 : 3

8. 以下关于驾驶证的说明中正确的2项是？

- ① 一类大型车驾驶证可驾驶沥青喷洒机。
- ② 一类普通驾驶证可驾驶自卸货车。
- ③ 二类普通驾驶证可驾驶250CC的双轮摩托车。
- ④ 二类小型车驾驶证时，可驾驶摩托化自行车。

■ 정답 : 1, 4

9. 持二类普通驾驶证可驾驶以下哪两种车辆?

- ① 轿车
- ② 载重5吨的货车
- ③ 12座面包车
- ④ 摩托化自行车

■ 정답 : 1, 4

10. 以下选项中, 可获取二类普通驾驶证的是?

- ① 一只眼睛看不见, 但另一只眼睛的视力为0.5的人
- ② 无法识别红黄绿等颜色的人
- ③ 年龄为17岁的人
- ④ 有听力障碍的人

■ 정답 : 4

11. 在一类普通驾驶证路考中不属于违反一次就剥夺资格的行为是?

- ① 违规超车
- ② 穿越中心线
- ③ 违反信号灯和指示
- ④ 引发车祸

■ 정답 : 1

12. 根据《道路交通安全法》规定, 以下选项中符合一类大型车驾驶考试报名条件的是?(两轮车驾驶经验除外)

- ① 满18岁、驾龄6个月以上
- ② 满18岁、驾龄1年以上
- ③ 满19岁、驾龄6个月以上
- ④ 满19岁、驾龄1年以上

■ 정답 : 4

13. 以作假或不正当手段取得驾驶证后被处以罚款等时, 在多长时间无法取得驾驶证?

- ① 自吊销之日起1年 ② 自吊销之日起2年
③ 自吊销之日起3年 ④ 自吊销之日起4年

■ 정답 : 2

14. 路考不及格后经过()才能重新参加路考。()中应填入?

- ① 马上 ② 3天以上 ③ 5天以上 ④ 7天以上

■ 정답 : 2

15. 以下选中不属于驾驶证考试的科目的是?

- ① 有关机动车等生产相关的知识
② 有关机动车等驾驶适应性
③ 有关机动车等驾驶技能
④ 有关机动车等法律相关知识

■ 정답 : 1

16. 根据《道路交通安全法》规定，以下选项中符合一类大型车驾驶证适应标准的2项是？

- ① 能识别红色和绿色，但不能识别黄色的人
- ② 同时睁开双眼时视力为0.8以上，双眼视力分别在0.5以上
- ③ 同时睁开双眼时视力为0.5以上，一只眼睛看不见时另一只眼睛视力在0.6以上
- ④ 能听见55分贝(使用助听器的人为40分贝)的声音

■ 정답 : 2, 4

17. 下列选项中，不适合获取驾驶证的2个排除标准是？

- ① 体重
- ② 视力
- ③ 颜色识别能力
- ④ 身高

■ 정답 : 2, 3

18. 以下选项中，2年内不能考取驾驶证的事由是？(被判以罚款以上的处罚时)

- ① 无照驾驶3次
- ② 代替他人参加驾驶证考试
- ③ 使用车辆进行监禁
- ④ 未接受定期适应性测试而导致驾驶证被吊销

■ 정답 : 1, 2

19. 下面关于实习驾驶证持有者应遵守事项中不正确的是？

- ① 可接受无驾驶证同乘人的驾驶指导。
- ② 需粘贴“实习”标识后驾驶。
- ③ 营运机动车不得用于练习开车以外的其他目的。
- ④ 不得驾驶摩托化自行车。

■ 정답 : 1

20. 根据《道路交通安全法》规定，以电为动力的摩托化自行车的额定功率应在几千瓦以内？

- ① 0.59千瓦 ② 0.65千瓦 ③ 0.85千瓦 ④ 1千瓦

■ 정답 : 1

21. 根据《道路交通安全法》规定，下列选项中正确定义“道路缘石线”的是？

- ① 为明确区分车马行驶方向的线
② 使机动车在道路指定范围内排成一排行驶的线
③ 区分车道与人行道、用石头等连接的线
④ 区分车道与车道的线

■ 정답 : 3

22. 载有成人与儿童(包括驾驶员)的11座面包车正在市区行驶，此时车内应系安全带的对象是？

- ① 驾驶员
② 驾驶员及驾驶员旁边的同乘人员
③ 驾驶员及成人
④ 驾驶员及同乘人员

■ 정답 : 4

23. 根据《道路交通安全法》规定，停车(stop)是指驾驶员停下车子停留不超过()，是泊车(parking)以外的另一种车辆停止状态。()中应该填入？

- ① 5分钟 ② 7分钟 ③ 9分钟 ④ 10分钟

■ 정답 : 1

24. 韩国国内驾驶证被暂扣期间在国外申领国际驾驶证时，以下说明中正确的是？

- ① 持国际驾驶证可在韩国国内驾驶。
- ② 在驾驶证被暂扣期间，不能持国外申领的国际驾驶证在韩国国内驾驶机动车等。
- ③ 驾驶证暂扣期间，国际驾驶证仍有效。
- ④ 因在驾驶证被暂扣期间领取了国外驾驶证，所以被暂扣的韩国驾驶证将被吊销。

■ 정답 : 2

25. 领取实习驾驶证的驾驶员在练习开车过程中引发交通事故时，实习驾驶资格会被注销的是？

- ① 在道路以外的地方引发交通事故
- ② 引发造成财物损失的交通事故
- ③ 按照专业驾校讲师的指示行驶的过程中引发交通事故
- ④ 引发造成人员伤亡的交通事故

■ 정답 : 4

26. 下列选项中不属于特别交通安全建议教育对象的是？

- ① 已持有驾驶证且接受教育的当日满65岁的人
- ② 驾驶证被暂扣且暂扣期限未滿的新手驾驶员，但已接受特别交通安全义务教育的人
- ③ 因违反交通法规等，有可能会受到驾驶证暂扣处分的人
- ④ 因未进行适应性测试，导致驾驶证被注销的人

■ 정답 : 4

27. 以下关于驾驶证考试的部分免考对象的说明中正确的是?

- ① 在依照《国家技术资格法》的机动车维修技术资格考试中合格的人
- ② 在依照《国家技术资格法》的机动车检查技术资格考试中合格的人
- ③ 在军事分界线以北地区获得驾驶证的事实得到认证的人
- ④ 在服兵役时驾驶机动车等军用车辆3个月以上的人

■ 정답 : 4

28. 已申领一类驾驶证, 超过65岁且未满75岁时(单眼失明人除外), 需每几年定期接受适应性测试?

- ① 每3年
- ② 每5年
- ③ 每0年
- ④ 每5年

■ 정답 : 2

29. 须将驾驶证返还给地方警察厅长的2个原因是?

- ① 驾驶证被吊销时
- ② 驾驶证被暂扣时
- ③ 收到随时驾驶员适应性测试通知时
- ④ 定期驾驶员适应性测试期限超过6个月时

■ 정답 : 1, 2

30. 以下关于《道路交通安全法》的说明中正确的一项是?

- ① 未缴纳违章罚款或行政处罚款时, 有可能无法申领国际驾驶证。
- ② 外国人持国际驾驶证驾驶过程中, 因酒驾引发交通事故造成人员受伤时, 驾驶证将被吊销。
- ③ 二类普通驾驶证持有人只需接受交通安全教育就能更新驾驶证。
- ④ 70岁以上的老人不能申领驾驶证。

■ 정답 : 1

31. 以下有关通过驾驶证考试后签发驾驶证的说明中正确的2项是?

- ① 通过驾驶证考试后不用领取驾驶证可直接进行驾驶。
- ② 需从警察局长或道路交通公团领取驾驶证。
- ③ 驾驶证的签发人是地方警察厅长。
- ④ 遗失驾驶证时, 可在驾校申请补办。

■ 정답 : 2, 3

32. 根据《道路交通安全法》规定, 不能用二类普通驾驶证驾驶的车是?

- ① 抢险车
- ② 核载10人以下的面包车
- ③ 乘用车
- ④ 载重2.5吨的货车

■ 정답 : 1

33. 根据《道路交通安全法》规定, 以下疾病中不妨碍考取驾驶证的是?

- ① 分裂型情感障碍
- ② 双相情感障碍
- ③ 精神分裂症
- ④ 糖尿病

■ 정답 : 4

34. 根据《道路交通安全法》规定，以下选项中不属于驾驶证更新或定期适应性测试延期事由的是？

- ① 正在海外滞留
- ② 因疾病行动不便
- ③ 根据《军人事务法》规定，正在服役的陆海空军副士官以上干部
- ④ 遇到灾害或灾难

■ 정답 : 3

35. 根据《道路交通安全法》规定，获准驾驶证延期更新的人在其延期事由消失后，需几个月以内更新、取得驾驶证？

- ① 1个月
- ② 3个月
- ③ 6个月
- ④ 12个月

■ 정답 : 2

36. 根据《道路交通安全法》规定，75岁以上的老人接受定期适应性测试的期限是？

- ① 1年
- ② 2年
- ③ 3年
- ④ 5年

■ 정답 : 3

37. 以下关于机动车轮胎保养说明中正确的是？

- ① 普通驾驶员很难掌握更换轮胎的时间。
- ② 水膜现象与轮胎磨损状态有很大关联性。
- ③ 轮胎上不标记生产年份。
- ④ 乘用车轮胎的宽度都是统一的。

■ 정답 : 2

38. 正确检查自动变速箱油液的方法是?

- ① 在启动发动机的状态下进行检查。
- ② 在关闭发动机后进行检查。
- ③ 启动发动机10分钟后关闭再进行检查。
- ④ 在发动机完全冷却的情况下进行检查。

■ 정답 : 1

39. 出发前打开发动机盖检查车辆状态时可用肉眼检查的是?

- ① 制动液的粘度
- ② 火花塞的污染状态
- ③ 机油的量
- ④ 冷却水的温度

■ 정답 : 3

40. 在以下有关冷却水的说明中正确的2项是?

- ① 行驶后马上打开散热器盖, 测量冷却水的量。
- ② 临时补充冷却水时, 也可放入蒸馏水。
- ③ 冷却水的颜色接近黑色时, 表示正常。
- ④ 不仅在冬季, 平时也要时常补充冷却水, 检查是否不足。

■ 정답 : 2, 4

41. 以下关于上车前机动车检查事项中正确的2项是?

- ① 轮胎磨损状态
- ② 机动车前后方有无障碍物
- ③ 驾驶席仪表盘是否正常启动
- ④ 刹车踏板是否正常操作

■ 정답 : 1, 2

42. 通常免维护(MF : Maintenance Free)蓄电池寿命到期时, 检视窗显示什么颜色?

- ① 黄色
- ② 白色
- ③ 黑色
- ④ 绿色

■ 정답 : 2

43. 以下关于机动车轮胎保养的说明中最正确的是?

- ① 轮胎花纹完全磨损前一直使用。
- ② 胎压越高越好。
- ③ 最好定期调换轮胎位置。
- ④ 轮胎与燃油经济性没有相关性。

■ 정답 : 3

44. 在停车场中停放的车辆下面积有绿色液体时, 首先要检查的是?

- ① 制动液
- ② 机油
- ③ 冷却液 (防冻液)
- ④ 自动变速箱油

■ 정답 : 3

45. 下列选项中，在仪表盘刹车警示灯亮时与驾驶人正确的措施最相去甚远的是？

- ① 检查驻车制动。
- ② 检查刹车片。
- ③ 检查制动液。
- ④ 检查制动灯（刹车灯）。

■ 정답 : 4

46. 在停车场中停放的车辆下面积有黑色液体时，首先要检查的是？

- ① 冷却液（防冻液）
- ② 机油
- ③ 制动液
- ④ 电池电解液

■ 정답 : 2

47. 右转弯车辆的右前轮与右后轮旋转轨迹的差异是？

- ① 旋转阻力
- ② 外轮差
- ③ 最少旋转半径
- ④ 内轮差

■ 정답 : 4

48. 下面对车辆冷却系统的故障及修理措施的说明中正确的是？

- ① 发动机过热只发生在气温高的时候。
- ② 散热器过热时打开盖子的话，冷却水可能会喷出来。
- ③ 冷却水中防冻液的比率比水越高，冷却性能越高。
- ④ 发动机过热时，需打开空调。

■ 정답 : 2

49. 下面关于LPG汽车燃料特性的说明中不恰当的是?

- ① 在常温下呈气体状态。
- ② 车辆用LPG有特殊的气味。
- ③ 通常比空气轻。
- ④ 爆炸危险性高。

■ 정답 : 3

50. 下面关于LPG汽车的说明中最不正确的是?

- ① 加气时, 只加到气箱的80~85%。
- ② 泊车时间较长时, 由于LPG的性质, 出于安全考虑需停放在通风良好的场所。
- ③ 有害气体和碳排放量比柴油车多。
- ④ 发动机燃料箱不会被熏黑, 可延长火花塞的寿命。

■ 정답 : 3

51. 下列关于LPG汽车的检查及维护说明中不恰当的是?

- ① 为了安全, 加气时需先熄火。
- ② 加气时, 可请加气站员工检查车辆是否漏气。
- ③ 可用肥皂水或泄漏检测仪确认是否漏气。
- ④ 确认漏气时, 先用手挡住漏气部位。

■ 정답 : 4

52. 下面关于发动机温度（水温表）的说明中正确的2项是？

- ① 水温表若接近H，说明机油、冷却水、风扇等存在异常，需进行检查。
- ② 水温表会随着行驶状况变高或变低，H状态是正常现象。
- ③ 水温表在C和H之间为正常。
- ④ 如果加热器不启动，因水温表是正常的，所以发动机无异常只是加热器的问题。

■ 정답 : 1, 3

53. 下面是关于胎压不足时可能会出现的问题。其中错误的是？

- ① 燃油经济性下降、造成损失。
- ② 行驶速度增加、引发危险。
- ③ 轮胎和轮圈容易分离。
- ④ 行驶阻力增大。

■ 정답 : 2

54. 下面关于机动车冷却液的检查与措施中错误的是？

- ① 应在发动机尚未充分冷却的状态下检查或补充冷却液。
- ② 将机动车停放在平坦的场所中检查。
- ③ 时常检查冷却液。
- ④ 副水箱的冷却液量不足时补充至最大刻度线。

■ 정답 : 1

55. 下面关于机动车燃油经济性的说明中正确的是?

- ① 机动车消耗1升燃油能够行驶的距离。
- ② 内燃机中活塞活动的体积。
- ③ 内燃机曲轴中产生的回转力。
- ④ 将75千克重量在1秒内移动1米时的量。

■ 정답 : 1

56. 下列选项中提醒驾驶人发动机过热的警示灯是?

- ① 刹车警示灯
- ② 水温警示灯
- ③ 燃油警示灯
- ④ 驻车制动警示灯

■ 정답 : 2

57. 下列选项中不能在驾驶座上检查的2项是?

- ① 示廓灯与尾灯是否启动
- ② 仪表盘的警示灯是否启动
- ③ 发动机的转数是否正常
- ④ 轮胎花纹是否磨损

■ 정답 : 1, 4

58. 根据《道路交通安全法》规定,对车窗玻璃可视光线透过率有限制的是?

- ① 后座旁边的车窗玻璃
- ② 前方、驾驶席左右两侧的车窗玻璃
- ③ 前方、驾驶席左右两侧、后方的车窗玻璃
- ④ 所有的车窗玻璃

■ 정답 : 2

59. 按照规定，乘用车限载几人以下？

- ① 10人 ② 12人 ③ 15人 ④ 18人

■ 정답 : 1

60. 新登记的非营运乘用车的最初检查的有效期是？

- ① 1年 ② 2年 ③ 4年 ④ 6年

■ 정답 : 3

61. 根据《机动车管理法》规定，以下属于机动车种类的2项是？

- ① 建筑机械 ② 货车
③ 耕耘机 ④ 特殊车辆

■ 정답 : 2, 4

62. 非营运类及租赁用电动汽车和氢燃料电池车(混合动力车除外)的专用牌照的颜色是?

- ① 黄底黑字
- ② 蓝底黑字
- ③ 深蓝底白字
- ④ 粉白底紫黑字

■ 정답 : 2

63. 下列选项中改装车辆需进行的安全性检查是?

- ① 新检查
- ② 定期检查
- ③ 外观检查
- ④ 改装检查

■ 정답 : 4

64. 小型面包车的检验有效期是?

- ① 6个月
- ② 1年
- ③ 2年
- ④ 4年

■ 정답 : 2

65. 车龄超过6年的被拖吊机动车的检验有效期是?

- ① 6个月
- ② 1年
- ③ 2年
- ④ 4年

■ 정답 : 3

66. 购买新车时, 临时驾驶许可的有效期是?

- ① 10天内 ② 15天内 ③ 20天内 ④ 30天内

■ 정답 : 1

67. 下列选项中不属于机动车变更登记事由的是?

- ① 变更使用地时
② 变更机动车登记编号时
③ 所有权变更时
④ 法人商号变更时

■ 정답 : 3

68. 下面关于预防车辆火灾的说明中最正确的是?

- ① 机动车配线状态、燃料系统、点火装置等应该每6个月进行定期检查。
② 驾驶机动车途中吸烟时, 把烟灰扔到窗外较为安全。
③ 在车内放置打火机或火柴时, 必须放在抽屉里。
④ 为预防火灾, 车内需配备灭火器并熟知使用方法。

■ 정답 : 4

69. 《道路交通法》中规定机动车不得加装妨碍交通管制设备功能的装置或非法装置。下列选项中不属于非法装置的是？

- ① 普通机动车的警灯
- ② 拖吊车的警笛
- ③ 行车记录仪
- ④ 与警察机关频率相同的对讲机

■ 정답 : 3

70. 机动车持有人自购买机动车后需几天以内办理转移登记？

- ① 15天
- ② 20天
- ③ 30天
- ④ 40天

■ 정답 : 1

71. 车辆定期检查的时间为检查有效期期满前后的各几天以内？

- ① 31天
- ② 41天
- ③ 51天
- ④ 61天

■ 정답 : 1

72. 机动车所有人未办理责任保险时将受到什么样的处罚（处分）？

- ① 处以300万韩元以下的罚款
- ② 处以500万韩元以下的罚款
- ③ 处以1年以下有期徒刑或1000万韩元以下的罚款
- ④ 处以2年以下有期徒刑或2000万韩元以下的罚款

■ 정답 : 1

73. 机动车所有权因继承等原因发生变更时，应进行的登记种类是？

- ① 新登记
- ② 转移登记
- ③ 变更登记
- ④ 注销登记

■ 정답 : 2

74. 机动车所有人完成新登记后，需每隔一定时间定期实施的检查是？

- ① 新检查
- ② 定期检查
- ③ 改装检查
- ④ 临时检查

■ 정답 : 2

75. 买卖机动车时进行转移登记的申请机构是？

- ① 道路交通公团
- ② 市、郡、区厅
- ③ 韩国交通安全公团
- ④ 地方警察厅

■ 정답 : 2

76. 下列选项中不属于机动车登记种类的2项是？

- ① 更正登记
- ② 权利登记
- ③ 设定登记
- ④ 注销登记

■ 정답 : 2, 3

77. 下列选项中车辆挡风玻璃的可视光线透过率标准是?

- ① 40%以下
- ② 50% 以下
- ③ 60%以下
- ④ 70%以下

■ 정답 : 4

78. 下列选项中正确的驾驶行为过程是?

- ① 认知 → 判断 → 操作
- ② 判断 → 认知 → 操作
- ③ 操作 → 判断 → 认知
- ④ 认知 → 操作 → 判断

■ 정답 : 1

79. 下列关于驾驶员需遵守的事项中正确的是?

- ① 与前车缩短车距, 以免其他车辆超车。
- ② 由于无信号的人行横道中无横穿的行人, 因此快速通过。
- ③ 夜间行驶在高速公路时困意袭来的情况下, 将车暂停在路肩上休息片刻后继续行驶。
- ④ 在儿童保护区域内, 即使没有儿童, 也应遵守限速、安全驾驶。

■ 정답 : 4

80. 下列关于驾驶员等上下车注意事项中正确的是?

- ① 上下车时要确认后面有没有车辆驶来。
- ② 开车门时以最大幅度打开后立即下车。
- ③ 后座上的乘车者下车时驾驶员要注意前方。
- ④ 临时离开驾驶座位时无需关闭发动机。

■ 정답 : 1

81. 根据《道路交通安全法》规定，下列选项中正确的驾驶方法是？

- ① 学校前的人行道 - 为了提醒儿童，边鸣笛边经过。
- ② 铁路道口 - 在拦道器要放下来时，加速通过。
- ③ 没有信号灯的交叉路口 - 在交叉路口右转时，先在右侧道路边缘处慢行并右转弯。
- ④ 夜间驾驶时 - 当有车辆迎面驶来时，为了告知对面车辆的驾驶人需打开远光灯。

■ 정답 : 3

82. 下列关于超车的说明中正确的是？

- ① 隧道内白天可以超车，但是夜间不可以。
- ② 超车时打开前照灯并鸣笛，不管左侧或右侧均可超车。
- ③ 按照规定桥梁上或交叉路口处禁止超车，所以不能超车。
- ④ 前面车辆右侧有其他车辆并行时不可超车。

■ 정답 : 3

83. 通过交叉路口时从左边车道进行超车。违反的内容是？

- ① 未履行优先通行权的规定
- ② 违反禁止超车区的规定
- ③ 越过中心线
- ④ 超车方法不当

■ 정답 : 2

84. 在道路边缘地带暂时停车后重新出发时，最安全的驾驶方法是？

- ① 不打开转向灯，直接驶入公路中心。
- ② 打开转向灯后，在变道结束之前就关掉转向灯。
- ③ 打开转向灯后慢速驶入。
- ④ 打开转向灯后马上驶入。

■ 정답 : 3

85. 在单向1车道以50公里/时行驶途中，行驶于前方的公共汽车正在靠右停车。此时最安全的行驶方法是？

- ① 可能有行人过马路，因此鸣笛警告的同时继续行驶。
- ② 为避免行人等危险因素，在公路中央继续行驶。
- ③ 对公共汽车进行超车会有危险，因此稍作等待后再出发。
- ④ 为避免行人等危险因素，向对向车道行驶。

■ 정답 : 3

86. 在高速公路行驶途中，以下哪种情况可使用路肩？

- ① 紧急故障时
- ② 堵车时
- ③ 暂时休息时
- ④ 走错车道时

■ 정답 : 1

87. 行驶于坡度较大的单向2车道上坡路段时，最安全的行驶方法是？

- ① 因前方货车而导致视野受阻时，为了尽快恢复视野需尽快变道。
- ② 行驶上坡路段时，将变速杆置于高档。
- ③ 速度较慢的车辆应在第2车道行驶。
- ④ 速度较快的车辆应加速行驶。

■ 정답 : 3

88. 携带婴幼儿乘车时，正确的安全带使用方法是？

- ① 成人抱着婴幼儿上车后系安全带。
- ② 安装婴幼儿安全座椅后系上保护用安全带。
- ③ 坐在后座上并系上安全带。
- ④ 幼儿可不系安全带。

■ 정답 : 2

89. 下列关于驾驶员的遵守事项中正确的2项是？

- ① 有可能发生儿童交通事故时暂时停车。
- ② 经过水坑时缓慢行驶，以防对他人造成影响。
- ③ 车辆的车窗透明度没有管制，可贴深色膜(防晒膜)。
- ④ 在行人穿过人行横道时缓慢行驶。

■ 정답 : 1, 2

90. 为减少驾驶中的心理压力和愤怒，正确的2种方法是？

- ① 因其他驾驶人的失误生气并对其进行威胁。
- ② 事先了解目的地的路线并确定计划。
- ③ 驾驶中努力保持内心平静。
- ④ 通过不断闲聊消除心理压力。

■ 정답 : 2, 3

91. 下列选项中妨碍驾驶中注意力的2项是？

- ① 出发前确认目的地与途径路线后再出发。
- ② 坐到驾驶员座位后边打电话边出发。
- ③ 驾驶途中时刻注意着前方与周边环境。
- ④ 驾驶途中多次操作收音机等音响设备。

④ 为防止其他车辆加塞，行驶时缩小与前车的间距。

■ 정답 : 3

96. 为预防交通事故，需持有的正确驾驶态度是？

- ① 利用转向灯明确告知行驶方向。
- ② 经常急操作与急刹车。
- ③ 驾驶途中只考虑自身的便利。
- ④ 必须报复其他驾驶人的违规行为。

■ 정답 : 1

97. 为了安全驾驶，需吃用的正确驾驶态度是？(选择2项)

- ① 在僻静的道路上超速行驶
- ② 尽力关照新手驾驶人
- ③ 在隧道内赶超低速行驶的车辆
- ④ 根据交通状况提前预测并防备危险

■ 정답 : 2, 4

98. 下列关于礼让驾驶的说明中正确的是？

- ① 持续以慢速行驶时，到左侧道路边缘地带让出道路。
- ② 后面有紧急车辆时应加速行驶。
- ③ 通过交叉路口时，不管优先顺序，必须礼让其他车辆。
- ④ 在设有让行标志的车道上行驶的车辆必须向在其他车道上行驶的车辆让行。

■ 정답 : 4

99. 在进入交叉路口的前方设有让行标志。通过交叉口的正确方法是？

- ① 缓慢行驶通过路口。
- ② 不在停止线前停车，直接通过路口。
- ③ 让其他车辆先行通过之后再通过路口。
- ④ 打开应急灯后通过路口。

■ 정답 : 3

100. 变道时驾驶员最正确的做法是？

- ① 为了对方着想快速变道。
- ② 打开应急灯的同时变道。
- ③ 打开转向灯告知对方后安全地变道。
- ④ 跟随其他变道车辆一起变道。

■ 정답 : 3

101. 根据《道路交通安全法》规定，下列选项中需要缓慢行驶的是？

- ① 交叉路口的红灯闪烁时
- ② 经过交叉路口时
- ③ 在通过未实施交通管制的交叉路口时
- ④ 在交叉路口附近变道时

■ 정답 : 3

102. 在拥堵的交叉路口左转弯时，最正确的方法是？

- ① 迅速地跟在前车后面左转弯。
- ② 绿色信号灯时可以左转弯。
- ③ 即使是红色信号灯时，只要有空间的话也可以左转弯。
- ④ 绿色箭头信号灯亮时，也不可左转弯。

■ 정답 : 4

103. 下列选项中正确驶入高速公路的方法是？

- ① 必须先暂停，观察车流情况后快速驶入。
- ② 驶入先暂停，在有车辆经过时急速驶入。
- ③ 即使不易驶入，但考虑到后方车辆便强行驶入。
- ④ 利用加速车道保持一定车速的同时，确保充分的空间后驶入。

■ 정답 : 4

104. 驶入高速公路时，有A车在主干线右车道缓慢行驶，此时安全的驾驶方法是？

- ① 可慢慢地加速驶入，但要在A车开走后驶入。
- ② 充分加速后，可从A车右侧车道超车驶入。
- ③ 在加速车道末端暂停，等A车通过后再驶入。
- ④ 在加速车道与A车保持同样的车速继续行驶。

■ 정답 : 1

105. 在公路上行驶时，安全的驾驶方法是？

- ① 在拥堵路段紧贴前车行驶。
- ② 优先考虑疏通交通。
- ③ 持谦让心态，礼让驾驶。
- ④ 在行人横道信号灯变换的瞬间，迅速通过。

■ 정답 : 3

106. 根据《道路交通安全法》规定，驶入没有信号灯且无法确认左、右车流情况的交叉路口时，最安全的驾驶方法是？

- ① 观察周围情况慢行，确认安全后通过。
- ② 鸣笛后边闪烁前照灯边驶入，然后缓慢通过。
- ③ 必须暂停确保安全后，根据优先通行顺序通过。
- ④ 先进入的车辆有最先通行权，所以观察周边环境后迅速通过。

■ 정답 : 3

107. 在交叉路口左转弯时最危险的因素是？

- ① 穿过右侧道路人行横道的行人
- ② 从右侧车道后方行驶过来的摩托车
- ③ 在左侧道路右转弯的乘用车
- ④ 在对面道路右转弯的自行车

■ 정답 : 4

108. 以下哪种情况可以超车？

- ① 在桥上自行车对缓慢行驶的拖拉机进行超车。
- ② 在前车对其他车辆进行超车时，机动车驾驶员也超了车。
- ③ 机动车驾驶员对缓慢行驶的前方车辆从右侧进行超车。
- ④ 自行车驾驶员对停止的车辆从右侧进行超车。

■ 정답 : 4

109. 下雨天经过水坑时，正确的驾驶方法是？

- ① 忽视水坑，直接通过。
- ② 暂停或缓慢行驶，注意不让水溅出。
- ③ 注意水坑，但不减速直接通过。
- ④ 行驶时，只注意前方车辆和物体。

■ 정답 : 2

110. 下列选项中需缓慢行驶的情况或路段是？（选择2项）

- ① 没有信号灯的交叉路口
- ② 儿童在无监护人陪同的情况下过马路时
- ③ 盲人手持白色拐杖过马路时
- ④ 道路弯曲的周围路段

■ 정답 : 1, 4

111. 驾驶途中正确对待行人的2项是？

- ① 应始终礼让行人，进行防御性驾驶。
- ② 无行人过马路时，可在人行横道上不减速行驶。
- ③ 对横穿马路的人也需进行保护。
- ④ 在胡同道里车辆比行人优先。

■ 정답 : 1, 3

112. 在高速公路上行驶时，下列选项中正确的2项是？

- ① 在高速公路上行驶时，所有座位都必须系上安全带。
- ② 在高速公路上行驶的车辆需向驶入高速公路的车辆让行。
- ③ 在高速公路上行驶时，无需让行驶入的紧急车辆。
- ④ 需随车携带故障车辆标志(包括安全三角架)。

■ 정답 : 1, 4

113. 下列说明中正确的2项是?

- ① 礼让驾驶的路面标志为白色“△”。
- ② 在设有让行标志的车道上行驶的车辆需给其他车道上的行驶车辆让行。
- ③ 在普通公路上变更车道时, 应当在前30米外打转向灯后变更车道。
- ④ 为确保交通畅通, 可强行提高车速缩短车距。

■ 정답 : 2, 3

114. 在没有交通管制的交叉路口行驶时, 正确描述礼让驾驶的2项是?

- ① 对于在交叉路口直行或右转弯的车辆, 欲左转弯的车辆需给与让行。
- ② 欲驶入交叉路口的车辆无需让行在交叉路口进行左转弯的车辆。
- ③ 欲驶入交叉路口的车辆对从狭窄道路驶入交叉路口的车辆不能给予让行。
- ④ 优先顺序相同的车辆要同时进入交叉路口时, 应让右侧道路的车辆先行。

■ 정답 : 1, 4

115. 下列关于车辆行驶的说明中正确的2项是?

- ① 行驶在前方车辆后面时需保持适当距离以防发生追尾。
- ② 在经过自行车旁边时需保持适当距离以防事故发生。
- ③ 变更车道时, 无需考虑车流情况, 要快速变道。
- ④ 在不是为了防止危险和其他不得已的情况下, 经常进行急刹车或急减速等。

■ 정답 : 1, 2

116. 下列选项中最有可能引发交通事故的驾驶人是?

- ① 将注意力只集中在驾驶上的驾驶人
- ② 反复急起步、急刹车、急变道的驾驶人
- ③ 与自行车或两轮车确保安全距离的驾驶人
- ④ 不骄不躁、富有耐心的驾驶人

■ 정답 : 2

117. 机动车要通过人行道驶入加油站时, 若人行道上有行驶的自行车, 此时最安全的驾驶行为是?

- ① 自行车本不可以在人行道上行驶, 所以需边鸣笛边行驶。
- ② 暂时停车, 等待自行车通过。
- ③ 事故率高, 所以在自行车过来前快速通过。
- ④ 自行车应该让行, 所以先行通过。

■ 정답 : 2

118. 在没有信号的交叉路口意欲直行时, 对面车辆正开着左转向灯进行左转。下列选项中最正确的驾驶行为是?

- ① 查看自己后方, 如有很多车辆则照常直行。
- ② 直行优先, 所以边鸣笛边先行通过。
- ③ 暂时停车, 让左转车辆先行通过后再安全行驶。
- ④ 相信后方车辆会让行, 自己先行通过。

■ 정답 : 3

119. 下列选项中驾驶人的正确态度与心态是?

- ① 对试图变更车道的车辆鸣笛予以提醒
- ② 提前想好时间充分的驾驶计划、守法驾驶
- ③ 对低速行驶的驾驶人闪烁前照灯予以催促
- ④ 指责或威胁横穿马路的行人

■ 정답 : 2

120. 下列选项中驾驶人最应该具备的是?

- ① 考虑沟通与安全
- ② 先车后人
- ③ 先己车、后他车
- ④ 交通事故是受运气影响而非守法驾驶

■ 정답 : 1

121. 《道路交通安全法》规定的酒驾标准是?

- ① 血液中酒精浓度为0.03%以上
- ② 血液中酒精浓度为0.08%以上
- ③ 血液中酒精浓度为0.1%以上
- ④ 血液中酒精浓度为0.12%以上

■ 정답 : 1

122. 根据《道路交通安全法》规定, 因过度劳累(包括疲劳驾驶)无法正常驾驶的状态下驾驶机动车时对驾驶人将处以什么样的处罚?

- ① 不予处罚。
- ② 处以10万韩元以下的罚款或拘留。
- ③ 处以20万韩元以下的罚款或拘留。
- ④ 处以30万韩元以下的罚款或拘留。

■ 정답 : 4

123. 驾驶者感到疲劳时会影响到驾驶。下列关于疲劳影响驾驶的说明中正确的是?

- ① 对周边状况迅速做出反应。
- ② 视力下降, 视野变宽。
- ③ 知觉与驾驶操作能力降低。
- ④ 谨慎并有计划地进行驾驶。

■ 정답 : 3

124. 下列关于空走距离的说明中正确的是?

- ① 酒后驾车会使空走距离加长。
- ② 雨天行驶时, 停止距离比空走距离要短。
- ③ 为避免发生交通事故, 至少需维持空走距离。
- ④ 感到危险时, 从踩刹车踏板到车辆停稳为止的距离被称为空走距离。

■ 정답 : 1

125. 驾驶员疲劳驾驶的话, 会对速度的判断产生错误。下列选项中与此相吻合的内容是?

- ① 在狭窄的道路上行驶的时候, 感觉到的速度要比实际速度慢。
- ② 在广阔道路上行驶的时候, 感觉到的速度要比实际速度快。
- ③ 低估从远处驶来的车辆速度, 可能发生事故。
- ④ 在高速公路上行驶的时候, 不会把前方停止的车辆错认为是正在行驶的车辆。

■ 정답 : 3

126. 驾驶机动车时可能会影响到空走距离的情形中正确的2项是?

- ① 雨天驾驶的情形
- ② 醉酒状态下驾驶的情形
- ③ 车辆制动液不足的状态下驾驶的情形
- ④ 驾驶员在疲劳的状态下驾驶的情形

■ 정답 : 2, 4

127. 下列关于酒驾处罚标准的描述中正确的2项是?

- ① 血液酒精浓度0.08%以上的醉驾者吊销驾驶证并受刑事处罚。
- ② 拒绝接受警察的酒精测试要求或在血液酒精浓度0.03%以上的状态下引发交通事故造成人员伤亡时，吊销驾驶证并受处刑事处罚。
- ③ 血液酒精浓度在0.03%~0.08%的单纯酒驾暂扣驾驶证120日并受刑事处罚。
- ④ 血液酒精浓度为0.03%~0.08%的酒驾驾驶员，第一次引起造成财产损失的交通事故时，将吊销驾驶证。

■ 정답 : 1, 2

128. 下列关于酒驾的内容中正确的2项是?

- ① 对于呼气式酒精测试结果不服时，可重新进行呼气式酒精测试。
- ② 已结束驾驶到家，对交通安全和防止危险的必要性消失时，不属于酒精测试对象。
- ③ 隶属非机动车、隶属《建筑机械管理法》范围内的建筑机械也是《道路交通安全法》规定的禁止酒驾对象。
- ④ 证明处于醉酒状态的理由十分充分，但拒绝警察的酒精测试要求时，将被吊销驾驶证。

■ 정답 : 3, 4

129. 下列关于疲劳、疲劳过度、疲劳驾驶的说明中正确的2项是?

- ① 在道路环境和驾驶操作单纯简单的状态下驾驶时，无关睡眠不足都可能会引发疲劳驾驶。
- ② 在变化少、危险状况少的道路上注意力会提升，疲劳驾驶的现象会减少。
- ③ 驾驶人在驾驶途中中感觉疲劳或犯困时应对危险情况的反应会变慢。

④ 酒后驾车时，因大脑功能被激活，疲劳驾驶的可能性会减少。

■ 정답 : 1, 3

130. 因疾病或疲劳过度等因素可能无法正常驾驶的情况下，驾驶机动车被查出时，会有怎样的处罚？

- ① 可能会罚款。
- ② 可能会暂扣驾驶证。
- ③ 拘留或罚款。
- ④ 不会受到处罚。

■ 정답 : 3

131. 在吸食毒品等药物的状态下驾驶机动车并造成人员伤亡的交通事故时，《交通事故处理特例法》是如何规定的？

- ① 如已加入综合保险则免除刑事处罚。
- ② 如已加入驾驶员保险则免除刑事处罚。
- ③ 无论是否达成协议，将处以刑事处罚。
- ④ 与受害人达成协议时，处以罚款。

■ 정답 : 3

132. 驾驶人甲的血液酒精浓度为0.03%以上，在等信号的情况下后车（驾驶人乙）追尾时会怎么样？

- ① 酒后驾驶是严重的违法行为，所以甲会被作为事故肇事方予以处罚。
- ② 事故肇事方是乙，但甲的酒后驾驶行为也会另行处罚。
- ③ 甲是受害人，所以不会受到驾驶证相关行政处罚。
- ④ 乙不会因交通事故原因和结果被扣分。

■ 정답 : 2

133. 根据《道路交通安全法》规定，禁止酒驾的血液酒精浓度为()。()中应填入?

- ① 0.01%以上
- ② 0.02%以上
- ③ 0.03%以上
- ④ 0.08%以上

■ 정답 : 3

134. 下列关于疲劳驾驶和药驾、毒驾的说明中正确的2项是?

- ① 疲劳状态下的驾驶发展成疲劳驾驶的概率很低。
- ② 疲劳状态下的驾驶会导致注意力、判断力、反应速度下降，所以很危险。
- ③ 因毒驾引发交通事故、致人受伤的驾驶人可能会受到处罚。
- ④ 因毒驾引发交通事故、致人受伤后逃逸被吊销驾驶证时，3年后才能再取得驾驶证。

■ 정답 : 2, 3

135. 下列选项中，不能被视为报复驾驶预防方法的是?

- ① 紧急制动时开启应急灯
- ② 对面来车时关闭远光灯
- ③ 提速时向打开远光灯
- ④ 前车延迟出发时等待3秒左右。

■ 정답 : 3

136. 遭遇报复驾驶时，下列报警方法中最不恰当的是？

- ① 拨打120报警。
- ② 拨打112报警。
- ③ 通过智能手机“寻找目击者”的应用来报警。
- ④ 向网络警察厅报警。

■ 정답 : 1

137. 处于被报复驾驶的危险中时，最恰当的应对方法是？

- ① 尽可能不要直接应对，将车停在安全地方后拨打112报警。
- ② 与对方驾驶人大声争论对错。
- ③ 无视对方，超速行驶尽快摆脱。
- ④ 亦可给对方施加某种程度的威胁行为。

■ 정답 : 1

138. 跟在受害车辆后方的乘用车驾驶人越过中心线超车后做出急刹车等危险驾驶行为时，根据《刑法》可能会以报复驾驶予以处罚。下列处罚标准中正确的是？

- ① 处以7年以下的有期徒刑或1000万韩元以下的罚款。
- ② 处以10年以下的有期徒刑或2000万韩元以下的罚款。
- ③ 处以1年以上的有期徒刑。
- ④ 处以1年6个月以上的有期徒刑。

■ 정답 : 1

139. 乘用车驾驶人因变道感到愤怒，在对方车辆前急刹车后，跟在后面的货车因来不及停车而导致追尾且货车驾驶员受伤时，根据《刑法》可能会以报复驾驶予以处罚。对此，下列处罚标准中正确的是？

- ① 处以1年以上10年以下有期徒刑。
- ② 处以1年以上20年以下有期徒刑。
- ③ 处以2年以上10年以下有期徒刑。
- ④ 处以2年以上20年以下有期徒刑。

■ 정답 : 1

140. 下列选项中，与《刑法》中规定的报复驾驶发生原因最相去甚远的是？

- ① 想要变道但对方车辆不让行时
- ② 对方车辆不开转向灯突然加塞时
- ③ 边使用电话边驾驶、不让行且缓慢行驶时
- ④ 运输伤员的乘用车打开远光灯行驶时

■ 정답 : 4

141. 机动车驾驶人反复下列行为对他人构成威胁时，将按粗暴驾驶对其进行处罚。下列行为中不属于粗暴驾驶行为的是？

- ① 违反交通信号或指示
- ② 违反禁止横穿马路、掉头、倒车规定时
- ③ 无端鸣笛制造噪音
- ④ 在高速公路上不按规定车道行驶

■ 정답 : 4

142. 根据《道路交通法》规定，乘用车驾驶人粗暴驾驶时正确的处罚标准是？

- ① 处以6万韩元罚款的通报处分。
- ② 处以3万韩元罚款。
- ③ 处以6个月以下的有期徒刑或200万韩元以下的罚款。

④ 处以1年以下的有期徒刑或500万韩元以下的罚款。

■ 정답 : 4

143. 根据《道路交通法》规定，下列选项中属于粗暴驾驶的驾驶人是？

- ① 连续违反交通信号灯，引发交通事故危险的驾驶人
- ② 夜间行驶时开近光灯行驶的驾驶人
- ③ 在没有机动车的道路上越过1次中心线的驾驶人
- ④ 将车停在安全地带的驾驶人

■ 정답 : 1

144. 驾驶机动车途中发现粗暴驾驶的驾驶人时，正确的应对方法是？

- ① 跟着粗暴驾驶人并发出警告。
- ② 截住粗暴驾驶人并要求其道歉。
- ③ 向警察举报粗暴驾驶人。
- ④ 故意引发交通事故使其停车。

■ 정답 : 3

145. 下列关于粗暴驾驶和报复驾驶的说明中正确的是？

- ① 摩托车驾驶人无端反复鸣笛制造噪音对不特定多数人构成威胁，这是一种报复驾驶行为。
- ② 乘用车驾驶人连续越过中心线并超速，对不特定多数人构成危害，这是一种粗暴驾驶行为。
- ③ 大型卡车驾驶人故意对特定机动车超车后在前方紧急刹车，这是一种粗暴驾驶行为。
- ④ 公交车驾驶人反复违法超车引发交通事故危险，这是一种报复驾驶行为。

■ 정답 : 2

146. 下列关于报复驾驶的内容中正确的是?

- ① 法律上将报复驾驶视为一种粗暴驾驶行为。
- ② 适用刑法。
- ③ 处以罚款处罚。
- ④ 一次行为不属于报复驾驶。

■ 정답 : 2

147. 在普通公路上机动车驾驶人反复做出下列行为对其他人构成威胁时, 将按粗暴驾驶对其进行处罚。下列行为中不属于粗暴驾驶行为的是?

- ① 在普通公路上不按规定车道行驶
- ② 违反禁止越过中心线、急刹车规定
- ③ 违反安全距离、禁止变道规定
- ④ 在普通公路上违法超车

■ 정답 : 1

148. 机动车驾驶人连续做出两钟以上行为、对其他人构成威胁时, 将按粗暴驾驶对其进行处罚。下列关于粗暴驾驶类型的说明中不恰当的是?

- ① 驾驶时操作显示屏, 不注意观察前方。
- ② 对前车从右侧超车并超速。
- ③ 未保持安全距离、反复急刹车。
- ④ 超速驾驶妨碍想要超车的机动车超车。

■ 정답 : 1

149. 机动车驾驶人反复下列行为对其他人构成威胁时，将按粗暴驾驶对其进行处罚。下列行为中不是粗暴驾驶行为的是？

- ① 违反交通信号及指示，越过中心线
- ② 未保持安全距离，违反禁止急刹车规定
- ③ 违反禁止妨碍超车规定，违法超车
- ④ 违反禁止通行规定，驾驶中使用手机

■ 정답 : 4

150. 因反复下列行为而引发交通危险时，按粗暴驾驶处罚的是？

- ① 在高速公路路肩上停、泊车
- ② 酒后驾驶
- ③ 违反普通公路专用道的使用规定
- ④ 越过道路中心线

■ 정답 : 4

151. 因反复下列行为而引发交通危险时，不能按粗暴驾驶行为处罚的是？

- ① 违反交通信号
- ② 超速
- ③ 违反《禁止驾驶修配不良车辆》的规定
- ④ 违反禁止变更车道的规定

■ 정답 : 3

152. 因报复驾驶被拘留，对驾驶证的行政处分是？

- ① 吊销驾驶证
- ② 暂扣驾驶证100天
- ③ 暂扣驾驶证60天
- ④ 不能处分

■ 정답 : 1

153. 公路上2人以上无端对2台以上机动车等以前后成排或左右并排方式行驶给其他人造成危害或引发交通危险的行为在《道路交通安全法》中被称为什么？

- ① 共同危险行为
- ② 交叉路口追尾行为
- ③ 加塞行为
- ④ 违反秩序行为

■ 정답 : 1

154. 下列选项中不属于《道路交通安全法》中规定的粗暴驾驶者的是？

- ① 反复急刹车、引发交通危险的驾驶人
- ② 持续不保持安全距离、给其他人造成威胁的驾驶人
- ③ 在高速公路上连续违反超车规定、引发交通危险的驾驶人
- ④ 深夜在高速公路路肩上关闭尾灯泊车、给其他人造成威胁的驾驶人

■ 정답 : 4

155. 下列选项中属于报复驾驶的是？

- ① 利用机动车监禁他人
- ② 利用机动车施暴
- ③ 抢夺他人所有的机动车
- ④ 无证驾驶途中引发交通事故

■ 정답 : 2

156. 因报复驾驶立案，对驾驶证的行政处分是？

- ① 吊销驾驶证
- ② 暂扣驾驶证100天
- ③ 暂扣驾驶证60天
- ④ 无行政处分

■ 정답 : 2

157. 车辆为了进入加油站或商业街需穿过人行横道时, 最安全的驾驶方法是?

- ① 闪烁前照灯通行。
- ② 鸣笛通行。
- ③ 在不妨碍到行人的前提下快速通行。
- ④ 暂停确定安全后通行。

■ 정답 : 4

158. 根据《道路交通安全法》规定, 下列选项中最为安全的驾驶行为是?

- ① 行人在未设置人行横道的道路的横穿马路时, 留意并从行人身旁驶过。
- ② 在陡峭的上坡路上提高车速行驶。
- ③ 在没有信号灯、无法确认左、右车流情况的交叉路口暂停。
- ④ 发现有关儿童的交通事故危险时, 鸣笛向儿童示警。

■ 정답 : 3

159. 为确保行人安全、树立步行文化, 行人的通行方法中正确的是?

- ① 以左侧通行为原则
- ② 以右侧通行为原则
- ③ 在中间区域通行
- ④ 哪一侧都可以。

■ 정답 : 2

160. 下列关于道路边缘地带的说明中正确的是?

- ① 是为了确保行人安全, 通过安全标志等标识划分的地方。
- ② 是在区分人行道和车道的道路上为了自行车而设置的地方。
- ③ 是为了使行人能够穿过马路而设的安全标志。
- ④ 是机动车行驶的地方。

■ 정답 : 1

161. 乘用车驾驶员可以在人行便道上通行的地点有?

- ① 出入公路以外的地方时
- ② 进出车道以外的地方时
- ③ 进出安全地带以外的地方时
- ④ 进出人行横道以外的地方时

■ 정답 : 1

162. 在市区内公路上以50公里/时行驶时发现有人横穿马路。最正确的措施是?

- ① 因行人正在通行, 所以急刹车停止车辆。
- ② 预测行人的行为, 在此之间通行。
- ③ 减慢车速做好停车准备, 同时开启应急灯提示后方车辆, 安全停车。
- ④ 向行人鸣笛提醒后稍微加快车速通行。

■ 정답 : 3

163. 在区分人行道和车道的道路上行人正确的通行方法是?

- ① 如果几个人一起走的话, 可以通过车道通行。
- ② 因人行道正在施工禁止通行的情况下, 可以通过车道通行。
- ③ 进行跑步等类似的运动时, 可以通过车道进行。
- ④ 不区分人行道和车道, 都可以通行。

■ 정답 : 2

164. 下列关于行人通过人行道的的方法中最正确的是?

- ① 靠左行走
- ② 靠右行走或从箭头标志所在地按箭头方向行走
- ③ 在中间行走
- ④ 在哪一方行走都无关

■ 정답 : 2

165. 下列关于保护行人的义务说明中正确的是?

- ① 不必保护违法横穿马路的醉酒行人。
- ② 在有信号灯的道路上，可妨碍正在通行的行人。
- ③ 在步行信号灯绿色信号闪烁的情况下，车辆也可以行驶。
- ④ 在有信号灯的交叉路口右转时，不能妨碍按信号灯通行的行人。

■ 정답 : 4

166. 能够在道路中央通行的人或者队列是?

- ① 举行社会性的重要活动时的游行队列
- ② 赶着马、牛等大型动物过马路的人
- ③ 在道路上进行清扫或是维修作业的人
- ④ 携带旗帜或者横幅等的葬礼队列

■ 정답 : 1

167. 通过没有信号灯的人行横道时最安全的驾驶方式是?

- ① 即使没有人过马路，也要仔细观察前方慢行。
- ② 因没有人过马路，所以保持原速行驶。
- ③ 没有人过马路时快速通行。
- ④ 因可能有人过马路，所以鸣笛后保持原速行驶。

■ 정답 : 1

168. 准备在交叉路口右转弯时，有行人正在人行横道上通行。此时最安全的驾驶方法是?

- ① 觉得可以先行右转弯的话就赶紧右转弯。
- ② 若人行横道的信号为红色就直接进行右转弯。
- ③ 缓慢行驶，在行人经过前进行右转弯。
- ④ 即使人行横道信号灯已从绿色变为红色，也应停车等行人完全通行。

■ 정답 : 4

169. 驾驶人要通过人行道进入建筑物等。下列选项中最安全的驾驶方法是?

- ① 如果人行道上没有行人就快速驶入。
- ② 打开转向灯后马上驶入。
- ③ 暂时停车，查看左右方情况等后通过，不妨碍行人通行。
- ④ 按喇叭告知车辆将要通过并快速驶入。

■ 정답 : 3

170. 根据《道路交通安全法》规定，下列关于行人过马路的方法中不正确的是?

- ① 过马路时不能紧靠车辆的前或后。
- ② 肢体残疾人过马路时也一定要使用过马路的设施。
- ③ 在设有安全标志等禁止过马路的道路区域不能过马路。
- ④ 在没有人行横道的道路上应从最短距离过马路。

■ 정답 : 2

171. 在夜间的道路上容易发生暂时看不到行人或是物体的“蒸发现象”的位置是?

- ① 对向车道的边缘地带
- ② 行驶车道的右侧部分
- ③ 道路中心线附近
- ④ 道路右侧的边缘地带

■ 정답 : 3

172. 下列关于行人通行的说明中正确的是?

- ① 行人过马路时应紧贴在车辆前面或后面快速穿过。
- ② 在设有过马路设施的道路上肢体残疾人一定要从该地点通过。
- ③ 行人在设有安全标志等标明禁止横穿马路的道路上应快速穿过马路。
- ④ 行人在没有人行横道的道路上应从最短的距离穿过。

■ 정답 : 4

173. 下列选项中哪项符合行人的人行道通行原则?

- ① 在人行道中靠右通行
- ② 在人行道中靠左通行
- ③ 在人行道中靠中间通行
- ④ 在人行道中随意通行

■ 정답 : 1

174. 下列关于道路上行人通行的义务说明中正确的2项是?

- ① 必须遵守信号灯的指示。
- ② 不用遵守交通安全标志的指示。
- ③ 不必遵守辅助警察维持秩序的交通协管人员的指示。
- ④ 为了防止在道路上发生危险，应遵守警察的暂时禁止通行的指示。

■ 정답 : 1, 4

175. 根据《道路交通法》规定，下列关于保护行人的说明中正确的2项是?

- ① 推着自行车走的人不属于行人。
- ② 在没有交通管制的交叉路口先进入的车辆相对行人有优先通行权。
- ③ 地方警察厅长为了保护行人的通行，可在道路上设置行人专用道路。
- ④ 在行人专用道路上可推着婴儿车走。

■ 정답 : 3, 4

176. 下列关于行人通行的说明中正确的2项是?

- ① 行人在特殊情况下在车道行走时，应靠车道的左侧行走。
- ② 行人在社会重要活动中游行时，可在道路中央行走。
- ③ 无法使用过马路设施的肢体残疾人可以不使用过马路设施，直接过马路。
- ④ 无过马路设施时，为了行人安全，应在最长的距离过马路。

■ 정답 : 2, 3

177. 乘用车驾驶人违反人行道通行规定时处以多少罚金?

- ① 3万韩元
- ② 4万韩元
- ③ 5万韩元
- ④ 6万韩元

■ 정답 : 4

178. 乘用车驾驶人违反行人保护规定时罚款金额不同的是?

- ① 妨碍按照信号灯过马路的行人过马路
- ② 违反行人专用道路通行规定
- ③ 在道路上行驶的车上向外投掷物品的行为
- ④ 违反儿童和盲人等保护规定

■ 정답 : 3

179. 下列选项中驾驶人对行人的正确态度是?

- ① 横穿马路的行人不能受到保护。
- ② 无需在意从机动车旁经过的行人。
- ③ 行人应避让机动车。
- ④ 驾驶人应优先保护行人。

■ 정답 : 4

180. 采用安全标志让行人过马路的部分称之为什么?

- ① 人行道
- ② 道路边缘区域
- ③ 人行横道
- ④ 行人专用道路

■ 정답 : 3

181. 下列关于驾驶人对行人采取的措施中错误的是？

- ① 在设有儿童保护标志的地方可能会有儿童突然出现，需注意。
- ② 通过人行道时需缓慢行驶并保护行人。
- ③ 横穿马路的行人也应受到保护。
- ④ 没有监护人陪同的儿童正在穿越马路时应暂时停车。

■ 정답 : 2

182. 下列关于行人横过马路的方法中错误的是？

- ① 在没有人行横道的道路上行人应从最短距离过马路。
- ② 行人不得紧贴车辆的前方或后方过马路。
- ③ 在设有车道隔离带防止横穿马路的地方也可以跨过隔离带过马路。
- ④ 因道路工程等原因人行道被禁止通行时可以通过车道通行。

■ 정답 : 3

183. 下列选项中不属于无法看到前方者的是？

- ① 儿童或婴幼儿
- ② 不使用假肢等就无法行走的人
- ③ 身体平衡功能有障碍的人
- ④ 耳聋者

■ 정답 : 1

184. 对在儿童保护区域内的 () ~ () 之间违反信号的乘用车驾驶人将处以2倍扣分的处罚。 () 中应依次填入?

- ① 上午6点、晚上6点 ② 上午7点、晚上7点
- ③ 上午8点、晚上8点 ④ 上午9点、晚上9点

■ 정답 : 3

185. 4.5吨货车于上午10点~11点在老人保护区域内违反停车规定时处以多少罚款?

- ① 4万韩元 ② 5万韩元 ③ 9万韩元 ④ 10万韩元

■ 정답 : 3

186. 下列关于行人的通行方法中错误的是?

- ① 在人行道上以左侧通行为原则。
- ② 道路通行方向是单向通行时, 可不看对向车马通行。
- ③ 在区分人行道与车道的道路上, 应始终在人行道上通行。
- ④ 在不区分人行道与车道的道路上, 应在与车马相对方向的路边区域通行。

■ 정답 : 1

187. 下列选项中不能在车道上通行的人或队列是?

- ① 在道路上进行清扫或维修等作业时
- ② 赶着牛马等大型动物时
- ③ 推着婴儿车行走的人
- ④ 送葬队伍

■ 정답 : 3

188. 在红灯亮时，驾驶人超出停止线停车时的处罚标准是？

- ① 违反交叉路口通行规定
- ② 违反暂时停车规定
- ③ 违反信号
- ④ 违反慢行规定

■ 정답 : 3

189. 发现视力障碍者与导盲犬横过马路时，正确的驾驶方法是？

- ① 如果位于禁止停、泊车地点时，照常行驶。
- ② 暂时停车。
- ③ 立即停车，告知视力障碍者返回。
- ④ 鸣喇叭予以保护。

■ 정답 : 2

190. 在没有信号灯的人行横道上有行人横过马路时，车辆通行方法中最正确的是？

- ① 鸣喇叭慢行。
- ② 暂时停车。
- ③ 闪烁前照灯，引起行人注意并照常通过。
- ④ 鸣喇叭，闪烁前照灯并慢行。

■ 정답 : 2

191. 下面是关于保护横穿马路行人的说明。其中正确的是？

- ① 在交叉路口以外的道路上没有义务保护行人。
- ② 没有义务保护违反信号灯、横穿马路的行人。
- ③ 横穿马路的行人也应受到保护。
- ④ 在单向通行道路上没有义务保护横穿马路的行人。

■ 정답 : 3

192. 下列选项中不允许在车道上通行的人是？

- ① 坐助行轮椅的人
- ② 因重要的社会性活动在街道上游行的人
- ③ 在道路上进行清扫或维修等作业的人
- ④ 正在搬运梯子等可能会影响行人通行之物品的人

■ 정답 : 1

193. 人行横道信号灯的绿灯闪烁时，以下行人的通行方法中最正确的是？

- ① 尚未进入人行横道的行人应等待下一次信号，待人行横道信号灯的绿灯亮起时再通行。
- ② 直接站在人行横道中间。
- ③ 不等下一次信号、直接穿过人行横道。
- ④ 变成红灯之前，随时可以开始横过马路。

■ 정답 : 1

194. 按照《道路交通安全法》规定，下列关于人行道上行人通行的说明中正确的是？

- ① 骑两轮车在人行道上通行的人可视为行人。
- ② 骑自行车通行的人可视为行人。
- ③ 坐助行轮椅通行的人可视为行人。
- ④ 骑摩托化自行车的人可视为行人。

■ 정답 : 3

195. 根据《道路交通安全法》规定，下列关于行人专用道的说明中正确的2项是？

- ① 允许通行的车马驾驶者要将通行速度调整为行人的步行速度。
- ② 车马驾驶人原则上可以在行人专用道上通行。
- ③ 警察厅厅长认定有特殊需要时可限制车马通行。
- ④ 允许通行的车马驾驶人在对行人造成威胁时应暂时停车。

■ 정답 : 1, 4

196. 在老人保护区域机动车上装载的货物坠落并砸伤老人造成需2周才能治愈的伤害时，根据《交通事故处理特例法》规定将予以什么样的处罚？（选择2项）

- ① 无关受害人的追究意向，将处以刑事处罚。
- ② 与受害者达成协议时不予处罚。
- ③ 已购买可赔偿全部损失的保险时不予处罚。
- ④ 与是否买了可赔偿全部损失的保险无关，将予以刑事处罚。

■ 정답 : 1, 4

197. 根据《道路交通安全法》规定，在没有人行横道的道路上行人最正确的通行方式是？

- ① 车辆通过后紧跟着穿过。
- ② 在没有通行车辆时快速穿过。
- ③ 因为没有人行横道，可随便穿过马路。
- ④ 在道路中从最短距离穿过。

■ 정답 : 4

198. 根据《道路交通安全法》规定，下列关于人行横道的使用方法中错误的是？

- ① 行人可跑步通过。
- ② 可推着手推车通过。
- ③ 可骑自行车通过。
- ④ 可推着婴儿车通过。

■ 정답 : 3

199. 根据《道路交通安全法》规定，下列关于机动车的通行方法中错误的选项是？

- ① 在人行道和车道分开的道路上应在车道上通行。
- ② 通过人行横道前先慢行观察左、右情况后，在不影响行人通行的状态下通过。
- ③ 在道路中央的右侧部分通行。
- ④ 单向通行时，从道路中央或左侧部分通行。

■ 정답 : 2

200. 根据《道路交通安全法》规定，下列关于保护行人的说明中不正确的选项是？

- ① 有人行横道时，应在其前面暂停。
- ② 不得妨碍依照交警的信号或指示过马路的行人通行。
- ③ 不得妨碍在交叉路口过马路的行人通行。
- ④ 行人正在过马路时，需保持安全距离并慢行。

■ 정답 : 4

201. 车辆行驶过程中车辆信号灯和人行横道的行人信号灯全部故障时，正确通过人行横道的方法是？

- ① 有行人通过人行横道时慢行通过。
- ② 人行横道上没有行人时无需慢行，快速通过。
- ③ 因信号灯故障丧失了人行横道的作用时无需慢行。
- ④ 有人通过人行横道时，在人行横道前暂停。

■ 정답 : 4

202. 根据《道路交通安全法》规定，在没有区分人行道和车道的道路上行人最恰当的通行方式是？

- ① 在车道中间步行。
- ② 在车道右侧步行。
- ③ 在道路边缘区域步行。
- ④ 按照不与车马相对的方向步行。

■ 정답 : 3

203. 根据《道路交通安全法》规定，允许在行人专用道行驶的机动车驾驶员的正确通行方式是？

- ① 有行人时慢行。
- ② 按喇叭通行。
- ③ 以行人的步行速度行驶或暂停。
- ④ 没有行人时快速通行。

■ 정답 : 3

204. 根据《道路交通安全法》规定，用路缘石线、安全标志或与之类似的人工构筑物划分界限以令行人通行的道路是？

- ① 人行道
- ② 道路边缘区域
- ③ 人行横道
- ④ 自行车横道

■ 정답 : 1

205. 根据《道路交通安全法》规定，人行横道绿灯闪烁时错误的通行方式是？

- ① 行人不能开始通行。
- ② 正在通行的行人应快速通过。
- ③ 停止通行，回到人行道。
- ④ 停止通行，在原地等下次信号。

■ 정답 : 4

206. 根据《道路交通安全法》规定，车辆驾驶员遇到下列状况时需要慢行的情况是？

- ① 发现了推着自行车穿过人行横道的人时
- ② 在胡同道路从行人旁边经过时
- ③ 看到行人通过人行横道时
- ④ 看到行人通过没有人行横道的马路时

■ 정답 : 2

207. 根据《道路交通安全法》规定，凸起式人行横道需设置在限速至时速()公里以下的道路上。()内应填入？

- ① 10
- ② 20
- ③ 30
- ④ 50

■ 정답 : 3

208. 根据《道路交通安全法》规定，驾驶途中需注意的是？

- ① 看到儿童在没有人陪同的情况下穿过马路时
- ② 车辆信号灯闪烁红灯时
- ③ 看到儿童在马路上玩耍时
- ④ 车辆信号灯黄灯闪烁时

■ 정답 : 4

209. 根据《道路交通安全法》规定，对角线人行横道的信号是绿灯时机动车的正确通行方法是？

- ① 应停止车辆。
- ② 在不妨碍行人通过的情况下可进行右转弯。
- ③ 没有行人时可慢行通过。
- ④ 可向没有行人过马路的方向行使。

■ 정답 : 1

210. 根据《道路交通安全法》规定，车辆驾驶员暂时完全停止车轮转动的情况是？

- ① 慢行
- ② 停车
- ③ 驻车
- ④ 暂时停车

■ 정답 : 4

211. 根据《道路交通安全法》规定，医疗专用电动轮椅不能通行的地方是？

- ① 自行车专用道
- ② 道路边缘区域
- ③ 人行道
- ④ 路边

■ 정답 : 1

212. 在没有交通管制的交叉路口左转弯时，以下方法中最正确的是？

- ① 从普通公路快接近左转弯的交叉路口前夕打开方向灯后左转弯。
- ② 提前沿着道路中心线慢行，在交叉路口中心外侧左转弯。
- ③ 即使由地方警察厅厅长指定，也不能通过交叉路口中心外侧左转弯。
- ④ 一定要慢行，驾驶员需根据情况判断是否需要暂时停车。

■ 정답 : 4

213. 没有安装Hi-pass终端机的机动车进入Hi-pass车道时，应采取以下哪种措施？

- ① 急刹车后打开应急灯，在旁边的取卡机拿到通行卡。
- ② 马上打开应急灯后倒车，进入普通车道，通过取卡机拿到通行卡。
- ③ 以每小时30公里以内的速度通过后，向韩国道路公社呼叫中心询问或到目的地收费站结算。
- ④ 以最高速度行驶，让Hi-pass车道的设备无法识别车辆。

■ 정답 : 3

214. 根据《道路交通法》规定，下列选项中守法驾驶的驾驶员是？

- ① 在坡道的坡顶附近慢行。
- ② 在环形交叉口顺时针行使进出。
- ③ 在单向2车道高速公路上路面因下雨潮湿的状态下，以时速100公里的速度行驶。
- ④ 在隧道里的白色实线部分变更车道。

■ 정답 : 1

215. 在进入没有交通管制的交叉路口时，下列选项中优先通行顺序最靠后的车辆是？

- ① 在相对较宽的道路上行使的车辆
- ② 路宽相同时准备左转弯的车辆
- ③ 路宽相同时在交叉路口右侧道路的车辆
- ④ 路宽相同时准备右转弯的车辆

■ 정답 : 2

216. 下列选项中属于违法超车的是?

- ① 在单向2车道上坡路上越过白色虚线超车。
- ② 观察对面路况后超越黄色实线的中心线超车。
- ③ 在非铺装道路上从左侧超车。
- ④ 在中心线是黄色虚线的道路上观察路况后超车。

■ 정답 : 2

217. 根据《道路交通安全法》规定, 下列关于变更车道的说明中正确的是?

- ① 桥上属于危险地点, 所以经常以白色实线限制变更车道。
- ② 限制变更车道的地点以白色虚线标示。
- ③ 在禁止变更车道的地点, 因道路施工等原因有障碍物而无法通行时也不能变更车道。
- ④ 虽然是禁止变更车道的地点, 但安全地变更车道就不算违法。

■ 정답 : 1

218. 进入交叉路口, 在信号灯转变后也没能通过, 而妨碍其他车辆通行的“追尾”行为属于哪种违规行为?

- ① 违反交叉路口通行方法
- ② 违反暂时停车的规定
- ③ 违反车道变更方法
- ④ 违反缓解拥堵的措施

■ 정답 : 1

219. 下列对高速公路加速车道的说明中叙述正确的是?

- ① 为使高速公路行驶车辆驶出出口而对其变更车道进行引导的车道
- ② 引导驶入高速公路的车辆可以充分提速的车道
- ③ 引导试图在高速公路上超车的车辆提速行驶的车道
- ④ 为减少因大型车辆在上坡路段减速所带来的影响而设置的车道

■ 정답 : 2

220. 进入高速公路后意识到误入, 下列选项中最恰当的行为是?

- ① 到路肩停车后, 打开应急灯, 向高速公路巡查队寻求帮助。
- ② 因为已经进入高速公路, 所以开到下一个出口后驶离。
- ③ 打开应急灯, 慢慢地后退到刚才进入的道路并驶离高速公路。
- ④ 当进入的车道为2个以上时, 可以调头再开回来。

■ 정답 : 2

221. 下列关于Hi-pass车道高速公路通行费的说明中正确的是?

- ① 因Hi-pass终端机出现故障等进入地点不明确时, 按照离目的地收费站最远距离计算。
- ② 因Hi-pass终端机故障等未缴纳通行费时, 修理Hi-pass终端机后将自动支付。
- ③ Hi-pass终端机在收费公路上无法使用。
- ④ 安装Hi-pass终端机的车辆只有在Hi-pass车道才能支付通行费。

■ 정답 : 1

222. 根据《道路交通安全法》规定, 下列关于车道顺序的说明中正确的是?

- ① 高速公路上有公共汽车专用车道时, 公共汽车专用车道为第1车道。
- ② 道路边缘处的车道为第1车道。
- ③ 在单向通行道上, 道路右侧为第1车道。
- ④ 在单向通行道上, 道路左侧为第1车道。

■ 정답 : 4

223. 车辆行驶时允许调头的区域是?

- ① 黄色实线的道路
- ② 白色实线的道路
- ③ 白色虚线的道路
- ④ 蓝色实线的道路

■ 정답 : 3

224. 在单向3车道的机动车专用道路上乘用车的法定最高速度是?

- ① 最高速度每小时60公里
- ② 最高速度每小时70公里
- ③ 最高速度每小时80公里
- ④ 最高速度每小时90公里

■ 정답 : 4

225. 根据《道路交通安全法》规定, 下雨后路面潮湿时, 在单向2车道普通公路上乘用车需减速行驶的速度是?

- ① 每小时40公里
- ② 每小时64公里
- ③ 每小时56公里
- ④ 每小时72公里

■ 정답 : 2

226. 下列选项中可变更车道的区间是?

- ① 车道是白色虚线的区域
- ② 车道是黄色实线的区域
- ③ 桥上白色实线的区间
- ④ 隧道内白色实线的区域

■ 정답 : 1

227. 下面是关于通过交叉路口的方法的说明。其中正确的是?

- ① 进入交叉路口时，缩短与前车的距离。
- ② 进入交叉路口时，鸣笛并且缓慢行驶。
- ③ 即使交通信号是绿灯，但交叉路口内交通拥堵的话，应在停止线前停车。
- ④ 在信号灯与交警的指挥信号不同的情况下，应当遵从信号灯的信号。

■ 정답 : 3

228. 在第1、第2车道是左转弯车道的交叉路口处正确的通行方法是?

- ① 乘用车只能利用第1车道左转弯。
- ② 乘用车只能利用第2车道进行左转弯。
- ③ 大型客车只能使用第1车道进行左转弯。
- ④ 大型客车只能使用第2车道进行左转弯。

■ 정답 : 4

229. 根据《道路交通安全法》规定，下列关于车马的通行方法及速度的说明中不正确的是?

- ① 在没有信号的交叉路口准备左转时，如有直行车辆，应让行直行车辆。
- ② 在没有区分车道和人行道的道路上停车时，应从道路右侧边缘向中间留出50CM以上的距离。
- ③ 在交叉路口前车发出右转信号时，后车不能妨碍前车行进。
- ④ 机动车专用车道上的最低速度是时速40公里。

233. 以下是关于车间距的说明。其中正确的是?

- ① 空走距离是发现危险踩刹车制动后，截止刹车开始产生制动力时车辆行驶的距离。
- ② 停止距离是指前车紧急刹车时不至引起追尾的距离。
- ③ 安全距离是启动制动器后直到完全停止时的距离。
- ④ 制动距离是指发现危险后至车辆完全停止时的距离。

■ 정답 : 1

234. 下列选项中可以超车的是?

- ① 交叉路口
- ② 黄色实线国道
- ③ 隧道内
- ④ 黄色虚线地方公路

■ 정답 : 4

235. 根据《道路交通安全法》规定，下列关于在交叉路口慢行的说明中最正确的是?

- ① 车辆以可以立即停止的缓慢速度行驶。
- ② 保持时速30公里的行驶速度。
- ③ 以不会引发事故的速度缓速行驶。
- ④ 以可以避开前车急停的速度行驶。

■ 정답 : 1

236. 根据《道路交通安全法》规定，下列选项中正确的驾驶方法是?

- ① 在设有非保护左转弯标志的地方，车辆在信号灯是绿灯、对面没有车辆驶来时进行了左转弯。
- ② 在最高时速为110公里的高速公路上以时速120公里的速度行驶。
- ③ 在单向2车道道路上行驶的两辆车在后面有车的情况下也并排行驶。
- ④ 在马路上一一直保持最高速度行驶。

■ 정답 : 1

237. 在没有信号灯的交叉路口右转时正确的是?

- ① 以最快的速度迅速右转。
- ② 首先进入交叉路口的车辆通行后进行右转。
- ③ 对面有先行左转的车辆时，小心留意并进行右转弯。
- ④ 从宽路向窄路右转弯时，不必在意其他车辆。

■ 정답 : 2

238. 在有信号灯但没有车辆辅助信号灯的交叉路口准备右转。根据《道路交通安全法》规定，下列选项中错误的是?

- ① 车辆信号是红灯时，不论人行横道的信号是什么，先在停止线前面暂停。
- ② 车辆信号是绿灯时，不用在停止线暂停直接右转。
- ③ 车辆信号是绿色箭头时，不论人行横道的信号是什么，在停止线前面暂停。
- ④ 不论车辆信号是什么，不妨碍其他车辆时，不用暂停直接右转。

■ 정답 : 4

239. 下列关于在交叉路口左、右转弯的方法中最正确的是?

- ① 准备右转弯时，车辆应根据信号的指示停车，并且注意通行的行人及自行车迅速通行。
- ② 准备左转弯时，车辆应总是向交叉路口中心的外侧通行。
- ③ 准备右转弯时，车辆应提前沿着右侧道路边缘地带慢行。
- ④ 在没有信号灯的交叉路口处准备左转弯时，如果行人正在过马路的话，就先行快速通过。

■ 정답 : 3

240. 下列关于停止距离的说明中正确的是?

- ① 从驾驶员踩刹车踏板后到车最终停稳的距离
- ② 前方车辆急停车时, 能够避免与前方车辆追尾的距离
- ③ 驾驶员发现危险踩刹车制动后, 到车辆实际停止时行进的距离
- ④ 驾驶员感到危险后踩刹车踏板, 到制动系统实际开始发挥作用时的距离

■ 정답 : 3

241. 通过交叉路口的正确方法是?

- ① 在红灯闪烁时缓慢行驶。
- ② 黄灯闪烁时快速通行。
- ③ 在交叉路口不进行超车。
- ④ 接近交叉路口时要一直开启远光灯。

■ 정답 : 3

242. 下列关于高速公路Hi-pass车道的使用方法中错误的是?

- ① 先从普通车道变更车道至Hi-pass车道后安全通过。
- ② 在驶入地点不减速直接通过。
- ③ 运行前检查Hi-pass终端机通行卡余额和电池余量等, 然后确认是否正常启动。
- ④ 因Hi-pass终端机出现故障等无法识别信息时, 到目的地收费站结算即可。

■ 정답 : 2

243. 在单向3车道车辆专用车道路段设有最高速度为每小时60公里的安全标识。驾驶员需遵守的行车速度是?

- ① 以时速90公里的速度行驶。
- ② 以时速80公里的速度行驶。
- ③ 以时速70公里的速度行驶。
- ④ 以时速60公里的速度行驶。

■ 정답 : 4

244. 车马驾驶员在其右侧宽度不到6米的道路进行超车时, 可行驶道路中央或左侧部分的情况是?

- ① 无法确认道路左侧部分时
- ② 可能会妨碍对向车道通行时
- ③ 单向行驶车道
- ④ 设有安全标志等禁止或限制超车时

■ 정답 : 3

245. 下列选项中可以超车的情况是?

- ① 前车正在进行超车时
- ② 前车左侧与其他车辆并行时
- ③ 前车打开转向灯准备向右变道时
- ④ 前车在交叉路口慢行时

■ 정답 : 3

246. 准备在非保护左转湾交叉路口左转时, 下面的说明中正确的2项是?

- ① 对面没有来车时一定要在绿灯时左转弯。
- ② 要在亮红灯后对面车辆都停在停止线时进行左转弯。
- ③ 在亮绿灯后进行非保护左转弯时, 如果发生事故就会以违反安全驾驶义务予以处罚。
- ④ 在亮红灯后进行非保护左转弯时, 如果发生事故就会以违反安全驾驶义务予以处罚。

■ 정답 : 1, 3

247. 在交叉路口准备右转弯时最危险的2大因素是?

- ① 对面道路上的直行车辆
- ② 对面道路上的右转弯车辆
- ③ 右侧道路上正在横穿马路的行人
- ④ 在本车右侧并行的两轮车

■ 정답 : 3, 4

248. 根据《道路交通安全法》规定, 变更车道时安全的驾驶方法是? (选择2项)

- ① 变更车道时要快速进行。
- ② 只能在白色实线区域变更车道。
- ③ 要在不妨碍其他车辆通行的情况下变更车道。
- ④ 只能在白色虚线区域变更车道。

■ 정답 : 3, 4

249. 在交叉路口进行右转弯时最安全的驾驶行为是?

- ① 在进行右转弯前的30米外就要打开转向灯。
- ② 地面上画有白色实线时, 需小心地进行右转。
- ③ 在不妨碍左侧行驶车辆通行的前提下进行右转弯。
- ④ 注意其他交通情况, 快速进行右转弯。

■ 정답 : 1, 3

250. 下列关于超车的驾驶方法中正确的2项是?

- ① 在开始超车时应充分确保左侧空间。
- ② 在高速公路上超车时应该遵守该公路的限速。
- ③ 在确保安全的情况下可从右侧超车。
- ④ 从前方车辆的左侧通行后在后视镜中看不到右侧车辆时快速驶入。

■ 정답 : 1, 2

251. 在公路行驶时安全的2项驾驶方法是？

- ① 尽可能在安全岛内停车较为安全。
- ② 黄色信号灯亮时应遵守信号在交叉路口处停车。
- ③ 为防备前车急刹车，应保持防止追尾的车距。
- ④ 超车时应从前方车辆的左侧通行。

■ 정답 : 3, 4

252. 驶入高速公路时后方有紧急车辆驶来，此时正确的措施是？

- ① 进入加速车道的路肩后加速行驶。
- ② 加速进入高速公路后马上变道，使紧急车辆先通过。
- ③ 在路肩上暂停后让紧急车辆先行之后再进入。
- ④ 在高速公路上停车或慢行会带来危险，所以保持现有速度行驶。

■ 정답 : 3

253. 根据《道路交通安全法》规定，因紧急任务出动的紧急车辆靠近时驾驶员遵守的正确事项是？

- ① 在交叉路口紧急车辆靠近时需在交叉路口内左侧边缘区域暂时停车。
- ② 单向行驶车道上要在左侧或右侧边缘停车。
- ③ 将车速提升到高于紧急车辆后快速通过。
- ④ 原地停车，等紧急车辆通过。

■ 정답 : 2

254. 在交叉路口右转弯的过程中，消防车开着警灯鸣笛驶来时，最安全的驾驶方法是？

- ① 通过交叉路口后，在道路右侧边缘暂时停车。
- ② 马上在当前位置停车。
- ③ 慢行并右转弯。
- ④ 快速通过交叉路口后继续行驶。

■ 정답 : 1

255. 根据《道路交通安全法》规定，下列选项中不属于紧急车辆特例适用对象的是？

- ① 机动车等的限速
- ② 禁止超车
- ③ 禁止加塞
- ④ 保护行人

■ 정답 : 4

256. 紧急车辆需具备其特有结构，并通过鸣笛或打开警灯来告之其正在执行任务。但是无需采取上述措施的紧急车辆是？

- ① 管制非法停车的车辆
- ② 消防车
- ③ 急救车
- ④ 管制超速的警车

■ 정답 : 4

257. 消防车与急救车等车辆想要在禁止超车地带进行超车或超速等行使特权时，需采取什么措施？

- ① 需鸣笛行驶。
- ② 需具备《机动车管理法》规定的车辆安全运行的结构，并打开警灯或鸣笛。
- ③ 需打开前照灯行驶。
- ④ 不用采取特别措施也可以行使特权。

■ 정답 : 2

258. 用普通机动车运送病危患者时, 可以被认定为是紧急车辆的方式是?

- ① 必须得到管辖区警察局长的许可。
- ② 打开前照灯或应急灯行驶。
- ③ 因为是运送病危患者, 所以不需要任何特别的措施。
- ④ 必须要有其他车辆的护送。

■ 정답 : 2

259. 根据《道路交通安全法》规定, 下列选项中可视为紧急车辆的是? (选择2项)

- ① 为了进行维修开往修车厂的消防车
- ② 用于病危患者或伤者的血液运输车
- ③ 护送出院患者的急救车
- ④ 地方警察厅厅长指定的运送紧急邮件的车辆

■ 정답 : 2, 4

260. 根据《道路交通安全法》规定, 作为应急救援的紧急车辆驾驶员可以做哪2件事?

- ① 在引发交通事故时, 无需救助死伤者, 可以继续行驶。
- ② 遇到过马路的行人时可以继续行使无需停车。
- ③ 可以在道路中央或左侧通行。
- ④ 在拥堵的道路上可以加塞。

■ 정답 : 3, 4

261. 以原有的用途运营的紧急车辆驾驶员不可以做哪2种行为?

- ① 不系安全带
- ② 酒后驾车
- ③ 仅限在紧急不得已的情况下可在道路左侧行驶
- ④ 亮红灯时也无需注意交通安全

■ 정답 : 2, 4

262. 需每()年接受一次针对紧急车辆驾驶员实施的定期交通安全教育。()内应填入?

- ① 1
- ② 2
- ③ 3
- ④ 5

■ 정답 : 3

263. 以下是关于紧急车辆的特例说明。其中错误的是?

- ① 可以在禁止超车的地点超车。
- ② 可以在禁止加塞的地点加塞。
- ③ 不能在道路的左侧区域通行，但可以在中间区域通行。
- ④ 可以用超出道路最高限速的速度驾驶。

■ 정답 : 3

264. 以下是关于为输血而紧急行驶的血液运输车的说明，其中错误的是?

- ① 可鸣警笛。
- ② 可在道路左侧区域通行。
- ③ 可超出法定速度行驶。
- ④ 发生事故时继续行驶，不用采取现场措施。

■ 정답 : 4

265. 下列选项中, 根据使用机构的申请, 可由地方警察厅厅长指定的紧急车辆是?

- ① 消防车
- ② 用于修复燃气泄漏等应急作业的天燃气营运车辆
- ③ 救护车
- ④ 血液运输车

■ 정답 : 2

266. 下列选项中, 按照使用人的申请, 不能由地方警察厅厅长指定的紧急车辆是?

- ① 用于交通管制的警车
- ② 用于运输紧急邮件的车辆
- ③ 用于电话修理工程等应急作业的车辆
- ④ 用于出动紧急修复作业、执行民间防卫工作的机关车辆

■ 정답 : 1

267. 根据《道路交通法》规定, 紧急车辆在紧急用途以外不可以使用警灯等的情况是?

- ① 消防车为了预防火灾与进行救助、急救工作巡查时
- ② 消防车为了维修紧急移动时
- ③ 民防卫业务用车辆参与有关原有紧急用途的训练时
- ④ 警车为了预防和查处犯罪行为进行巡查时

■ 정답 : 2

268. 根据《道路交通安全法》规定，下列选项中紧急出动的紧急车辆违反法规的是？

- ① 在单向2车道普通公路上以时速100公里的速度行驶。
- ② 在设有白色实线的隧道里超车。
- ③ 为了右转弯在交叉路口加塞。
- ④ 在发生人员伤亡的交通事故时，因为有紧急任务而没有报警或采取必要措施而继续行驶。

■ 정답 : 4

269. 下列选项中，紧急车辆除了紧急用途以外不能使用警灯的情形是？

- ① 消防车为预防火灾进行巡查时
- ② 道路管理车辆为防止道路危险进行巡查时
- ③ 急救车参加与应急用途有关的训练时
- ④ 警车为预防犯罪进行巡查时

■ 정답 : 2

270. 下列选项中，对应急救援的紧急车辆让行的驾驶方法中正确的2项是？

- ① 所有车辆应靠左侧边缘避让。
- ② 在狭窄坡道上相对行驶时，上坡的紧急车辆应靠道路右侧边缘避让给下坡的车辆让行。
- ③ 在交叉路口附近时应避开交叉路口在道路右侧边缘暂时停车。
- ④ 在单向行驶车道上，如果靠右侧边缘停车会影响通行时可靠左侧边缘停车。

■ 정답 : 3, 4

271. 下列选项中属于紧急车辆的2项是？

- ① 由警用紧急车辆引导的机动车
- ② 虽然隶属调查机构、但用于与调查无关的机动车
- ③ 为拖吊事故车辆而出动的抢险车
- ④ 正在护送病危患者、伤者或运输血液的机动车

■ 정답 : 1, 4

272. 在单向2车道上有儿童校车停在道路上并有儿童或婴幼儿上下车时，驾驶员的正确行为是？

- ① 在靠近儿童校车前暂时停车，确定安全后缓慢驶离。
- ② 从儿童校车左侧驶离。
- ③ 警告儿童校车驾驶员把车移动到安全地点。
- ④ 为了不妨碍儿童或婴幼儿上下车，越过中心线缓慢通过。

■ 정답 : 1

273. 在未设中心线的公路上与儿童校车相对行驶时正确的驾驶方法是？

- ① 代表有儿童乘坐的指示灯闪烁时直接通行。
- ② 代表有儿童乘坐的指示灯闪烁时慢行。
- ③ 代表有儿童乘坐的指示灯闪烁时暂停并确保安全后慢行。
- ④ 代表有儿童乘坐的指示灯闪烁时加速通行。

■ 정답 : 3

274. 在单向2车道上有校车行驶在1车道上，校车显示着车上载有儿童或婴幼儿的标识。此时最安全的驾驶方法是？

- ① 即使第2车道空着也不超车。
- ② 向第2车道超车行驶。
- ③ 鸣笛要求前车让行。
- ④ 观察对向车道状况后越过中心线超车。

■ 정답 : 1

275. 下列关于儿童保护区域的说明中正确的是?

- ① 可以设置在幼儿园或是中学校门口的前面。
- ② 市长等可以限制或是禁止车辆通行。
- ③ 在儿童保护区域内的儿童是指未满12岁的儿童。
- ④ 车辆的行驶速度不能限制在每小时30公里以内。

■ 정답 : 2

276. 根据《交通事故处理特例法》规定, 在儿童保护区域内以每小时40公里的车速行驶途中引发儿童受伤的事故时应受到什么样的处罚?

- ① 只有在受害者提出刑事处分要求的情况下才予以刑事处罚。
- ② 与受害者的处罚意向无关, 予以刑事处罚。
- ③ 已加入综合保险时不受刑事处罚。
- ④ 与受害者达成和解时时不受刑事处罚。

■ 정답 : 2

277. 可申请为儿童校车的机动车限载人数标准是?

- ① 11人以上 ② 16人以上
- ③ 17人以上 ④ 9人以上

■ 정답 : 4

278. 乘用车驾驶员于08:30分在儿童保护区域超出规定时速25公里而违规时会被扣除多少分?

- ① 10分 ② 15分 ③ 30分 ④ 60分

■ 정답 : 3

279. 乘用车对显示载有儿童或婴幼儿的标识、行驶在道路上的校车进行超车时将被扣除几分？

- ① 10分 ② 15分 ③ 30分 ④ 40分

■ 정답 : 3

280. 根据《道路交通法》规定，校车安全教育对象的教育时间标准是？

- ① 1小时以上 ② 3小时以上 ③ 5小时以上 ④ 6小时以上

■ 정답 : 2

281. 对于被称为“移动的红灯”的儿童的行为特征中，下列选项中最不恰当？

- ① 儿童通常想到什么就马上付诸行动。
② 妈妈在马路对面呼唤时，会不确认左右情况马上跑过去。
③ 人行横道亮灯后，通常不观察周围情况就马上跑过去。
④ 儿童具有行动非常缓慢、犹豫不决的倾向。

■ 정답 : 4

282. 乘用车驾驶员于13:00在儿童保护区域违反信号灯时会被处以多少罚款？

- ① 5万韩元 ② 7万韩元 ③ 12万韩元 ④ 15万韩元

■ 정답 : 3

283. 儿童在无监护人陪伴的情况下在道路上玩耍时最正确的驾驶方法是?

- ① 因是儿童的不对, 所以无视并继续前行。
- ② 鸣喇叭吓唬儿童后并继续行驶。
- ③ 应暂时停止。
- ④ 小心避开儿童快速通过。

■ 정답 : 3

284. 儿童穿过无信号灯的人行横道时正确的驾驶方法是?

- ① 应在人行横道前暂时停止。
- ② 无需保护横穿人行横道附近的行人。
- ③ 只要不进入人行横道内, 越过人行横道停止线也可以。
- ④ 避开儿童, 快速通过人行横道。

■ 정답 : 1

285. 校车停在单向1车道道路上, 婴幼儿正在上下车的指示灯在闪烁时, 对面车辆的驾驶员应如何操作?

- ① 暂时停止, 确保安全后再缓慢行驶。
- ② 缓慢行驶, 确保安全后再通过。
- ③ 直接通过也无妨。
- ④ 边鸣喇叭边通过。

■ 정답 : 1

286. 引发交通事故造成儿童受伤的驾驶员应采取的措施中不正确的是?

- ① 应立即停车, 救助儿童。
- ② 只要对儿童采取正确的救助措施就无需报警。
- ③ 警察命令在现场等待时应遵守命令。
- ④ 通过告知其他驾驶员发生交通事故的事实等, 防止再发生事故。

■ 정답 : 2

287. 机动车撞到从小巷中突然跑出来的儿童, 从外观上看儿童似乎没有受伤本人也说“没事儿”。这种情况下驾驶员正确的处理方式是?

- ① 不论什么情况, 驾驶员均按照交通事故处理特例法受到处罚。
- ② 即使儿童说没关系, 但也要联系孩子父母等采取必要措施。
- ③ 儿童说没关系, 所以不用再采取什么措施。
- ④ 是儿童突然跑出来, 驾驶员没有任何责任。

■ 정답 : 2

288. 可由市长等指定为儿童保护区域的地点是?

- ① 幼儿园 ② 小学 ③ 高中 ④ 大学

■ 정답 : 1, 2

289. 下列关于儿童保护区域的说明中正确的是?

- ① 儿童保护区域是指小学主要出入口100米以内道路中的一部分。
- ② 从上午8点到晚上8点, 在儿童保护区域内因泊车、停车违规时, 将加重违章罚款。
- ③ 儿童保护区域内设置的信号灯的步行时间以儿童最快步行速度为标准。
- ④ 从上午8点到晚上8点, 在儿童保护区域中不履行行人保护规定时, 将被扣除2倍的罚分。

■ 정답 : 2, 4

290. 下列关于儿童校车特别保护的说明中正确的2项是？

- ① 对儿童校车进行超车时方法与普通车辆相同。
- ② 儿童在上下车时，在没有中心线的道路上也必须确认从对向车道驶来的车辆后缓慢行驶。
- ③ 儿童在上下车时，在单向1车道道路上从对向车道驶来的车辆也必须暂时停车并确认安全之后缓慢行驶。
- ④ 儿童在上下车时，同一车道以及该车道旁边的车辆必须暂时停车确认安全之后缓慢行驶。

■ 정답 : 3, 4

291. 市长等指定儿童保护区域时可以执行的措施中正确的2项是？

- ① 限制及禁止车辆通行
- ② 禁止泊车、停车
- ③ 设置公共汽车专用车道
- ④ 禁止行人通行

■ 정답 : 1, 2

292. 根据《道路交通安全法》规定，指定儿童保护区域后可将机动车等的行驶速度限制在时速（ ）公里以内。（ ）中应填入？

- ① 30
- ② 40
- ③ 50
- ④ 60

■ 정답 : 1

293. 为了儿童校车的特别保护，驾驶人的正确驾驶方法是？

- ① 在单向1车道的道路上，对向车道的车辆驾驶人也需在靠近儿童校车前暂时停车，确认安全后再慢行。
- ② 儿童校车用闪烁灯示意儿童要下车时，应在儿童校车停车车道以外的车道上快速通行。
- ③ 在未设有道路中心线的道路上，对向车道的车辆不用减速行驶。
- ④ 即使已显示车中载有儿童或婴幼儿的标识，所有车辆的驾驶人也能对儿童校车进行超车。

■ 정답 : 1

294. 下面是关于儿童校车申请的说明。其中正确的2项是?

- ① 如想运营儿童校车, 需事先向道路交通公团申请, 取得申请证明。
- ② 儿童校车应为9座以上(1名儿童视为1座)的机动车。
- ③ 因儿童校车申请证明过于破旧无法使用而再次申请时, 需同时提交儿童校车破旧的申请证明与补发申请书。
- ④ 儿童校车申请证明应粘贴在相应机动车正面玻璃窗左上角的显眼处。

■ 정답 : 2, 3

295. 下列儿童校车驾驶人让婴幼儿上车的方法中正确的是?

- ① 婴幼儿正在上车时应启动指示灯装置以确保安全。
- ② 交通拥堵时暂时关闭指示灯后让婴幼儿上车。
- ③ 很难靠近人行道或路边区域等时, 引导婴幼儿移至校车前并上车。
- ④ 在儿童保护区域可以不系安全带。

■ 정답 : 1

296. 下列关于儿童保护区域的说明中不正确的是?

- ① 罚款与老人保护区域不同。
- ② 在儿童保护区域内可以设置慢行标志。
- ③ 在儿童保护区域内可以禁止停、泊车。
- ④ 发生致使儿童受伤的交通事故时, 无论是否达成协议, 都会受到刑事处罚。

■ 정답 : 1

297. 儿童保护区域中有儿童正在过马路，驾驶人的正确驾驶方法是？

- ① 为保护儿童，暂时停车。
- ② 有监护人陪同时慢行。
- ③ 如儿童尚且处于对向车道附近，则快速驶过。
- ④ 和儿童保持安全距离，从旁边驶过。

■ 정답 : 1

298. 在儿童保护区域内不正确的驾驶方法是？

- ① 以低于30公里/时的速度慢行。
- ② 注意突发状况慢行。
- ③ 看到突然冲到车道上的儿童时暂时停车。
- ④ 儿童在非人行横道处横穿马路时鸣喇叭行驶。

■ 정답 : 4

299. 下面是关于在儿童保护区域内的驾驶方法。其中正确的2项是？

- ① 始终在限速的范围内慢行。
- ② 儿童在过马路时暂停。
- ③ 儿童与监护人在非人行横道处横穿马路时，连续鸣喇叭行驶。
- ④ 正在过马路的儿童站在道路中心线附近时慢行。

■ 정답 : 1, 2

300. 乘用车驾驶人违反儿童校车特别保护规定时应处以多少罚款？

- ① 13万韩元
- ② 9万韩元
- ③ 7万韩元
- ④ 5万韩元

■ 정답 : 2

301. 下列关于儿童校车驾驶人的行为中不正确的是?

- ① 儿童或婴幼儿上下车时需开启指示灯装置。
- ② 出发前应使所有儿童或婴幼儿都系好安全带。
- ③ 儿童或婴幼儿下车后，应确认儿童到达人行道或路边区域等远离机动车的安全场所后再出发。
- ④ 仅通过后视镜确认儿童或婴幼儿上下车后即可出发。

■ 정답 : 4

302. 为了保护儿童而打开安装在校车上的黄色及红色标志灯的说明中正确的是?

- ① 停车时闪烁红灯。
- ② 刹车时闪烁红灯。
- ③ 准备在道路上停车时闪烁黄灯。
- ④ 泊车时同时闪烁黄灯和红灯。

■ 정답 : 3

303. 驶过儿童保护区时下列选项中违反法规的车辆是?

- ① 以时速20公里行驶的乘用车
- ② 慢行的货车
- ③ 停在道路上时开启上下车指示灯的校车
- ④ 靠近停车状态的校车前不暂停，直接通过的两轮车

■ 정답 : 4

304. 下列关于儿童保护区的说明中错误的是?

- ① 有可能属于交通事故处理特例法的12个项目。
- ② 可将车辆的行驶速度限制为时速30公里以内。
- ③ 罚款和扣分是普通公路的3倍。
- ④ 在未被指定为停、泊车禁止区域的儿童保护区可停、泊车。

■ 정답 : 3

305. 根据《道路交通安全法》规定，下列选项中行走方式不安全的儿童是？

- ① 在区分人行道和车道的道路边缘行走的儿童
- ② 在单行道边缘迎着车辆行驶方向行走的儿童
- ③ 在没区分人行道和车道的道路边缘上迎着车辆行驶方向行走的儿童
- ④ 在人行道内右侧行走的儿童

■ 정답 : 1

306. 根据《道路交通安全法》规定，下列关于儿童保护的说明中错误的是？

- ① 在没有人行横道的公路上有儿童过马路时应慢行。
- ② 儿童站在安全岛内时应保持安全距离慢行。
- ③ 在窄巷中有儿童在行走时应保持安全距离慢行。
- ④ 儿童通过人行横道时应在人行横道前暂停。

■ 정답 : 1

307. 根据《道路交通安全法》规定，为了预防交通事故、保护老人的安全而指定的区域是？

- ① 高龄者保护区域 ② 老人福利区域 ③ 老人保护区域 ④ 老人安全区域

■ 정답 : 3

308. 下列选项中，不属于地方警察厅长或警察局长在“老人保护区域”为老人采取的措施是？

- ① 可禁止或限制车马的通行。
- ② 可把胡同道指定及运营为单向行驶车道。
- ③ 可将车马的行驶速度限制在时速30公里以内。
- ④ 在主出入口连接道路上为老人设置路面停车场。

■ 정답 : 4

309. 驾驶员发现老人正在通过未设有信号灯的人行横道时，正确的驾驶方法是？

- ① 从老人走过去的后方行驶。
- ② 暂时停止，老人穿过马路后再通过。
- ③ 鸣喇叭提醒老人注意并继续行驶。
- ④ 先于通过人行横道。

■ 정답 : 2

310. 在住宅区的胡同道路中经过老人旁边时，正确的驾驶方法是？

- ① 保持安全的距离、缓慢行驶
- ② 鸣喇叭提醒老人注意并快速行驶
- ③ 边鸣喇叭边停止
- ④ 快速从老人身边行驶过去

■ 정답 : 1

311. 市长等人不可把以下哪个场所指定为老人保护区域？

- ① 高中
- ② 老人福利设施
- ③ 城市公园
- ④ 生活体育设施

■ 정답 : 1

312. 下列选项中不能指定老人保护区域的是?

- ① 特别市长
- ② 广域市长
- ③ 特区自治道知事
- ④ 地方警察厅长

■ 정답 : 4

313. 下列选项中不符合老年人特征的选项是?

- ① 反射神经迟钝。
- ② 根据经验可迅速判断。
- ③ 缺乏对突发事件的应对能力。
- ④ 因视力和听力减弱导致认知能力降低。

■ 정답 : 2

314. 驾驶员发现有老人从道路边缘过马路时, 以下属于正确的判断是?

- ① 认为老人会慎重观察车辆行驶, 不会随便过马路。
- ② 认为比起行动缓慢的老人车辆可以先通过。
- ③ 认为老人胆小, 打算鸣喇叭提醒老人注意并行驶通过。
- ④ 认为应保持安全距离, 暂时停止, 让老人安全走过去。

■ 정답 : 4

315. 乘用车驾驶员较晚发现了正在过没有信号灯的人行横道的老人，虽进行了紧急刹车但还是撞到了老人（诊断需治疗2周）。下列选项中正确的2项是？

- ① 因没有信号灯，所以机动车驾驶员毫无过失。
- ② 机动车驾驶员具有民事责任。
- ③ 仅对过马路的老人处以刑事处罚。
- ④ 机动车驾驶员具有刑事责任。

■ 정답 : 2, 4

316. 管辖警察局长在老人保护区域内可采取哪两种措施？

- ① 禁止或限制机动车通行
- ② 禁止机动车停车或泊车
- ③ 把行驶速度限制到时速50公里以内
- ④ 禁止或限制行人的通行

■ 정답 : 1, 2

317. 在老人保护区域内从老人身边经过时驾驶人的正确驾驶方法是？

- ① 保持行驶速度、快速通过。
- ② 和老人保持充分距离后慢行通过。
- ③ 鸣喇叭、快速通过。
- ④ 通过时闪烁前照灯。

■ 정답 : 2

318. 在老人保护区域内与保护老人安全最没有关系的是？

- ① 道路反光镜
- ② 减速带
- ③ 加速车道
- ④ 防护栅栏

■ 정답 : 3

319. 夜间通过老人保护区域时，下列关于驾驶人的注意事项中错误的是？

- ① 可能会发生蒸发现象，需谨慎。
- ② 夜间没有老人，可加速通过。
- ③ 注意是否有横穿马路的老人后行驶通过。
- ④ 身穿黑色衣服的老人不显眼，需小心驾驶。

■ 정답 : 2

320. 在老人保护区域内设有信号灯的人行横道上停车后再起步时，下列选项中最安全的驾驶习惯是？

- ① 观察四周、慢慢起步。
- ② 信号改变后立刻起步。
- ③ 有正在过马路的老人时，鸣喇叭督促其快速通过。
- ④ 尽管信号尚未改变，但若没有行人则起步。

■ 정답 : 1

321. 下面是关于老人保护区域的说明。其中错误的是？

- ① 上午8点~晚上8点之间违反限速规定时加重罚款。
- ② 步行信号的时间更长。
- ③ 不能设置路边停车场。
- ④ 为确保老人能够看清楚，可设置大于规定尺寸的信号灯。

■ 정답 : 4

322. 上午11点左右, 乘用车驾驶人在老人保护区域内超出规定时速25km/h时应扣多少分?

- ① 60分 ② 40分 ③ 30分 ④ 15分

■ 정답 : 3

323. 在老人保护区域内靠近设有信号灯的人行横道时, 下列驾驶方法中不正确的是?

- ① 人行横道信号灯改变后老人仍未完全通过时继续等待, 待老人通过后再行驶。
② 预测信号变化, 预备起步。
③ 需以能够安全停车的速度慢行, 按停止信号停车。
④ 需考虑到老人步行速度较慢。

■ 정답 : 2

324. 下面是被指定为老人保护区域后可以采取的措施。其中不正确的是?

- ① 可将老人保护区域内的时速限制在30公里以内。
② 因人行横道信号灯的信号时间与普通人行横道相同, 所以可设置注意标志。
③ 可加设减速带等交通安全设施。
④ 在距离指定保护区域设施主出入口最近的干线道路人行横道上, 可以优先设置并管理信号机。

■ 정답 : 2

325. 上午8点~晚上8点之间, 在老人保护区域内违反交通法规时, 不予加重罚款的是?

- ① 违反信号灯
② 违反禁止停车规定
③ 妨碍人行横道的行人过马路
④ 越过道路中心线

■ 정답 : 4

326. 看见了设置的老人保护区域标志牌。以下驾驶人的驾驶方法中最正确的是？

- ① 减速慢行，注意防备危险情况的发生。
- ② 连续鸣喇叭提醒车辆即将驶入。
- ③ 只注视前方并快速驶过。
- ④ 视野范围内没有老人时加速快速通过。

■ 정답 : 1

327. 根据《道路交通安全法》规定，下列关于老年人保护区的说明中错误的是？

- ① 老年人保护区的指定及管理权属于市长等。
- ② 为保护老人，可将一定区域指定为老人保护区。
- ③ 在老人保护区内可限制车马通行。
- ④ 在老人保护区内不能禁止车马通行。

■ 정답 : 4

328. 下列选项中没有违反《道路交通安全法》的老人是？

- ① 以最短的距离穿过没有人行横道的马路。
- ② 因没有通行车辆，没有从人行横道通过而是横穿马路。
- ③ 紧贴停靠的货车后方穿过马路。
- ④ 在人行道上靠左侧通行。

■ 정답 : 1

329. 根据《道路交通安全法》规定，下列老年驾驶员的驾驶行为中扣分标准最高的违规行为是？

- ① 将车停在人行横道内，妨碍了行人通行。
- ② 因较晚发现行人，紧急刹车后差点让行人摔倒。
- ③ 发现横穿马路的行人后，一边鸣喇叭一边快速从行人前面通过。
- ④ 越过黄色实线的中央线掉头。

■ 정답 : 4

330. 根据《交通弱者移动便利增进法》规定，以下不属于交通弱者的人是？

- ① 儿童
- ② 老人
- ③ 青少年
- ④ 孕妇

■ 정답 : 3

331. 下列关于老年人一般身体特性的说明中不恰当的是？

- ① 行动变慢。
- ② 视力减退，但听力变好。
- ③ 反射神经变迟钝。
- ④ 肌力减退。

■ 정답 : 2

332. 下列关于老年人的驾驶行为中最正确的是？

- ① 目的地较远时通常不乘坐公共交通、而是亲自驾车。
- ② 驾车时为了节省时间中途不休息直接开到目的地。
- ③ 注视路况、遵守规定速度。
- ④ 主要在通行车辆少的夜间驾驶。

■ 정답 : 3

333. 下列选项中最不符合老年驾驶员安全驾驶的行为是?

- ① 驾驶前充分休息。
- ② 定期确认健康状况。
- ③ 开始驾驶之前确认目的地路径。
- ④ 深夜驾车。

■ 정답 : 4

334. 下面是关于泊车的说明。其中正确的是?

- ① 出租车为了等乘客持续处于停车状态，这属于泊车。
- ② 关闭车辆的发动机、暂时离开车后返回的情况不属于泊车。
- ③ 快递车辆为了装载货物持续处于停车状态，这不属于泊车。
- ④ 巴士为了让乘客上下车暂时停车的情况属于泊车。

■ 정답 : 1

335. 下面关于在区分车道和人行道的道路上停车的方法中正确的是?

- ① 必须在车道右侧边缘地带停车。
- ② 应在人行道停车。
- ③ 应在车道的左侧边缘地带停车。
- ④ 必须要停在车道上方便的地方。

■ 정답 : 1

336. 下面有关停、泊车的方法中正确的是?

- ① 夜间在道路上泊车时，可以不按照安全标志的指示进行。
- ② 在按照交通警察的指示进行时，即使妨碍到了其他交通，也可以停、泊车。
- ③ 在未区分车道和人行道的道路上，可以在安全岛泊车。
- ④ 在公交车站乘客上下车时，可以停车但是不能泊车。

■ 정답 : 2

337. 下列关于残疾人停车区域的说明中错误的是?

- ① 贴有残疾人专用停车区域停车标志的车辆上没有残疾人时也能停在残疾人停车区域。
- ② 申领残疾人专用停车区域停车标志的人将其转让、出借等用于其他目的时，可收回标志或限制重新发放。
- ③ 禁止在残疾人专用停车区域堆放物品或挡住通道等妨碍停车的行为。
- ④ 未贴残疾人专用停车区域停车标志的车辆将车停在残疾人专用停车区域时，处以10万韩元的罚款。

■ 정답 : 1

338. 下列关于手动档车辆在下坡路上停车的方法中最正确的是?

- ① 只拉起手刹。
- ② 档位置于1挡后拉起手刹。
- ③ 拉起手刹之后方向盘向道路方向打转。
- ④ 挂倒挡后拉起手刹，将方向盘向人行道的方向打转。

■ 정답 : 4

339. 夜晚机动车驾驶员在道路上停车时应该打开什么灯（两轮车除外）?

- ① 前照灯以及尾灯
- ② 车内照明灯以及示廓灯
- ③ 号码灯以及前照灯
- ④ 尾灯以及示廓灯

■ 정답 : 4

340. 以下是关于设置在道路边缘地带的黄色虚线的说明，其中正确的是？

- ① 既可以泊车也可以停车。
- ② 禁止泊车、可以停车。
- ③ 可以泊车、不能停车。
- ④ 禁止泊车、禁止停车。

■ 정답 : 2

341. 根据《道路交通安全法》规定，下列选项中禁止泊车的地点是？

- ① 根据《停车场法》跨越机动车道和人行道设置的路边停车场
- ② 区分人行道与车道的道路上的泊车区域
- ③ 交叉路口的边缘区域或道路的拐角处五米以内
- ④ 住宅区胡同道路的居住者优先泊车区域

■ 정답 : 3

342. 下列选项中在高速公路禁止停、泊车的情形是？

- ① 因为身体疲劳无法开到服务区，所以在路肩上暂时停车睡觉
- ② 因车辆发生故障在路肩上泊车
- ③ 道路管理人员泊车巡查高速公路等
- ④ 按照警察指示，为了防止危险停车

■ 정답 : 1

343. 下列选项中允许在高速公路停、泊车的情形与方法是？

- ① 交通拥堵时将车停在路肩
- ② 故障时将车停在路肩
- ③ 休息时将车停在路肩
- ④ 高速公路全路段无条件禁止停、泊车

■ 정답 : 2

344. 根据《道路交通安全法》规定，下列选项中禁止停车的区域是？

- ① 从桥梁边缘到10米以内的区域
- ② 从坡道顶部到10米以内的区域
- ③ 从安全岛范围到10米以内的区域
- ④ 从标示出租车停留站的设施所在地到10米以内的区域

■ 정답 : 3

345. 下列关于在高速公路停、泊车的说明中错误的是？

- ① 在收过路费的地方停车缴纳过路费
- ② 为了打电话将车停在路肩
- ③ 警察为了管制交通而命令暂停或停车
- ④ 在车站停车

■ 정답 : 2

346. 在残疾人专用停车区域堆积物品或阻挡通行道路等而妨碍停车时罚款金额是多少？

- ① 4万韩元
- ② 20万韩元
- ③ 50万韩元
- ④ 100万韩元

■ 정답 : 3

347. 下列关于驾驶员遵守事项的说明中中正确的2项是？

- ① 乘客开门下车时安全责任归属乘客。
- ② 为购买物品等暂时停车时也关闭发动机。
- ③ 驾驶员应关闭发动机确保安全后再打开车门下车。
- ④ 不在停车区域时，应采取措施让任何人都可立即移动车辆。

■ 정답 : 2, 3

348. 在陡坡道上泊车时最安全的2种方式是？

- ① 只开启机动车的驻车制动装置。
- ② 将转向器转向道路边缘(靠近车辆的一侧)方向。
- ③ 在坡道的下坡方向，将防滑器等防止机动车滑坡事故的装置放在轮子下。
- ④ 手动挡的机动车挂到空挡

■ 정답 : 2, 3

349. 以下是对停车、泊车方法的说明。其中正确的2项是？

- ① 要在公路暂时停车时，应停在车道右侧边缘。
- ② 在用安全标志指定停车、泊车方法的地方无需按其方法操作。
- ③ 在平地上，若为手动挡车辆只需把档位放在1挡或倒档位置即可。
- ④ 在坡道上应使用防滑器。

■ 정답 : 1, 4

350. 下列选项中属于泊车的2项是？

- ① 车辆出现故障一直处于停止状态的情况
- ② 为了防止危险情况的暂时停车
- ③ 虽未超过5分钟但驾驶员已离开车辆无法立即行驶的状态
- ④ 在地铁站暂时停车让朋友下车时

■ 정답 : 1, 3

351. 下列选项中属于停车的2项是?

- ① 在出租车候客点以停车状态等待乘客时。
- ② 驾驶员离开车辆装载货物无法立即驾驶时。
- ③ 为了等待信号灯而停车时。
- ④ 停车向路人问路时。

■ 정답 : 3, 4

352. 根据《道路交通安全法》规定, 在下列选项中可以停车的2个地点是?

- ① 距离交叉路口边缘9米的地方
- ② 距离人行横道9米的地方
- ③ 距离应急灭火装置设置地点处9米的地方
- ④ 距离安全岛向周边各9米的地方

■ 정답 : 1, 3

353. 根据《道路交通安全法》规定, 在下列选项中可以泊车的2个地点是?

- ① 距离人行横道7米的地方
- ② 距离室外消防栓7米的地方
- ③ 距离应急灭火装置设置地点7米的地方
- ④ 距离安全岛7米的地方

■ 정답 : 2, 3

354. 在没有交通管制的十字路口处左转弯时最正确的驾驶方法是?

- ① 即使有其他先行的车辆也可以慢行小心进行左转弯。
- ② 给路宽较宽的车道的车辆让行。
- ③ 给直行的车让行，但比右转弯的车有优先权。
- ④ 先沿着道路的中心线慢行，然后在交叉路口中心外侧处左转。

■ 정답 : 2

355. 下列关于环形交叉口的通行方法中错误的是?

- ① 驶入时要减速慢行。
- ② 在礼让线暂时停车后慢行驶入。
- ③ 驶入车辆有优先权，正在转弯的车辆要让行。
- ④ 按照逆时针方向行驶。

■ 정답 : 3

356. 在没有信号灯的交叉路口有车辆先驶入交叉路口进行左转弯时，下列选项中正确的是?

- ① 直行的车辆边注意边继续行驶。
- ② 右转弯的车辆慢行右转。
- ③ 直行车辆与右转弯车辆都应对左转弯车辆让行。
- ④ 从路面较窄的公路驶来的车辆需慢行通过。

■ 정답 : 3

357. 在交叉路口左转弯时最正确的通行方法是?

- ① 沿着中心线慢行，向交叉路口中心内侧左转弯。
- ② 沿着中心线快行，向交叉路口中心内侧左转弯。
- ③ 沿着中心线快行，向交叉路口中心外侧左转弯。
- ④ 沿着中心线慢行，按照驾驶员的意愿左转弯。

■ 정답 : 1

358. 通过未进行交通管制的交叉路口的正确驾驶方法是？

- ① 在无法确认左右两侧情况的时候，必须慢行。
- ② 直行车辆要先让左转车辆优先行驶。
- ③ 直行车辆要先让右转车辆优先行驶。
- ④ 如果交叉路口的道路宽度大于正在行驶的道路，则必须慢行。

■ 정답 : 4

359. 为了道路通畅与安全，下列选项中需设置环形交叉口的是？

- ① 在交叉路口直行或转弯的机动车频繁引发交通事故的地方
- ② 驶入交叉路口的道路中大于单向3车道的超过一个以上的地方
- ③ 环形交叉口的交通量超过处理量的地点
- ④ 在需要交通信号联动的路段中，如果是信号交叉口可降低联动效果的地方

■ 정답 : 4

360. 下列选项中符合环形交叉口的说明是？

- ① 环形交叉口的基本运作原理在于管制。
- ② 环形交叉口内车辆拥挤无法驶入时，需一直在礼让线上等待。
- ③ 设置信号灯引导车辆，处理交叉路口的交通量。
- ④ 在环形交叉口内行驶的车辆需对驶入的车辆让行。

■ 정답 : 2

361. 为了让驾驶员正确进行左转弯，交叉路口内用白色虚线标示的路面标志是什么？

- ① 导向车道线 ② 延长线 ③ 指示线 ④ 管制线

■ 정답 : 1

362. 在交叉路口进行左转弯时车辆驾驶员最安全的驾驶方法是？（选择2项）

- ① 应注意对面对向车道停止的车辆。
② 应注意对面对向车道右转弯的车辆。
③ 应注意在同一方向向右转弯的车辆。
④ 也应注意一同向左转弯的旁边车辆。

■ 정답 : 2, 4

363. 在交叉路口向左或向右转弯时最安全的驾驶方法是？（选择2项）

- ① 右转弯时要先向道路右侧边缘慢行，然后右转弯。
② 在交通拥堵的道路左转弯时，无需按照左侧导向车道线行驶需快速通过。
③ 左转弯时先沿着道路的中心线慢行，然后在交叉路口的中心内侧进行左转弯。
④ 在画有导向车道线的交叉路口左转弯时，左车轮要在导向车道线内侧行驶。

■ 정답 : 1, 3

364. 下列关于环形交叉口的通行方法中正确的是？

- ① 正在环形交叉口内行驶的车辆优先。
② 欲驶入环岛的车辆优先。
③ 进出的车辆优先。
④ 无车辆优先顺序。

■ 정답 : 1

365. 下列选项中不属于环形交叉口禁止行为的是?

- ① 停车 ② 泊车 ③ 慢行与暂时停车 ④ 超车

■ 정답 : 3

366. 在环形交叉口以交通岛为中心行驶时下列选项中正确的是?

- ① 按顺时针方向行驶。
② 按逆时针方向行驶。
③ 行驶方向驾驶人自行判断。
④ 横穿行驶。

■ 정답 : 2

367. 下列关于环形交叉口的说明中不正确的是?

- ① 车辆需慢行驶入交叉口。
② 正在交叉口内行驶的车辆优先。
③ 因没有信号, 所以可连续驶入车辆。
④ 进出环形交叉路口时要打开左转向灯。

■ 정답 : 4

368. 下列关于环形交叉口的通行方法中正确的2项是?

- ① 驶入交叉路口前暂时停车并观察，交叉路口内没有从左侧驶来的车辆时即可驶入。
- ② 在环形交叉口内应按顺时针方向行驶。
- ③ 驶入环形交叉口时应打开左转向灯。
- ④ 驶入环形交叉口后尽可能不要停车。

■ 정답 : 1, 4

369. 下列关于暂时停车的场所中正确的是?

- ① 道路的弯曲路段
- ② 坡道坡度大的下坡路
- ③ 坡道顶端附近
- ④ 未实施交通管制、流量大的交叉路口

■ 정답 : 4

370. 按照《道路交通安全法》规定，以下哪个地点一定要暂时停车?

- ① 未进行交通管制、无法确认左右情况的交叉路口
- ② 绿灯亮起的交叉路口
- ③ 流量大的桥梁上或隧道内
- ④ 道路的弯曲路段或坡道的顶端附近

■ 정답 : 1

371. 《道路交通安全法》规定的暂时停车场所是?

- ① 隧道内及桥梁上
- ② 未设置交通信号灯、流量大的交叉路口
- ③ 坡道坡度大的下坡路
- ④ 道路弯曲路段

■ 정답 : 2

372. 下列关于通过铁路道口的方法中正确的是?

- ① 必须在铁路道口前暂时停车观察，确定安全后通行。
- ② 只要没有火车通过就可以快速通行。
- ③ 在铁路道口栏杆快放下来时应快速通行。
- ④ 即使设有信号机等按照信号行驶时也必须暂时停车。

■ 정답 : 1

373. 车辆可以进入铁路道口的情况是?

- ① 当铁路道口的栏杆为放下的状态时
- ② 当铁路道口的栏杆为将要放下的状态时
- ③ 铁路道口警报器响起时
- ④ 按照信号机等信号指示行驶时

■ 정답 : 4

374. 在高速公路出入口最安全的驾驶方式是?

- ① 路口交通堵塞，为预防事故要急刹车，让后面的车辆无法接近。
- ② 在出入口会对速度有些迟钝，要暂时停车后再出发。
- ③ 错过出入口时，使用下一个出入口。
- ④ 紧急加速进入出入口。

■ 정답 : 3

375. 前方车辆的驾驶员左臂水平伸展伸出左侧车窗的时候，应该采取的最正确的措施是？

- ① 因为预料到前车会倒车，所以暂时停车。
- ② 因为预料到前车会停车，所以暂时停车。
- ③ 仔细观察道路上的车流之后，超车到前车的前面。
- ④ 因为预料到前车会变更车道，所以减速慢行。

■ 정답 : 4

376. 驾驶员在准备右转弯的时候使用的手信号是？

- ① 左臂向左侧窗外伸出，弯曲手肘垂直向上抬起。
- ② 左臂水平伸开向左车窗外伸出。
- ③ 右臂水平伸开向右侧车窗外伸出，手向前后摆动。
- ④ 左臂伸出车窗外，向下成45度角。

■ 정답 : 1

377. 根据信号灯的指示准备进入交叉路口时交通警察做出停车的手信号。下列选项当中最安全的驾驶方法是？

- ① 在停止线前暂时停车。
- ② 急刹车停车。
- ③ 根据信号灯行驶。
- ④ 缓缓进入交叉路口。

■ 정답 : 1

378. 中心线是画有黄色虚线与黄色实线的双线时，以下对超车的说明中正确的是？

- ① 不管是黄色实线还是黄色虚线都不可越过中心线超车。
- ② 可以在黄色虚线处越过中心线超车。
- ③ 确认安全后，不管是黄色实线还是黄色虚线都可以超车。
- ④ 可以在黄色实线处越过中心线超车。

■ 정답 : 2

379. 行驶到铁路道口时，下列选项中最恰当的通行方法是？

- ① 火车不来时直接通过。
- ② 暂时停车，确认安全后再通过。
- ③ 以限速以上的速度通过。
- ④ 道口栏杆要放下时快速通过。

■ 정답 : 2

380. 要朝左侧变更车道时，下列选项中正确的是？

- ① 在准备变更车道的30米(在高速公路为100米)外打开左转向灯。
- ② 在准备变更车道的10米(在高速公路为100米)外打开左转向灯。
- ③ 在准备变更车道的20米(在高速公路为80米)外打开左转向灯。
- ④ 在要变更车道的地点打开左转向灯。

■ 정답 : 1

381. 根据《道路交通安全法》规定，下列关于机动车等的速度的说明中错误的是？

- ① 根据普通公路、机动车专用车道、高速公路和车道总数，个别规定法定速度。
- ② 在普通公路上无最低速度限制。
- ③ 天气异常时需减速行驶。
- ④ 可变限速标志规定的最高速度与其他安全标志规定的最高速度不同时，应遵守其他安全标志。

■ 정답 : 4

382. 根据《道路交通安全法》规定，下列关于机动车等的速度的说明中错误的是？

- ① 由于机动车等的速度越快，交通事故的危险性会越大，所以要限制车辆的超速。
- ② 在机动车专用车道和高速公路上，为了提高道路使用效率限制了最低速度。
- ③ 警察厅长或地方警察厅长为了道路的安全和通畅可另行限制速度。
- ④ 高速公路的限速权属于地方警察厅长、高速公路以外道路的限速权属于警察厅长。

■ 정답 : 4

383. 下列选项中违反信号灯规定的2项是？

- ① 红灯时，越过停止线后停止。
- ② 在到达交叉路口前亮起黄灯时进入交叉路口。
- ③ 黄灯闪烁时，边注意边行驶。
- ④ 红灯闪烁时，在停止线前暂时停车后边注意其他车辆边行驶。

■ 정답 : 1, 2

384. 在单向3车道道路的交叉路口处右转弯的时正确的2种通行方法是？

- ① 进行右转弯时，在进入交叉路口之前打开转向灯告知周围本车的行驶方向。
- ② 即使右侧道路的人行横道信号灯是绿色，但人行横道上没有行人就可以直接通过。
- ③ 在人行横道的车辆辅助信号灯是红色的情况下，即使没有行人也不能直接通过。
- ④ 若为单向3车道道路，则在第2车道上向右转比较安全。

■ 정답 : 2, 3

385. 准备在交叉路口进行左转弯。在进入交叉路口之前最安全的驾驶方法是（选择2项）？

- ① 提前减速后，在第1车道或沿着左转弯车道慢行。
- ② 在距离交叉路口30多米外打开转向灯。
- ③ 一边注意车辆信号灯，一边快速行驶。
- ④ 必须跟着前方左转弯车辆行驶。

■ 정답 : 1, 2

386. 变更车道时, 下列选项中安全的驾驶方法是 (选择2项)?

- ① 与当前行驶车道的后方车辆有一定距离时, 保持车速并变更车道。
- ② 与当前行驶车道的后方车辆有一定距离时, 减速并变更车道。
- ③ 与当前行驶车道的后方车辆间的车距较近时, 减速让后方车辆先过。
- ④ 与当前行驶车道的后方车辆间的车距较近时, 快速变道。

■ 정답 : 1, 3

387. 下列关于划分车道的车道线的说明中正确的2项是?

- ① 车道上同时有实线和虚线时, 不能从实线向虚线方向变道。
- ② 车道上同时有实线和虚线时, 可从实线向虚线方向变道。
- ③ 车道上同时有实线和虚线时, 不能从虚线向实线方向变道。
- ④ 车道上同时有实线和虚线时, 可从虚线向实线方向变道。

■ 정답 : 1, 4

388. 根据《道路交通安全法》规定, 红灯闪烁时的含义是?

- ① 车马应注意周围车流情况并慢行。
- ② 车马可边注意周围车流情况边行驶。
- ③ 车马可边注意安全标志边倒车。
- ④ 车马在停止线前暂时停车后, 可一边注意周围车流边行驶。

■ 정답 : 4

389. 下面是对非保护左转标志的交叉路口的说明。其中正确的是?

- ① 无关信号灯，均可边注意周围车流情况边左转。
- ② 亮红灯时可边注意周围车流情况边左转。
- ③ 亮绿灯时可边注意周围车流情况边左转。
- ④ 亮黄灯时可边注意周围车流情况边左转。

■ 정답 : 3

390. 根据《道路交通安全法》规定，下列关于机动车等的速度的说明中正确的是?

- ① 高速公路的最低限速为50公里/时。
- ② 虽然机动车专用车道设有最高限速，但没有最低限速。
- ③ 普通公路设有最低限速和最高限速。
- ④ 单向2车道以上的高速公路的最高限速与车型无关，全都相同。

■ 정답 : 1

391. 以下关于超车的说明中正确的是?

- ① 前车正在进行超车时自己也可以超车。
- ② 在隧道内超车时从右侧驶入。
- ③ 在单向1车道道路上仅可在黄色实线区域内超车。
- ④ 交叉路口内禁止超车。

■ 정답 : 4

392. 下面是关于道路中心线的说明。其中正确的是?

- ① 黄色实线为单线时可超车。
- ② 在可变车道内是信号机指示的行驶方向的最左侧黄色虚线。
- ③ 在单向1车道的地方公路上，公交车为使乘客上下车而停车时，可越过黄色实线的道路中心线超车。
- ④ 路宽至少4.75米以上时方可设置道路中心线。

■ 정답 : 2

393. 下面是关于道路名称地址赋予方法的说明。其中错误的是？

- ① 道路名称是赋予每个路段的名称，在主名词后加上道路区分标准大路、路、街。
- ② 建筑物门牌号是从道路起点以20米为间隔，左侧使用单数、右侧使用双数。
- ③ 路段以东 → 西、南 → 北方向设置。
- ④ 赋予建筑物门牌号时，使用临近主出入口的道路基础编号。

■ 정답 : 3

394. 根据《道路交通法》规定，可以在单向三车道高速公路的2车道行驶的车辆是？

- ① 货车
- ② 特殊车辆
- ③ 建筑机械
- ④ 小・中型面包车

■ 정답 : 4

395. 在单向三车道高速公路上，第1车道因车流量增大等原因只能以时速()公里以下速度行驶时，即使不进行超车也能通行。()里应填入？

- ① 80
- ② 90
- ③ 100
- ④ 110

■ 정답 : 1

396. 下列车型中可以在单向4车道普通公路的第1车道上通行的是?

- ① 中型面包车
- ② 载重4.5吨的货车
- ③ 两轮车
- ④ 建筑机械

■ 정답 : 1

397. 在单向3车道高速公路上, 装载量为3吨的货车应行驶的车道是?

- ① 第1车道
- ② 第2车道
- ③ 第3车道
- ④ 所有车道

■ 정답 : 3

398. 在单向4车道高速公路以外的公路上, 以下对各车道通行车辆的说明中错误的是?

- ① 中型面包车使用第1车道行驶
- ② 乘用车使用第2车道行驶
- ③ 大型面包车使用第1车道行驶
- ④ 建筑机械车辆使用第4车道行驶

■ 정답 : 3

399. 在交通畅通的单向3车道高速公路上, 下列关于乘用车超车方法的说明中错误的是?

- ① 乘用车为了超车将车道变更为第1车道后一直在第1车道上行驶。
- ② 在第3车道行驶的大型面包车使用第2车道超车。
- ③ 小型面包车使用第1车道超车。
- ④ 5吨货车使用第2车道超车。

■ 정답 : 1

400. 下列关于各车道通行车辆的说明中错误的是?

- ① 所有车辆都能在指定车道的右侧车道通行。
- ② 所有乘用车在超车时, 应从通行标准指定车道旁边的右侧车道超车。
- ③ 在单向四车道普通公路上, 乘用车的行驶车道为所有车道。
- ④ 在单向四车道高速公路上, 大型货车的行驶车道为右侧车道。

■ 정답 : 2

401. 以下哪种情况下可以使用普通公路的公共汽车专用车道?

- ① 12座面包车载有6人时
- ② 韩国国内游客面包车载有25名游客时
- ③ 12座面包车载有员工行驶时
- ④ 出租车为了让乘客上下车而临时通行时

■ 정답 : 4

402. 可以在高速公路公共汽车专用车道通行的9座乘用车仅在载有()名以上时方可通行。()内应填入?

- ① 3 ② 4 ③ 5 ④ 6

■ 정답 : 4

403. 下列关于单向三车道高速公路通行车辆的说明中正确的是?

- ① 乘用车的行驶车道是第1车道, 应该在第1车道行驶。
- ② 行驶车道是第2车道的小型面包车超车时应使用第1车道。
- ③ 1车道是公共汽车专用车道时, 乘用车应在2车道行驶。
- ④ 载重1.5吨以下的货车应在1车道行驶。

■ 정답 : 2

404. 在单向三车道高速公路上乘用车行驶在2车道上。可以超车的车道是?

- ① 1车道 ② 2车道 ③ 3车道 ④ 1、2、3车道均可

■ 정답 : 1

405. 下列关于单向4车道高速公路上超车方法的说明中错误的是?

- ① 超车时可以使用各车道通行车辆指定车道的左侧车道通行。
② 超车后应回到原先行驶车道上。
③ 超车时可以超速行驶。
④ 超车时要使用转向灯。

■ 정답 : 3

406. 根据《道路交通安全法》规定, 下列关于各车道通行车辆标准的说明中错误的是?

- ① 低速行驶时, 可从通行车道的右侧车道通行。
② 所有机动车都能从单向二车道高速公路的1车道超车。
③ 在单向行驶车道上从右侧起是第1车道。
④ 货车可以在单向三车道高速公路的右侧车道通行。

■ 정답 : 3

407. 下列关于单向3车道高速公路通行车辆标准的说明中正确的是?

- ① 第1车道是第2车道的乘用车用来超车的车道。
- ② 第1车道是面包车的行驶车道。
- ③ 路肩是紧急车辆和拖吊车的行驶车道。
- ④ 设有公共汽车专用车道时,第2车道是货车的行驶车道。

■ 정답 : 1

408. 拖拉机在单向1车道普通公路上慢行时,最适当的超车方法是?

- ① 使用车道右侧边缘区域超车。
- ② 在标有黄色虚线中心线的地方,对面没有车辆开过来时超车。
- ③ 尽量与拖拉机并排后超车。
- ④ 在标有黄色实线中心线的地方,对面没有车辆开过来时超车。

■ 정답 : 2

409. 下面关于水膜现象的原因及预防措施中正确的是?

- ① 即使出现水膜现象,方向盘的操作结果与平时没有差异。
- ② 越是新的轮胎出现水膜现象的可能性越大。
- ③ 轮胎与路面之间的接触面越小,产生水膜现象的可能性越大。
- ④ 为了防止水膜现象发生,最重要的是在雨天减速行驶。

■ 정답 : 4

410. 当车辆行驶于结冰路面时正确的驾驶方法是?

- ① 把方向盘打到侧滑的方向。
- ② 手动挡车辆需将档位置于高档。
- ③ 把方向盘打到相反方向。
- ④ 利用手刹停车。

■ 정답 : 1

411. 在有浓雾的公路驾车时，最安全的驾驶方法是？

- ① 在弯道或交叉路口等处鸣笛，使其他车辆避让后快速行驶。
- ② 浓雾弥漫时，为了扩展视野范围需打开远光灯。
- ③ 在有浓雾的公路上只打开雾灯有助于安全行车。
- ④ 能确保一定程度视野时，利用隔离护栏、中心线、车道等可以确认车辆位置的标志物慢行。

■ 정답 : 4

412. 下列关于行驶在冰雪路面想要停车时，最安全的制动方法是？

- ① 用力踩下刹车踏板。
- ② 同时操作脚刹和手刹，使车辆快速停止。
- ③ 仅使用发动机制动进行减速，直至车辆完全停止。
- ④ 利用发动机制动减速后，分几次轻踩刹车踏板。

■ 정답 : 4

413. 雨天行驶于弯道时，最安全的驾驶方法是？

- ① 比平时减速，扩大安全距离。
- ② 不必在意天气，和平常一样驾驶。
- ③ 雨天时加速行驶。
- ④ 雨天时只要保持好安全距离即可。

■ 정답 : 1

414. 在碎石路段或凹凸不平的公路行驶时，最安全的驾驶方法是？

- ① 加快速度快速行驶。
- ② 使用与平坦车路一样的车速前行。
- ③ 驾驶时尽可能地轻握方向盘。
- ④ 不做急刹车、急加速、急转弯等操作。

■ 정답 : 4

415. 因浓雾可视距离缩短时，最安全的驾驶方法是？

- ① 驾驶时打开前照灯或雾灯来告知其他车辆自己的位置。
- ② 缩短与前车的距离，跟随前车行驶。
- ③ 在看不清前方时，可越过中心线行驶。
- ④ 在浓雾地带加快速度迅速通过。

■ 정답 : 1

416. 行驶在下坡路的过程中刹车无法制动时，最恰当的处理方法是？

- ① 即刻关闭发动机。
- ② 改为低挡后从车上跳下。
- ③ 左右操作方向盘以减慢车速。
- ④ 改为低挡减慢车速后，使车体撞向护栏或墙壁。

■ 정답 : 4

417. 在隧道内行驶途中目击机动车事故引起的火灾时，最正确的应对方法是？

- ① 即使车辆可以通行，但是停车更为安全。
- ② 在车辆无法通行的情况下，停车后在车内等待灭火。
- ③ 车辆无法通行时，把车停好拔出钥匙后进行躲避。
- ④ 当浓烟较多时，尽量压低身子，跟着指示灯向产生浓烟的相反方向移动。

■ 정답 : 4

418. 行驶急弯道时最安全的驾驶方法是?

- ① 在急弯道内快速转动方向盘并踩刹车减慢车速。
- ② 在急弯道之前的直行道路上充分减慢车速。
- ③ 由于急弯道是危险区域，因此需紧急加速迅速通过。
- ④ 在急弯道未设置禁止超车标志的情况下可快速超车。

■ 정답 : 2

419. 因过度使用脚刹引起摩擦热，使制动液中产生气泡导致刹车失灵，该现象被称作是?

- ① 驻波 (Standing wave)
- ② 气阻 (Vapor lock)
- ③ 抓地 (Road holding)
- ④ 转向不足 (Under steering)

■ 정답 : 2

420. 在有可能突发大风或风暴的地区行驶时，最安全的驾驶方法是?

- ① 需加速驶离隧道口、桥上等地点。
- ② 刮大风有可能使车辆脱离车道，所以必须要顺风开车。
- ③ 韩国没有刮大风的道路，所以无需担心。
- ④ 驾驶者必须要减速、集中精力安全行驶。

■ 정답 : 4

421. 开向高速公路出口时，最安全的驾驶方法是？

- ① 每次变更一个车道，向设有高速公路出口的车道移动。
- ② 尽可能地提速快速开向出口处。
- ③ 右侧车道有车辆慢行时，暂时停车之后再驶向出口。
- ④ 旁边车道没有车辆时，一次横穿多个车道驶向出口。

■ 정답 : 1

422. 自动变速器车辆在上坡路上泊车时，最正确的方法是？

- ① 档位置于D挡，拉起手刹。
- ② 档位置于P挡，拉起手刹。
- ③ 档位置于R挡，拉起手刹。
- ④ 档位置于N挡，拉起手刹。

■ 정답 : 2

423. 发生地震时驾驶员的下列处理方式中最不恰当的是？

- ① 车辆提速后快速通过该区域。
- ② 无法驾车驶离时靠边停车后逃生。
- ③ 如果是泊车状态的车辆，为了方便移动车辆，逃生时不要拔出钥匙。
- ④ 打开广播收听灾难相关播报。

■ 정답 : 1

424. 刮起强风或旋风时最正确的驾驶方法是（选择2项）？

- ① 双手紧握方向盘，维持车道。
- ② 不顾刮风的情况，提升速度行驶。
- ③ 在标志牌、信号灯或林荫树附近泊车。
- ④ 在高山地带、桥梁上方、隧道出入口因强风的危险会更大，需更加注意。

■ 정답 : 1, 4

425. 在碎石路段行驶时，以下最安全的2种行动是？

- ① 用一只手尽量放松地握住方向盘为佳。
- ② 尽量加快速度行驶。
- ③ 为了不给车体太大压力，减速慢行为佳。
- ④ 因车胎抓地力降低，慢行为佳。

■ 정답 : 3, 4

426. 雨天在高速公路行驶时，看到前方车辆停车后本车急刹车会造成的2种现象是？

- ① 急刹车时，车胎与地面的阻力变大不会打滑。
- ② 雨天路面的摩擦力变小，刹车距离变长。
- ③ 雨天路面的摩擦力变小，滑动距离变短。
- ④ 与干燥的路面相比，摩擦力变小，方向盘不好掌握。

■ 정답 : 2, 4

427. 驶向坡路顶端附近时，安全驾驶的2种行为是？

- ① 为下坡路做准备，提前加速。
- ② 在坡路顶端时，必须暂停后再出发。
- ③ 与前面的车辆保持足够的安全距离。
- ④ 因为无法判断前方路况，需谨慎驾驶小心慢行。

■ 정답 : 3, 4

428. 行驶在下坡路时，最安全的2种驾驶方法是？

- ① 与挡位没有任何关系，只利用刹车踏板下坡。
- ② 发生危急情况时马上使用手刹。
- ③ 以上坡时的相同挡位下坡。
- ④ 适当地运用脚刹与发动机制动下坡。

■ 정답 : 3, 4

429. 下列选项中，与雨季应特别检查的项目最相去甚远的是？

- ① 刮水器
- ② 轮胎
- ③ 前照灯
- ④ 防冻液

■ 정답 : 4

430. 下列关于坑洼（道路凹陷处）的说明中正确的是？

- ① 夏季集中暴雨等原因容易形成坑洼。
- ② 为预防坑洼引起的损失需提速行驶。
- ③ 在道路表面温度升高的状态下，大型卡车等在人行横道附近急刹车时容易形成坑洼现象。
- ④ 因道路干燥的状态下容易看到坑洼，所以直接通过也无妨。

■ 정답 : 1

431. 下列选项中与集中暴雨时的安全驾驶方法最相去甚远的是？

- ① 驾驶时开启车辆的前照灯与尾灯。
- ② 汽车暖风设置为内部空气循环模式状态。
- ③ 为预防水膜现象，需确认轮胎的磨损程度。
- ④ 雨天驾驶时应确保2倍以上的安全距离。

■ 정답 : 2

432. 在伴有强风和暴雨等发生台风的道路上行驶时，下列关于驾驶员的处理方式中不恰当的是？

- ① 制动性能会显著降低，与前车的距离需保持在平时的2倍以上。
- ② 通过浸水区域时中间不能停，以原速通过。
- ③ 停车时要避开浸水危险性高的江边或河川等场所。
- ④ 停在墙边或大型牌匾下比较安全。

■ 정답 : 4

433. 下列有关雪天驾驶的说明中错误的是？

- ① 为确保驾驶人视野，只需清除挡风窗上的积雪后行驶即可。
- ② 应同时使用脚刹和发动机制动。
- ③ 如已安装防滑链，则以低于30公里/小时的速度行驶比较安全。
- ④ 行驶时要比平时确保更充分的安全距离。

■ 정답 : 1

434. 下列有关黑冰（Black Ice，薄薄的冰面）的说明中错误的是？

- ① 慢行时，即使出现黑冰也比较容易应对。
- ② 容易在阴凉处或隧道出入口出现。
- ③ 冬季凌晨或清晨容易出现。
- ④ 驾驶人可轻松通过肉眼发现并应对。

■ 정답 : 4

435. 在大雾弥漫的道路上行驶时最正确的驾驶方法是？

- ① 行驶速度以法定速度为基准始终减速20%。
- ② 经过弯道时不开启前照灯。
- ③ 确保充分的安全距离，并通过声音等确认周围情况。

④ 相信自己的驾驶能力行驶。

■ 정답 : 3

436. 下列选项中与大雾弥漫的道路上的正确驾驶方法最相去甚远的是？

- ① 为告知后车我的位置，开启示廓灯、尾灯、前照灯。
- ② 为告知前车我的位置，需开启远光灯。
- ③ 确保安全距离，减速行驶。
- ④ 结有水气时，启动刮水器，以确保视野清晰。

■ 정답 : 2

437. 根据《道路交通安全法》规定，单向二车道机动车专用车道因下雨路面湿滑时减速驾驶的速度是？

- ① 60公里/时
- ② 64公里/时
- ③ 72公里/时
- ④ 80公里/时

■ 정답 : 3

438. 打雷时安全的驾驶方法是？(选择2项)

- ① 将机动车暂时停在大树下。
- ② 关闭车窗，留在机动车内。
- ③ 建筑物附近因其墙面的雨水可能漏电，所以应该避开。
- ④ 如果机动车被雷击中会非常危险，所以需在车外躲避。

■ 정답 : 2, 3

439. 驾驶途中驾驶员突然出现短暂失明的现象，下列说明正确的是？

- ① 视力低下的驾驶员经常发生短暂失明的现象。
- ② 短暂失明现象只发生在高速公路。
- ③ 主要因相同方向的车辆造成。
- ④ 驾驶过程中频繁发生的短暂失明现象是增加事故危险的因素。

■ 정답 : 4

440. 在夜间由迎面驶来的车辆发出的前照灯光线会十分耀眼，避开光照的正确方法是？

- ① 不要直视前照灯的灯光，而是看着本车车道的正下方。
- ② 不要直视前照灯的灯光，而是看着道路右侧的边缘地带。
- ③ 眯起眼睛，看着本车车道的正下方。
- ④ 眯起眼睛，看着左侧的边缘地带。

■ 정답 : 2

441. 夜间驾驶时最安全的驾驶方法是？

- ① 即使太阳落山、天色逐渐变暗，只要驾驶员能够确保视野清晰，也可以不开启前照灯。
- ② 夜间与白天相比视力下降、视野变窄，需减速驾驶。
- ③ 车距要保持在本车前照灯灯光能够照射到前车后部。
- ④ 将视线尽可能集中在近处，以便于发现障碍物。

■ 정답 : 2

442. 在以下选项中哪种情况不需要打开机动车所有(摩托车除外)的前照灯、示廓灯和车尾灯?

- ① 夜晚在道路中停车的情况
- ② 在起浓雾的道路中停车的情况
- ③ 因违章停车在道路上被拖吊的情况
- ④ 在隧道内道路上行驶的情况

■ 정답 : 3

443. 在高速公路上, 因为机动车故障无法行驶时最正确的措施是?

- ① 启动应急灯后在车内联系保险公司。
- ② 打开引擎盖和后备箱, 确认哪里出故障后叫来救援车。
- ③ 下车后到车辆后方挥手, 向其他车辆求助。
- ④ 如果故障车辆可以移动就移到路肩, 在安全地点求助。

■ 정답 : 4

444. 车辆行驶中发生故障时, 以下叙述中最正确的是?

- ① 发动机突然熄火时, 刹车功能与平常是相同的。
- ② 发动机突然熄火时, 动力转向与平常是相同的。
- ③ 为防止后车追尾, 设置故障车辆标志(安全三角架)。
- ④ 与隧道外边相比隧道内更安全, 所以应在隧道内停车。

■ 정답 : 3

445. 晚上在高速公路行驶途中机动车发生故障无法行驶时, 要摆放故障车辆标志(安全三脚架)和在()内可以识别的信号火炬等。()内该填哪个?

- ① 四方200米处
- ② 四方300米处
- ③ 四方400米处
- ④ 四方500米处

■ 정답 : 4

446. 根据《道路交通安全法》规定, 机动车晚上在高速公路上发生故障时, 要摆放安全三脚架和四方()米处能够识别的信号火炬。()内应填入?

- ① 100
- ② 200
- ③ 500
- ④ 600

■ 정답 : 3

447. 在高速公路上发生车祸时, 为了防止2次事故最正确的措施要点是?

- ① 下车后在车辆后方挥手, 提醒其他车辆注意。
- ② 下车后在车辆前方挥手, 提醒其他车辆注意。
- ③ 尽快将故障车辆标志(安全三角架)置于车辆后方, 躲避到安全场所后联系相关机构。
- ④ 启动应急灯后在车内向联系相关机构。

■ 정답 : 3

448. 机动车发生故障时, 以下驾驶员采取的措施中最恰当的是?

- ① 联系保险公司后, 在救援车到达前在车里等候。
- ② 原地停车后下车, 在车前等候。
- ③ 为了防止后续事故发生, 在车后用手势让其他车知道自己的车辆发生故障。
- ④ 为了安全尽量把车移到路边或路肩后再联系相关机构等采取必要措施。

■ 정답 : 4

449. 因驾驶员的Hi-pass终端机出现故障而无法识别时, 以下措施中正确的是? (选择2项)

- ① 启动应急灯暂时停车后, 购买普通车道的通行券。
- ② 到目的地收费站向收款员说明进入地点后结算。
- ③ 通过目的地收费站的Hi-pass车道时将自动结算。
- ④ 到目的地收费站从Hi-pass终端机取出卡后, 可以用那张卡向收款员结算。

■ 정답 : 2, 4

450. 隧道内发生火灾时, 驾驶员最正确的行为是?

- ① 为了防盗, 锁好车门后离开隧道。
- ② 因为火灾隧道里烟雾弥漫, 所以要在车里等候。
- ③ 关闭发动机, 为了便于车辆移动, 不拔下钥匙, 迅速下车躲避。
- ④ 掉头开向出口的相反方向。

■ 정답 : 3

451. 下列关于通过隧道时驾驶员的安全守则中错误的是?

- ① 进入隧道前, 为了视觉适应摘下太阳镜、打开夜间行驶用的车灯。
- ② 隧道内车线为白色实线时, 不变更车道通过隧道。
- ③ 保持与前面车辆的安全距离以防急刹车。
- ④ 进入隧道前, 先确认设置于入口处的路况指南信息。

■ 정답 : 1

452. 机动车行驶中发生紧急状况时，以下关于制动的说明中正确的是？

- ① 发生水膜现象时，制动能力比平时更高。
- ② 紧急情况时，利用防撞墙是防止发生大型事故的方法之一。
- ③ 路面潮湿时急踩刹车的话，会一直向直行方向打滑。
- ④ 配备有ABS（防抱死制动装置）的车辆制动距离可减短一半以上。

■ 정답 : 2

453. 发生地震时，下列选项中安全的应对方法是？（选择2项）

- ① 发生地震时，要快速驶离地震地区。
- ② 充分确保车间距离后，靠道路右侧暂时停车。
- ③ 需要弃车逃生时关闭机动车油门。
- ④ 不顾地震发生的情况继续行驶。

■ 정답 : 2, 3

454. 因交通事故造成火灾时，以下驾驶员的行为中正确的是（选择2项）？

- ① 救援队正式开始救援工作时，一定要协助救援。
- ② 为了缓解紧张情绪，吸烟也无妨。
- ③ 与危险物品的运输车辆碰撞时，应远离事故地点。
- ④ 发生火灾时应适当地救护伤员。

■ 정답 : 3, 4

455. 机动车在隧道内行驶途中发生火灾时，下列选择中正确的是（选择2项）？

- ① 下车离开时，需关闭机动车发动机。
- ② 用灭火器灭火时，应背对风向站立。
- ③ 很难从隧道中出来时，尽量让车辆停在中心线一方。
- ④ 弃车逃生时，应拔出车钥匙。

■ 정답 : 1, 2

456. 下列关于机动车打滑的说明中正确的2项是？

- ① 主要发生在高速行驶途中急刹车时，因此超速是主要原因。
- ② 雨中低速行驶时时常发生。
- ③ 因打滑现象造成的路面痕迹在推断事故起因方面没有什么帮助。
- ④ 即使是安装ABS（防抱死制动系统）的车辆也有可能发生打滑现象。

■ 정답 : 1, 4

457. 车辆脱离车道的可能性中最大的因素是哪2项？

- ① 行驶于上坡路时
- ② 在弯道突然紧急转方向盘时
- ③ 行驶于下坡路时
- ④ 路面湿滑时

■ 정답 : 2, 4

458. 行驶于高速公路途中因发动机舱冒烟而引发火灾时，最正确的2项措施是？

- ① 发现后立刻在原地停车。
- ② 移动到路肩后，关掉发动机后迅速离开车辆进行躲避。
- ③ 在初期可控制火情的情况下，用车内的灭火器灭火。
- ④ 在初期控制火情失败时，向119等报警后就在车旁等待。

■ 정답 : 2, 3

459. 夜间驾驶时正确的驾驶方法是？

- ① 道路明亮时，不开启车辆的前照灯也无妨。
- ② 边欣赏周围的夜景边驾驶。
- ③ 困倦时在疲劳休息站休息。
- ④ 对面有开启远光灯行驶的车辆时，同样开启远光灯。

■ 정답 : 3

460. 下列关于夜间驾驶的安全驾驶方法中最正确的是？

- ① 贴膜（太阳膜）颜色较深时，夜间驾驶时也很便利。
- ② 佩戴黑色太阳镜驾驶。
- ③ 开启雾灯，以确保看得更远。
- ④ 在视野不好的弯道上转弯时，鸣喇叭可能会有一定帮助。

■ 정답 : 4

461. 以下对夜间驾驶时出现的蒸发现象的说明中正确的是？

- ① 出现蒸发现象时，立即关闭车辆的前照灯后蒸发现象会消失。
- ② 相对行驶的两辆车全都开启远光灯时常发生蒸发现象。
- ③ 夜间在交通拥挤的市内道路上行驶时常发生。
- ④ 指的是夜间驶入隧道后因亮光暂时看不见的现象。

■ 정답 : 2

462. 以下对夜间驾驶的驾驶人视觉反应状态的说明中正确的是？

- ① 认知能力比平时高。
- ② 眼球动作相对活跃。
- ③ 在市内交通拥挤的道路上行驶时常发生。
- ④ 指的是对单调的视野熟悉、陷入一种感觉麻痹状态的现象。

■ 정답 : 4

463. 随着太阳开始落山、天色逐渐变暗时，与驾驶人应采取的措施最相去甚远的是？

- ① 开启示廓灯、尾灯。
- ② 以低于白天的速度行驶。
- ③ 夕阳西下后眼睛适应黑暗的时间不足，需注意。
- ④ 视野比白天好，更方便驾驶。

■ 정답 : 4

464. 下列选项中，与行驶途中发生的车辆火灾原因最相去甚远的是？

- ① 电线短路
- ② 发动机过热
- ③ 贴膜（太阳膜）颜色过深
- ④ 尾气热

■ 정답 : 3

465. 下列关于预防车辆火灾的方法中最正确的是？

- ① 为在车辆内部安装扬声器，可随意操作配线装置。
- ② 冬季加油时需注意防止产生静电。
- ③ 为应对紧急情况，LPG汽车内可装载便携式丁烷气。
- ④ 夏季可将一次性打火机放在车内。

■ 정답 : 2

466. 机动车行驶途中爆胎时最正确的措施是？

- ① 突然侧滑时，为预防事故需进行急刹车。
- ② 应抓牢方向盘直行，尽量避免急刹车，利用发动机制动在安全的地方停车。
- ③ 利用方向盘扭转车辆侧滑方向。

④ 因刹车踏板无法启动，需用驻车制动停车。

■ 정답 : 2

467. 因前车急刹车的关系有碰撞危险时，最正确的应对方法是？

- ① 直到碰撞前都坚持踩踏刹车踏板减速。
- ② 为避免与前车碰撞，将方向盘转向左侧，越过道路中心线。
- ③ 为尽量减少损失闭上眼睛。
- ④ 同时操作刮水器和远光灯。

■ 정답 : 1

468. 高速行驶的车辆因轮胎异常引发的2种现象是？

- ① 气阻现象
- ② 驻波现象
- ③ 刹车失灵现象
- ④ 水膜现象

■ 정답 : 2, 4

469. 下列选项中佩戴安全带的正确方法是？

- ① 用夹子等固定住，怎么方便怎么系。
- ② 调整好座椅的靠背、不要系得太松。
- ③ 需清清口上，安全带接口不能发出 " 咔嚓 " 的声音。
- ④ 是三点式安全带的情况时，需越过脖子部分。

■ 정답 : 2

470. 为了在交通事故中将头部及颈部所受伤害减少至最低，应在出发前进行调节的是？

- ① 座椅前后
- ② 靠背角度
- ③ 头枕高度
- ④ 座椅高度

■ 정답 : 3

471. 下列关于隧道内超车的说明中正确的是？

- ① 必须从左侧超车。
- ② 必须打开前照灯后超车。
- ③ 超车时速度不能超过法定最高速度。
- ④ 不可以超车。

■ 정답 : 4

472. 以下是变更车道时有关交通信号的说明，其中最正确的是？

- ① 不打转向灯变道时，只要没有妨碍其他车辆就不能视为违规。
- ② 应在变更车道后的较长时间一直维持转向灯，提醒其他车辆。
- ③ 只需在变更车道时打开转向灯即可，在变更车道的过程中应关闭转向灯。
- ④ 直到变道结束前需一直开启转向灯，变更车道后则马上关闭转向灯。

■ 정답 : 4

473. 下列选项中可以超车的情况是？

- ① 前方车辆正在超车时
- ② 前方车辆为防止发生危险而停车或慢行时
- ③ 前方车辆的左侧有其他车辆与前方车辆并行时
- ④ 前方车辆慢速行驶并与其他车辆保持安全距离时

■ 정답 : 4

474. 下列关于超车时对车速说明中正确的是？

- ① 超车时没有车速要求。
- ② 可超过相应公路法定最高速度的50%。
- ③ 根据驾驶员的驾驶能力没有速度限制。
- ④ 需在所行驶公路的最高限速内超车。

■ 정답 : 4

475. 从高速公路进入普通公路时，最安全的行为是？

- ① 为了迅速进入而加快速度。
- ② 在旁边车道上没有车辆行驶的时候，一次性穿过多个车道从出口处出去。
- ③ 事先打开转向灯，减速离开高速公路进入普通公路。
- ④ 由于进出的的车辆太多而无法驶进时可迂回超车。

■ 정답 : 3

476. 机动车驾驶员感应到危机情况时，从开始踩刹车到车辆实际停止的“停止距离”最长的情况是以下哪2项？

- ① 车辆的重量较轻
- ② 车辆的速度较快
- ③ 安装全新轮胎
- ④ 疲劳驾驶与酒后驾驶

■ 정답 : 2, 4

477. 下列关于机动车限乘人数的说明中正确的2项是?

- ① 在高速公路上行驶的面包车不得超过限乘人数。
- ② 机动车登记证上标注的限乘人数不包括驾驶员。
- ③ 获得出发地管辖区的警察局长的许可时, 可超过限乘人数行驶。
- ④ 超过限乘人数时, 应获得抵达地管辖区的警察局长的许可。

■ 정답 : 1, 3

478. 因交通事故导致前方车辆急刹车时, 为防止追尾事故的发生, 最安全的2种驾驶方法是?

- ① 与前车的距离需保持在停止距离以上。
- ② 打开应急灯, 跟着紧急车辆行驶。
- ③ 充分减速到不会与前方车辆相撞的程度, 并确保安全距离。
- ④ 发现危险时, 同时使用脚刹和手刹以缩短制动距离。

■ 정답 : 1, 3

479. 佩戴安全带的效果中正确的2项是?

- ① 减小冲击力, 防止致命性负伤。
- ② 车内有气囊的车辆不必佩戴安全带。
- ③ 保持正确的驾驶姿势, 可以减少驾驶疲劳感。
- ④ 坠入水中或发生侧翻事故时容易受重伤。

■ 정답 : 1, 3

480. 下列关于佩戴安全带的说明中正确的2项是?

- ① 短距离行驶时没有太大的效果, 所以不必佩戴。
- ② 为了乘车人的安全起见, 一定要佩戴安全带。
- ③ 儿童应坐到父母手可及的驾驶席旁座位, 并佩戴安全带。

④ 除了因紧急公务出动的车辆，紧急车辆驾驶员也必须佩戴安全带。

■ 정답 : 2, 4

481. 在出发前通过后视镜确认安全的方法中正确的2项是?

- ① 只通过车内后视镜或车外后视镜中的一个来确认安全。
- ② 只通过观察后视镜的方法可确认所有的安全情况。
- ③ 为了更广范围地观察后方情况，需调节车内后视镜。
- ④ 只通过后视镜无法准确掌握后方车辆的移动情况，因此需多加注意。

■ 정답 : 3, 4

482. 驾驶途中驾驶人可见位置上的视频显示器中正在播放视频。以下哪种视频属于管制对象?

- ① 地理路线介绍视频
- ② 介绍紧急情况的视频
- ③ 倒车时可以观察后方情况的视频
- ④ 选举开票节目视频

■ 정답 : 4

483. 面包车驾驶员在驾驶途中操作视频设备时将处以多少罚款、扣多少分?

- ① 4万韩元, 10分
- ② 6万韩元, 15分
- ③ 7万韩元, 15分
- ④ 10万韩元, 40分

■ 정답 : 3

484. 以下驾驶人行为中属于《道路交通安全法》规定的管制对象的是？

- ① 违反机动车后玻璃窗的可视光线透过率标准时
- ② 驾驶人在驾驶途中通过视频显示器查看交通信息介绍视频时
- ③ 溅起积水、给其他人造成损失时
- ④ 在停车状态下操作视频显示器时

■ 정답 : 3

485. 下列选项中，机动车等驾驶人在驾驶途中也可以使用手机的情形是？

- ① 发送短信
- ② 使用移动聊天软件
- ③ 使用蓝牙耳机通电话
- ④ 上网

■ 정답 : 3

486. 对于驾驶证考试中的作弊者将采取哪种措施？

- ① 受到处罚之日起，2年内不能参加该项考试。
- ② 给予警告（限一次）。
- ③ 收取确认书后继续考试。
- ④ 延期到下一天参加考试。

■ 정답 : 1

487. 下列关于安全带的说明中正确的是？

- ① 机动车驾驶人的副驾驶同乘者不系安全带时，对该同乘者处以罚款。
- ② 乘坐儿童校车的儿童不系安全带时，对儿童校车运营人处以罚款。
- ③ 婴幼儿应坐在成人的膝盖上并一同系好安全带。
- ④ 在所有道路上，后排座位同乘人也应系上安全带。

■ 정답 : 4

488. 下列驾驶人员的行为中不属于《道路交通安全法》规定的管制对象的是?

- ① 乘用车超员行驶时
- ② 机动车等停车后用手拿着手机使用时
- ③ 出租车拼车(长时间停、泊车招揽乘客时)
- ④ 营运面包车拒载

■ 정답 : 2

489. 驾驶人下车离开驾驶席时采取的措施中错误的是?

- ① 关闭机动车发动机。
- ② 将挡位设为空挡。
- ③ 启动制动装置，确保车辆停止状态的安全。
- ④ 不让他人随便驾驶。

■ 정답 : 2

490. 根据警察厅长的规定告示，进行不违章、无事故宣誓并实践的驾驶员(良心驾驶积分制度)的说明中正确的2项是?

- ① 不违章、无事故宣誓限制为5次。
- ② 进行不违规、无事故宣誓并实践1年的情况。
- ③ 驾驶员因罚分超过规定受到暂扣驾驶证处分时，暂扣天数会减少20天。
- ④ 驾驶员受到暂扣驾驶证处分时，从累计分数中将以10分为单位扣除。

■ 정답 : 2, 4

491. 驾驶途中驾驶人可见位置上的视频显示器正在播放视频。以下选项中可以在驾驶中观看的视频是？

- ① 电视剧
- ② 介绍灾难情况的视频
- ③ 交通信息介绍视频
- ④ 视频通话

■ 정답 : 2, 3

492. 目击交通事故时，驾驶员最应该采取的措施是？

- ① 不管伤者的伤势如何先转移伤者。
- ② 与我无关，迅速离开现场。
- ③ 如有车辆逃逸，跟随追踪并进行检举。
- ④ 向警察局报警或联系急救中心时，说明伤员的负伤情况。

■ 정답 : 4

493. 发生交通事故时，现场驾驶员应该采取的顺序是？

- ① 确保现场证据 → 报警 → 救护受伤者
- ② 报警 → 救护受伤者 → 确保现场证据
- ③ 马上停车 → 救护受伤者 → 报警
- ④ 马上停车 → 报警 → 救护受伤者

■ 정답 : 3

494. 下列选项中发生交通事故时最正确的处理方式是?

- ① 双方必须协商好之后才能报警。
- ② 联系保险公司与报警具有同样的效力。
- ③ 发生事故后不立即停车而是驶离事故现场。
- ④ 发生有轻微物质损失的事故时，当事人之间亲笔记录下事故内容和各自的联系方式后互相交换。

■ 정답 : 4

495. 发生以下交通事故时，最应马上向国家警察机关说明的内容是?

- ① 事故车辆内的全部物品及损坏程度
- ② 事故发生地点的车流量及周边简图
- ③ 伤亡者数量及受伤程度
- ④ 伤亡者的职业及家庭关系

■ 정답 : 3

496. 发生交通事故时，下列选项中应最先采取的应急处理方法是?

- ① 在确认伤员状态之前，首先将其转移至安全位置。
- ② 对伤员采取急救措施时，最先实施人工呼吸。
- ③ 在对伤员采取急救措施之前，首先确认车辆是否损坏。
- ④ 首先确认是否有意识，丧失意识时首先实施胸部按压。

■ 정답 : 4

497. 发生交通事故时，下列选项中最恰当的处理方法是?

- ① 在发生轻微事故的情况下，不理睬伤员直接离开也可以。
- ② 在复杂的交叉路口处将车停在原地争论是非。
- ③ 立即停车，发现伤亡时提供救护措施。
- ④ 当车无法移动时，将车停放在路上而不做任何处理。

■ 정답 : 3

498. 轻微伤员正在流血。下列选项中最正确的急救方法是?

- ① 轻微出血时, 将干净的纱布或碎布放在伤口上, 然后用手用力按住。
- ② 使用止血带时, 在离心脏较远处捆绑止血。
- ③ 出血部位应在心脏以下的地方。
- ④ 神志昏迷时, 让其服用牛黄清心丸。

■ 정답 : 1

499. 当警察收到交通事故发生举报时, 下列选项中正确的是?

- ① 不能命令造成交通事故的车辆驾驶员救护伤员等。
- ② 若为正在运送伤员的救护车, 则不能向乘车人命令采取所需的措施。
- ③ 可命令举报交通事故的驾驶员在事故现场等待, 直到警察到达现场。
- ④ 不能命令交通事故肇事者进行交通安全所需的指示。

■ 정답 : 3

500. 行驶过程中因不注意碰撞了前方车辆并造成人员受伤。这时最恰当的措施是?

- ① 即使受害人的腿部在流血, 也不管不问。
- ② 向受害人的家属联系后, 一直等待家属的到来。
- ③ 立即联系119等, 请求专业救护人员的帮助。
- ④ 看似是轻微的受伤, 一直等待警车的到来。

■ 정답 : 3

501. 发生交通事故时伤员的脊椎出现了严重的骨折，此时的急救措施方法是？

- ① 亲自采取救护措施。
- ② 把伤员移动到路肩。
- ③ 为了防止事后事故，快速把车辆开到第1车道。
- ④ 不随意移动伤员，联系求急救中心。

■ 정답 : 4

502. 发生交通事故后确认受伤者的意识状态时，应该最先做的是？

- ① 确认受伤者是否有脉搏。
- ② 尝试说话或轻拍肩膀。
- ③ 检查哪个部位出血严重。
- ④ 检查口中食道处是否有异物。

■ 정답 : 2

503. 发生交通事故时在事故现场采取的措施中正确的2项是？

- ① 拨打119和112，与对方驾驶员协商后移动到了安全的地方。
- ② 标记事故现场并拍下了照片。
- ③ 无需确认是否出现伤员，只需在现场等待警察的到来即可。
- ④ 不顾对方车辆，尽可能地移动到远距离后停车。

■ 정답 : 1, 2

504. 交通事故发生时，以下哪2种情况可以继续驾驶？

- ① 正在护送紧急患者的急救车驾驶员让同乘者采取必要措施后继续驾驶。
- ② 因轻微感冒前往医院途中，让同乘者采取必要措施后继续驾驶。
- ③ 正在运送紧急邮件的车辆驾驶员让同乘者采取必要措施后继续驾驶。
- ④ 因有急需处理的工作，让同乘者采取必要措施后继续驾驶。

■ 정답 : 1, 3

505. 下列关于预防撞死动物 (road kill) 的措施中最正确的是?

- ① 前方出现动物时开启远光灯。
- ② 在乡村或山路上行驶时沿路边行驶。
- ③ 与动物发生碰撞时急打方向盘。
- ④ 在设有野生动物出没标志牌的道路上慢行, 进行防御性驾驶。

■ 정답 : 4

506. 在高速公路上因故障等发生紧急情况时, 免费提供一定距离拖吊服务的机构是?

- ① 道路交通公团
- ② 韩国道路公社
- ③ 警察厅
- ④ 韩国交通安全公团

■ 정답 : 2

507. 发生撞死动物 (road kill) 事故时, 下列措施中最正确的是?

- ① 将遭遇事故的动物装在自己车上运走。
- ② 将遭遇事故的动物直接搬运到路边。
- ③ 发生撞死动物事故时立即通知相关机构。
- ④ 因为是野生动物, 所以直接弃置在事故现场也无妨。

■ 정답 : 3

508. 夜间行驶途中前车的刹车灯不亮时，下列选项中不属于正确驾驶方法的是？

- ① 保持充分的安全距离。
- ② 超越前车，在其前方急刹车，迫使该车辆停车。
- ③ 告知前车刹车灯不亮。
- ④ 仔细注意前方。

■ 정답 : 2

509. 因暴雨导致地下车道淹水时，下列选项中最安全的驾驶方法是？

- ① 在整个车轮被水淹没以前是可以安全通过的，所以慢行通过。
- ② 以最快的速度驶出。
- ③ 绕路回去。
- ④ 如通过途中熄火，则立即重新发动并驶出。

■ 정답 : 3

510. 下列选项中与车辆需配备的安全用品最相去甚远的是？

- ① 故障车辆标志(安全三角架)和信号火炬
- ② 灭火器和逃生锤
- ③ 急救箱(应急处理箱)和备胎
- ④ 膝盖毯子和颈枕

■ 정답 : 4

511. 行驶途中与机动车突发状况的正确应对方法最相去甚远的是？

- ① 行驶途中方向盘严重抖动时，牢牢抓住方向盘继续行驶。
- ② 机动车冒烟时，立即移动至安全的地方后熄火。
- ③ 轮胎爆胎时，牢牢抓住方向盘，减速并在安全的地方停车。
- ④ 通过铁路道口途中突然熄火后无法再次启动时，迅速从车里出来后通知相关部门。

■ 정답 : 1

512. 以下在交通事故现场拍摄照片以作证据的方法中正确的2项是?

- ① 车轮正在旋转的状态也需拍下来。
- ② 比起车辆，以人为主拍照。
- ③ 因夜间黑暗，所以看不见的地方没必要拍照。
- ④ 对损毁部位拍照的同时进行远距离拍摄。

■ 정답 : 1, 4

513. 在长途驾驶前需检查的事项中应优先检查的2项是?

- ① 检查车辆清洁状态
- ② 检查DMB（视频显示器）是否运行
- ③ 检查各种油类
- ④ 检查轮胎状态

■ 정답 : 3, 4

514. 下列选项中符合吊销驾驶证事由的是?

- ① 自定期适应性测试到期后，未再接受适应性测试超过6个月
- ② 驾驶员因向交警（警察，市、郡、区公务员）等实施暴力而被刑事立案（不拘留）
- ③ 机动车登记后未安装机动车车牌行驶
- ④ 二类普通驾驶证未更新超过2年

■ 정답 : 2

515. 接到罚款通知书超过第一次付款期限后，20日内需支付的罚款金额为？

- ① 比原先罚款的金额多交10%
- ② 比原先罚款的金额多交20%
- ③ 比原先罚款的金额多交30%
- ④ 比原先罚款的金额多交40%

■ 정답 : 2

516. 因累计扣分超过限度而被吊销驾驶证的期限是？

- ① 1年100分以上
- ② 2年191分以上
- ③ 3年271分以上
- ④ 5年301分以上

■ 정답 : 3

517. 下列关于交通事故的扣分标准中正确的是？

- ① 对于将受到行政处分的驾驶员本人的人身伤害，也将会根据交通事故的类型扣分。
- ② 机动车等引发人员交通事故时，在双方都有过失的情况下不会扣分。
- ③ 交通事故原因是不可抗力因素或是受害人有明显过失时处罚分数减半。
- ④ 机动车与机动车等发生交通事故时，只对严重违规引发事故的驾驶员扣分。

■ 정답 : 4

518. 下列关于违规泊车的处罚中正确的是？

- ① 乘用车车主必须缴纳3万韩元的罚金。
- ② 面包车车主必须缴纳7万韩元的罚金。
- ③ 即使在期限内不交罚款也不会有损失。
- ④ 在相同的场所违法泊车2小时以上者将处以罚款。

■ 정답 : 4

519. 引起交通事故的驾驶员由于已加入综合保险或是互助组织, 可适用《交通事故处理特例法》的是?

- ① 违反安全驾驶的义务, 引发车辆损毁和人员轻伤的交通事故
- ② 因交通事故导致人员死亡
- ③ 引起交通事故之后不救护伤员逃逸
- ④ 违反信号灯而引起轻伤的交通事故

■ 정답 : 1

520. 以作假或其他不正当的方法不缴纳高速公路通行费时, 将收取相当于通行费 () 的金额。 () 里应填入?

- ① 10倍
- ② 20倍
- ③ 30倍
- ④ 100倍

■ 정답 : 1

521. 根据《交通事故处理特例法》第3条第2项规定的处罚特例的例外12项中属于超速行驶的是?

- ① 超过该公路限速5公里时
- ② 超过该公路限速10公里时
- ③ 超过该公路限速15公里时
- ④ 超过该公路限速20公里时

■ 정답 : 4

522. 没有在铁路道口前暂时停车而直接通行中与火车相撞造成人员伤亡时，驾驶员会受到怎样的处罚？

- ① 若有加入综合保险或与被害人达成协议时，不会受到刑事处罚。
- ② 只根据《道路交通安全法》中规定的违反铁路道口通过方法予以行政处罚。
- ③ 是由于违反铁路道口的通过方法而造成人员伤害事故的，因此予以刑事处罚。
- ④ 铁路道口的事故不适用《道路交通安全法》及《交通事故处理特例法》。

■ 정답 : 3

523. 下列关于违章停车的措施中正确的2项是？

- ① 警察局长不能更改违章停车车辆的停车方法。
- ② 对于违章停车的车辆，可以将其移动到市长等人指定的地方。
- ③ 移动违章停车车辆后，有必要快速告知车辆使用人或驾驶员。
- ④ 市长等人移动违章停车车辆后，没有作为善良管理人的保管义务。

■ 정답 : 2, 3

524. 根据《交通事故处理特例法》规定，下列情形中将受到刑事处罚的2项是？

- ① 未加入综合保险的车辆引发造成物质损失的交通事故后与受害者调解时
- ② 加入出租车互助组合的出租车越过中心线，引发造成人员伤害的交通事故时
- ③ 加入综合保险的车辆因违反信号灯，引发造成人员伤害的交通事故时
- ④ 加入货物互助组合的货车因未遵守安全驾驶，引发造成物质损失的交通事故时

■ 정답 : 2, 3

525. 收到违章罚款缴纳通知单后超过第2次缴纳期限时，下列选项中正确的2项是？

- ① 不再延迟，应申请即决审判。
- ② 不接受即决审判时，暂扣驾驶证40天。
- ③ 处以罚款。
- ④ 多缴纳罚款金额的30%时，将不申请即决审判。

■ 정답 : 1, 2

526. 余分为0分且违反交通法规被查处时, 下列哪2种情况会被处以暂扣驾驶证处分?

- ① 超过规定时速45公里
- ② 违反信号灯和指示
- ③ 第一次在血液酒精浓度0.06%的情况下驾驶时
- ④ 因粗暴驾驶被刑事立案时

■ 정답 : 3, 4

527. 在酒精测试结果为血液酒精浓度0.03%~0.08%的状态下驾驶时, 将会受到的2项行政处罚是?

- ① 罚100分
- ② 罚80分
- ③ 发生事故致人死亡时吊销驾驶证
- ④ 与事故无关均吊销驾驶证

■ 정답 : 1, 3

528. 对驾驶证行政处罚提出异议并被采纳时, 下列关于取消处分的减轻标准中正确的是?

- ① 罚扣90分。
- ② 罚扣100分。
- ③ 罚扣110分。
- ④ 罚扣120分。

■ 정답 : 3

529. 下列对暂扣驾驶证处分提出异议并申请减轻的标准中正确的是?

- ① 减轻至处分执行天数的1/2。
- ② 减轻至处分执行天数的1/3。
- ③ 减轻至处分执行天数的1/4。
- ④ 减轻至处分执行天数的1/5。

■ 정답 : 1

530. 驾驶员由于殴打执法的交警等被刑事立案时将受到的处罚是?

- ① 扣40分。
- ② 扣100分。
- ③ 吊销驾驶证。
- ④ 提请即决审判。

■ 정답 : 3

531. 抓获或举报造成人员伤亡的交通事故逃逸者(车辆驾驶员)进行的驾驶员(不是交通事故受害者时), 每次抓获或举报时都给予()的优惠分数。()里应填入?

- ① 10分
- ② 20分
- ③ 30分
- ④ 40分

■ 정답 : 4

532. 下列关于罚款的说明中正确的是?

- ① 30天以内向警察厅长指定的国库银行等缴纳罚款。
- ② 因自然灾害等原因无法在缴款期限内缴纳罚款时, 应在这一原因消失后10天内缴纳。
- ③ 在缴款期限内未缴纳罚款时, 将在缴款期限到期后20天以内追缴罚款的20%。
- ④ 罚款可以分期缴纳。

■ 정답 : 3

533. 根据《道路交通法》规定，乘用车在距离灭火用消防水管送水口5米内停车时的罚款金额是？

- ① 4万韩元
- ② 3万韩元
- ③ 2万韩元
- ④ 不予处罚

■ 정답 : 1

534. 下列选项中，属于《道路交通法》规定的通报处分对象的是？

- ① 姓名或地址不明确的人
- ② 承认违章行为的人
- ③ 有逃逸可能性的人
- ④ 拒绝接收罚款缴纳通知单的人

■ 정답 : 2

535. 被提请即决审判的驾驶员如果在即决审判宣判前缴纳包括罚款金额 () 的罚金并递交证明材料，警察厅长应取消针对驾驶人员的即决审判。() 应填入？

- ① 20%
- ② 30%
- ③ 50%
- ④ 70%

■ 정답 : 3

536. 下列对不履行通报处分者的措施中正确的是?

- ① 要求即决审判 ② 刑事立案 ③ 处以罚款 ④ 下达志愿服务命令

■ 정답 : 1

537. 驾驶人违反信号灯时罚款金额不同的车辆是?

- ① 面包车 ② 乘用车
③ 特殊机动车 ④ 建筑机械

■ 정답 : 2

538. 机动车驾驶员在高速公路上行驶时车内并未准备故障车辆标志(安全三角架)。此时将受到何种处罚?

- ① 处以2万韩元罚款。
② 处以2万韩元罚款与通报处分。
③ 处以30万韩元以下的罚款。
④ 不做任何处罚或处分。

■ 정답 : 1

539. 下列关于高速公路上乘用车驾驶人超速行为的罚款标准中正确的是?

- ① 超过规定时速60公里 - 罚款12万韩元
② 超过规定时速40公里 ~ 60公里 - 罚款8万韩元
③ 超过规定时速20公里 ~ 40公里 - 罚款5万韩元
④ 超过规定时速20公里以下 - 罚款2万韩元

■ 정답 : 1

540. 以下对引发交通事故的机动车驾驶人的扣分标准中正确的是?

- ① 机动车驾驶人因违反信号灯造成1人死亡的交通事故时扣105分。
- ② 对受害车辆的乘员与肇事车辆驾驶人的伤害也计算扣分。
- ③ 计算交通事故原因分数和人员伤亡分数、物质损失分数的总和。
- ④ 机动车对机动车的交通事故中，如事故原因在于双方车辆则双方都不扣分。

■ 정답 : 1

541. 根据《道路交通法》规定，判定是否具备适应性测试标准的体检结果通知书，应为自申请之日起（ ）内签发的文件。（ ）内应填入?

- ① 1年
- ② 2年
- ③ 3年
- ④ 4年

■ 정답 : 2

542. 根据《道路交通法》规定，对吊销驾驶证处分存在异议时，可向地方警察厅异议审议委员会提出异议的时间是?

- ① 自受到相应处分之日起90日内
- ② 自得知相应处分之日起90日内
- ③ 自受到相应处分之日起60日内
- ④ 自得知相应处分之日起60日内

■ 정답 : 3

543. 根据《道路交通法》规定，下列关于主动上交并注销驾驶证的说明中正确的是?

- ① 可以主动上交并申请注销驾驶证。
- ② 需向市、道知事主动上交驾驶证。
- ③ 驾驶证被吊销的对象可以主动上交并申请注销驾驶证。
- ④ 在驾驶证停止生效期间，可以主动上交并申请注销驾驶证。

■ 정답 : 1

544. 下列选项中不属于《道路交通安全法》中规定的无证驾驶的是？

- ① 场地技能考试合格后取得驾驶证前驾驶时
- ② 仅理论考试合格后驾驶时
- ③ 二类普通驾驶证暂扣期间驾驶乘用车时
- ④ 驾驶证留在家中驾驶时

■ 정답 : 4

545. 下列违规行为中可以对车辆雇主等征缴罚款的是？

- ① 驾驶途中使用手机
- ② 违反儿童校车特别保护规定
- ③ 加塞
- ④ 违反超车规定

■ 정답 : 3

546. 下列选项中会被扣分的驾驶人行为是？

- ① 行驶中向车外抛物
- ② 变更车道时未打开转向灯
- ③ 驾驶装有非法加装装置的车辆
- ④ 违反慢行义务

■ 정답 : 1

547. 根据无事故·无违章誓约的规定，以下对减轻扣分（文明驾驶里程制度）的说明中正确的是？

- ① 赋予40分的特惠分数。
- ② 2年内无交通事故与违章行为时才赋予特惠分数。
- ③ 驾驶人受到暂扣驾驶证处分时在累计分数中扣除特惠分数。
- ④ 誓约书需亲自到驾驶证考场提交。

■ 정답 : 3

548. 超重或违反装载物掉落的防止义务时扣多少分？

- ① 10分 ② 15分 ③ 30分 ④ 不扣分。

■ 정답 : 2

549. 下列选项中需接受特别交通安全义务教育的人是？

- ① 初次想要取得驾驶证者
- ② 扣分达到30分者
- ③ 接受交通参与教育者
- ④ 因粗暴驾驶导致驾驶证被暂扣者

■ 정답 : 4

550. 扣分不足（ ）时，自最终违章日或事故日起（ ）内无违章及无事故时，相应扣分将取消。（ ）内应依次填入？

- ① 20分、6个月
- ② 30分、9个月
- ③ 40分、1年
- ④ 50分、2年

■ 정답 : 3

551. 下列选项中不属于吊销驾驶证事由的是？

- ① 定期适应性测试时间超过1年时
- ② 因报复驾驶被拘留时
- ③ 车速超过规定时速60公里时
- ④ 利用机动车诱拐或监禁他人时

■ 정답 : 3

552. 因累计分数超出规定导致驾驶证被吊销时，可以对驾驶证行政处分提出异议。但下列情形中不能提出异议的2项是？

- ① 过去5年内2次受到驾驶证暂扣处分者
- ② 过去5年内2次造成人员伤亡的交通事故者
- ③ 过去5年内受到吊销驾驶证处分者
- ④ 过去5年内经由驾驶证行政处分异议审议委员会审议、减轻行政处分者

■ 정답 : 3, 4

553. 因酒后驾驶导致驾驶证被吊销时，可以对驾驶证行政处分提出异议。但下列情形中不能提出异议申请的2项是？

- ① 在血液酒精浓度超出0.12%的状态下驾驶时
- ② 在血液酒精浓度为0.1%的状态下驾驶并造成物质损失的交通事故时
- ③ 过去5年内2次造成人员伤亡的交通事故时
- ④ 过去5年内存在酒后驾驶经历时

■ 정답 : 1, 4

554. 以下对专用车道的说明中正确的是?

- ① 乘坐2人以上的乘用车或面包车可在多乘员专用车道通行。
- ② 9座乘用车载有6人以上时,可在高速公路公共汽车专用车道行驶。
- ③ 12座以下的面包车可以一直在高速公路公共汽车专用车道行驶。
- ④ 16座以上的面包车可在除高速公路以外的公共汽车专用车道上行驶。

■ 정답 : 2

555. 下列选项中正确的货车载货安全标准是?

- ① 高度在距离地面4.5米以内。
- ② 长度不得超过装载装置长度的1/10。
- ③ 长度不得超过车辆长度的1/10。
- ④ 高度在距离货柜起3.5米以内。

■ 정답 : 3

556. 下列选项中地方警察厅厅长无法指定为交通安全教育机构的机构或设施的是?

- ① 驾校
- ② 道路交通公团及其分部
- ③ 开设终身教育课程的大学附属终身教育设施
- ④ 对交通安全教育机构的指定取消后3年以内在同一地点设立、运营的机构或设施

■ 정답 : 4

557. 以下不属于机动车非法安装设备的是?

- ① 与警察机构使用的对讲机频率相同的对讲机
- ② 并非紧急车辆的机动车上安装的警灯
- ③ 并非紧急车辆的机动车上安装的警笛
- ④ 紧急车辆上安装的应急灯

■ 정답 : 4

558. 无照驾驶途中造成横穿马路的行人受伤的交通事故时如何处理?

- ① 如果已加入综合保险或相关互助组织, 则是没有公诉权的事故。
- ② 不管是否加入了综合保险或是相关互助组织都会受到刑事处分。
- ③ 与受害者协调和解的话, 不会受到刑事处分。
- ④ 不属于《交通事故处理特例法》上12项重大违规事故。

■ 정답 : 2

559. 关于可以在高速公路公共汽车专用车道上行使的车辆, 下列说明中正确的是?

- ① 11座面包车无论乘车人数多少均可通行。
- ② 9座乘用车内乘车人数达到6人以上时可通行。
- ③ 只有15座以上的中巴可以通行。
- ④ 只有45座以上的大巴可以通行。

■ 정답 : 2

560. 下列选项中需慢行的是?

- ① 信号机的信号为黄灯闪烁时
- ② 信号机的信号为红灯闪烁时
- ③ 没有交通管制、无法确认左、右的交叉路口
- ④ 没有交通管制、交通拥挤的交叉路口。

■ 정답 : 1

561. 下列选项中正确叙述《交通事故处理特例法》目的是？

- ① 是针对故意引起交通事故的驾驶员进行处罚的法律。
- ② 是为了帮助被拘留的肇事者可以尽快回到社会而制定的法律。
- ③ 针对因过失造成交通事故的驾驶员可以尽快接受处罚而制定的法律。
- ④ 帮助从交通事故伤害中尽早恢复、增进国民生活便利为目的而制定的法律。

■ 정답 : 4

562. 单向2车道的普通公路上机动车等的最高速度是？

- ① 每小时60公里以内
- ② 每小时70公里以内
- ③ 每小时80公里以内
- ④ 每小时90公里以内

■ 정답 : 3

563. 机动车专用车道上的车辆最高速度和最低速度是？

- ① 时速110公里、时速50公里
- ② 时速100公里、时速40公里
- ③ 时速90公里、时速30公里
- ④ 时速80公里、时速20公里

■ 정답 : 3

564. 根据《道路交通法》规定，下列选项中须缓慢行驶的场所是？

- ① 正在进行交通管制的交叉路口
- ② 在弯道附近的道路
- ③ 坡道的上坡路
- ④ 在交通拥挤的隧道内

■ 정답 : 2

565. 在未设有行人信号灯的人行横道撞到过人行横道的小学生时，在下列处罚和解决措施的说明中最正确的是？

- ① 根据《交通事故处理特例法》规定属于处罚特例的例外情况，将受到刑事处罚。
- ② 已加入综合保险时将不受到刑事处罚。
- ③ 因受害人是儿童，所以只需与其家属联系即可。
- ④ 直接告诉受害者自己的联系方式等基本信息即可。

■ 정답 : 1

566. 根据《道路交通法》规定，以下不属于无证驾驶的一项是？

- ① 通过驾驶证考试后领取驾驶证前驾车行驶
- ② 领取实习驾驶证后在道路上进行开车练习时
- ③ 在驾驶证效力中止期间驾车行驶
- ④ 无驾驶证的驾驶人仅凭军用驾驶证驾驶军用车辆以外的普通车辆

■ 정답 : 2

567. 根据《道路交通法》规定，发现保养不良车辆时，执法部门可在()天内暂停使用车辆。()内应填入？

- ① 5
- ② 7
- ③ 10
- ④ 14

■ 정답 : 3

568. 以下下列关于信号灯的说明中正确的2项是？

- ① 黄色信号灯闪烁 - 车辆可以在注意交通及安全指示牌的前提下行驶。
- ② 红色信号灯亮起 - 行人可以在人行横道上小心通过。
- ③ 绿色箭头标志灯亮起 - 车辆可按照箭头指示方向行驶。
- ④ 黄色信号灯亮起 - 车辆已经驶入交叉路时，必须在交叉路口内停车。

■ 정답 : 1, 3

569. 以下哪两项符合《道路交通安全法》中规定的 " 机动车 " ？

- ① 翻斗车 ② 压路机 ③ 自行车 ④ 婴儿车

■ 정답 : 1, 2

570. 以下哪两项属于《道路交通安全法》中规定的“协助交警的人员”？

- ① 模范驾驶人 ② 绿色母亲会会员
- ③ 海兵战友会会员 ④ 引导用于紧急情况的消防车的消防公务员

■ 정답 : 1, 4

571. 根据《道路交通安全法》规定，以下可以设置“车道”的2项是？

- ① 交叉路口 ② 隧道里
- ③ 人行横道 ④ 桥上

■ 정답 : 2, 4

572. 下列选项中，乘用车超速行驶的2项是？

- ① 在单向第2车道的普通公路上以85公里/小时的速度行驶。
- ② 在西海岸高速公路上以90公里/小时的速度行驶。
- ③ 在机动车车道上以95公里/小时的速度行驶。
- ④ 在单向第1车道的高速公路上以75公里/小时的速度行驶。

■ 정답 : 1, 3

573. 下列关于道路边缘地带的说明中正确的2项是？

- ① 不设置界限标志。
- ② 为确保行人安全而设置。
- ③ 在不区分人行道和车道的道路上设置。
- ④ 不是道路。

■ 정답 : 2, 3

574. 根据《交通事故处理特例法》规定，下列关于处罚特例的说明中正确的是？

- ① 对于因道路交通事故犯下重大过失伤害罪的驾驶人，已参加机动车综合保险时不能无条件地提起公诉。
- ② 对于因道路交通事故犯下业务过失伤害罪的驾驶人，即使与受害人达成民事协议，也可以提起公诉。
- ③ 车辆驾驶人因交通事故受到刑事处罚时，处以5年以下监禁或2千万韩元以下的罚款。
- ④ 因超出规定速度20km/h而导致人员伤亡的交通事故时，如已参加综合保险，则不能提起公诉。

■ 정답 : 3

575. 根据《道路交通安全法》规定，不属于助行轮椅(食品医药品安全部长指定的医疗器材规格)的是?

- ① 手动轮椅
- ② 电动轮椅
- ③ 医用轮椅
- ④ 电动自行车

■ 정답 : 4

576. 以下有关新手驾驶人的说明中正确的是?

- ① 指获得摩托化自行车驾驶证未满1年的驾驶人。
- ② 指获得实习驾驶证未满1年的驾驶人。
- ③ 自初次取得驾驶证之日起的2年内，驾驶证被吊销后重新申领时，被吊销前的时间也计入新手驾驶人经历中。
- ④ 新取得一类普通驾驶证后未满2年的驾驶人

■ 정답 : 4

577. 根据《道路交通安全法》规定，以下关于摩托化自行车的说明中正确的是?

- ① 所有两轮机动车。
- ② 《机动车管理法》规定的250CC以下的两轮机动车。
- ③ 装有排量50CC以下发动机的车辆。
- ④ 电力驱动车辆中装有额定功率0.95千瓦以下发动机的车辆。

■ 정답 : 3

578. 未取得驾驶证的外国人在驾车行驶的过程中，因违反安全驾驶义务而造成人员伤亡的交通事故。对此，《交通事故处理特例法》中是如何规定的？

- ① 无论受害人是否追究，均处以刑事处罚。
- ② 仅当受害人要求对其处以刑事处罚时才处以刑罚。
- ③ 若与受害人达成协议，则不处以刑事处罚。
- ④ 若已加入综合保险，则不处以刑事处罚。

■ 정답 : 1

579. 下列选项中不属于《交通事故处理特例法》中规定的交通事故的是？

- ① 4.5吨货车和乘用车相撞后驾驶人受伤时
- ② 行人在铁路道口撞上火车并受伤时
- ③ 骑摩托车过人行横道时与违反信号灯的机动车相撞、摩托车驾驶人受伤时
- ④ 在人行道上骑自行车时撞到行人、行人受伤时

■ 정답 : 2

580. 根据《道路交通法》规定，以下有关“停车”的说明中正确的一项是？

- ① 驾驶人为等待乘客使车辆处于持续停止状态
- ② 是车辆停止时间不超过5分钟的泊车以外的状态
- ③ 因车辆发生故障或其他事由使车辆处于持续停止状态
- ④ 因驾驶人离开车辆、无法立即驾驶的状态

■ 정답 : 2

581. 根据《道路交通安全法》规定，以下有关“超车”的说明中正确的一项是？

- ① 在交叉路口右转时应跟在其他车辆后面
- ② 变更车道并继续在该车道行驶
- ③ 车辆驾驶人从前方车辆旁边经过后进行超车
- ④ 掉头并向反向行驶

■ 정답 : 3

582. 下列选项中不属于《道路交通安全法》中规定的“机动车”的是？

- ① 乘用车
- ② 摩托化自行车
- ③ 特殊车辆
- ④ 面包车

■ 정답 : 2

583. 根据《交通事故处理特例法》规定，以下属于超速事故的是？

- ① 在最高时速为100公里的高速公路上以时速110公里的速度行驶时发生的事故
- ② 在最高时速为80公里的单向3车道普通公路上以时速95公里的速度行驶时发生的事故
- ③ 在最高时速为90公里的机动车专用车道上以时速100公里的速度行驶时发生的事故
- ④ 在最高时速为60公里的单向1车道普通公路上以时速82公里的速度行驶时发生的事故

■ 정답 : 4

584. 根据《道路交通安全法》规定，以下4色横向信号灯的信号排列顺序中正确的是？

- ① 从右向左依次是红色 → 绿色箭头 → 黄色 → 绿色
- ② 从左向右依次是红色 → 黄色 → 绿色箭头 → 绿色
- ③ 从左向右依次是黄色 → 红色 → 绿色箭头 → 绿色

④ 从右向左依次是绿色箭头 → 黄色 → 红色 → 绿色

■ 정답 : 2

585. 根据《道路交通安全法》规定，不属于适应性测试标准的判定文件的是？

- ① 《国民健康保险法》中规定的体检结果通知书
- ② 《医疗法》中规定的医生签发的诊断书
- ③ 《兵役法》中规定的征兵身体检查结果通知书
- ④ 大韩眼镜商协会会长签发的视力检查单

■ 정답 : 4

586. 下列选项中可按照使用人的申请被地方警察厅厅长指定为紧急车辆的是？

- ① 血液运输车
- ② 警用机动车中用于执行犯罪调查、交通管制、其他紧急警察业务的机动车
- ③ 用于无线电监测工作的机动车
- ④ 调查机构的机动车中用于犯罪调查的机动车

■ 정답 : 3

587. 以下有关紧急车辆需遵守的事项中正确的2项是?

- ① 对违反速度相关规定的机动车等进行管制的紧急车辆, 需具备机动车安全行驶所需标准中规定的紧急车辆结构。
- ② 针对国内外要员执行警卫工作的紧急车辆可以不鸣警笛或开启警灯。
- ③ 普通机动车即使因紧急情况开启前照灯或应急灯, 亦不能视为紧急车辆。
- ④ 紧急车辆只有鸣警笛或开启警灯时, 才能享有优先通行权及法律规定的特权。

■ 정답 : 2, 4

588. 以下有关《道路交通安全法》定义的术语中正确的2项是?

- ① “车道”指的是利用路缘石、安全标志或与之类似的人工构筑物标示边界、为使所有车辆都能通行而设置的道路部分。
- ② “车道线”指的是为划分车道, 用安全标志标识车道边界处的线。
- ③ “车行道”指的是为使车马在道路规定部分单排行驶而用车道线区分的道路部分。
- ④ “人行道”指的是利用路缘石等划分边界、使行人能够通行的道路部分。

■ 정답 : 2, 4

589. 碎石路前方有自行车正在向前骑行时, 最安全的行驶方法是?

- ① 不知自行车什么时候会翻倒, 应加速行驶。
- ② 可加速行驶并鸣笛使自行车知道后面有车。
- ③ 认为自行车驾驶者会向右边让路, 继续行驶。
- ④ 为防止发生突发事故, 保持一定的安全距离慢行。

■ 정답 : 4

590. 驾驶乘用车驶入没有信号灯的交叉路口时, 发现准备从右侧道路上进入交叉路口的自行车。此时最安全的驾驶方法是?

- ① 因为机动车的速度比自行车快, 认为自行车会自行让路, 照常行驶。
- ② 优先进入交叉路口并迅速驶出交叉路口。
- ③ 在进入交叉路口之前暂时停车, 等自行车驶离交叉路口之后再继续行驶。

④ 鸣笛制止自行车进入，自己优先通行。

■ 정답 : 3

591. 前方有自行车在行驶时，需要注意的最大危险因素是？

- ① 自行车上载的行李可能会掉到道路上。
- ② 自行车车速慢，不需要特别注意。
- ③ 自行车可能突然变更车道。
- ④ 因为自行车的动作不大，所以不必加以注意。

■ 정답 : 3

592. 前方有自行车行驶时最安全的驾驶方法是？

- ① 由于自行车的车速较慢，需快速超车。
- ② 由于自行车可能会翻倒，需保持充分的安全距离。
- ③ 由于自行车并不是特别危险，不必在意。
- ④ 持续鸣笛行驶。

■ 정답 : 2

593. 如果在交叉路口等待信号灯时车前有自行车，在信号灯变为绿灯时，下列选项中属于安全驾驶的是？

- ① 比自行车先行出发。
- ② 给自行车以足够的时间和空间。
- ③ 缩短和自行车的距离。

④ 鸣笛引起注意的同时先行驶离。

■ 정답 : 2

594. 前方有推着自行车横马路的人, 此时最安全的驾驶方法是?

- ① 没有义务保护违法横穿马路的自行车。
- ② 保持安全距离, 暂时停车, 让自行车安全地穿过马路。
- ③ 与自行车保持安全距离迅速通过。
- ④ 密切注视自行车, 减速慢行。

■ 정답 : 2

595. 在向右弯曲的拐角路上有自行车在右侧前方行驶时, 哪种驾驶方法最安全?

- ① 缩小转弯半径行驶
- ② 为避免与自行车碰撞, 加速超越自行车。
- ③ 鸣笛快速行驶。
- ④ 与自行车保持充分的距离, 缓慢行驶。

■ 정답 : 4

596. 在下列哪两种情况下自行车可在人行道上行驶?

- ① 儿童骑自行车
- ② 孕妇骑自行车
- ③ 老人骑自行车
- ④ 邮递员骑自行车

■ 정답 : 1, 3

597. 下列有关自行车通行方法的说明中正确的两项是?

- ① 自行车驾驶员除了用安全标志标识允许通行的情况以外, 两辆以上自行车不得并排在车道上行驶。
- ② 自行车驾驶员通过人行横道过马路时需推着自行车通行。
- ③ 即使因道路的毁损、道路施工或其他障碍等因素无法通行的情况下, 自行车驾驶员也无能在人行道上行驶。
- ④ 在未设有自行车道的地方, 自行车驾驶员需紧贴道路中央行驶。

■ 정답 : 1, 2

598. 根据提高自行车使用率的相关法律规定, ()岁以下不得驾驶电动自行车。可填入()内的选项是?

- ① 10
- ② 13
- ③ 15
- ④ 18

■ 정답 : 2

599. 在未设有自行车道的地方骑行时, 应在道路的哪个部分通行?

- ① 应沿着右侧路边通行。
- ② 应沿着左侧路边通行。
- ③ 应在车道中央通行。

④ 应在人行道上通行。

■ 정답 : 1

600. 自行车在道路边缘行驶途中妨碍到行人通行时应采取的正确方法是?

- ① 应减速慢行或暂时停车。
- ② 加速避开行人。
- ③ 大声叫行人闪开。
- ④ 鸣喇叭、先行通过。

■ 정답 : 1

601. 以下有关自行车(电动自行车除外)驾驶员骑行方法中最不恰当的是?

- ① 儿童骑车通过人行道。
- ② 在设有安全标志允许自行车通行的人行道上通行。
- ③ 因道路损坏不得已在人行道上通行。
- ④ 因没有通行车辆,所以在道路中央通行。

■ 정답 : 4

602. 下列自行车在人行横道的通行方法中正确的一项是?

- ① 从自行车上下来,推着自行车走过人行横道。
- ② 骑车靠人行横道右侧慢行通过。
- ③ 骑车在人行横道边缘通过。

④ 从自行车上下来，在人行横道外推车步行通过。

■ 정답 : 1

603. 以下是有关自行车在交叉路口左转通行的方法。其中正确的是？

- ① 应沿着道路右侧边缘慢行，同时利用交叉路口的边缘部分左转。
- ② 应沿着道路左侧边缘慢行，同时利用交叉路口的边缘部分左转。
- ③ 应在道路的第1车道中央慢行，同时利用交叉路口的中央左转。
- ④ 应利用道路最下方车道慢行，同时利用交叉路口的中心内侧左转。

■ 정답 : 1

604. 乘用车因在自行车专用道上通行被管制时，《道路交通安全法》中规定的处罚是？

- ① 处以1年以下有期徒刑。
- ② 处以300万韩元以下的罚款。
- ③ 处以罚款4万韩元的通报处分。
- ④ 不予处罚。

■ 정답 : 3

605. 下列关于可行驶在自行车道上的电动自行车标准中错误的是？

- ① 包括安装的装置，整体重量在40公斤以下。
- ② 达到时速25公里以上时不启动电动机。
- ③ 不能只靠电动机移动。
- ④ 电机功率在350瓦特以下、电池的额定电压不超过直流48伏特(DC 48V)。

609. 前方右侧道路上有自行车正在朝交叉路口方向行驶。下列选项中属于安全驾驶方法的两项是？

- ① 预测自行车会暂时停车，照常通过。
- ② 在自行车接近交叉路口时暂时停车。
- ③ 减速并确认自行车的行驶方向。
- ④ 在交叉路口内避开自行车并迅速通过。

■ 정답 : 2, 3

610. 燃料使用效率最高的驾驶方法是？

- ① 以最高速度行驶。
- ② 以最低速度行驶。
- ③ 以经济速度行驶。
- ④ 以安全速度行驶。

■ 정답 : 3

611. 最恰当的环保经济型驾驶方式是？

- ① 尽可能快地加速。
- ② 在下坡路上关闭发动机、空档滑行。
- ③ 降低胎压。
- ④ 尽量不要紧急减速。

■ 정답 : 4

612. 下列有关机动车空调使用方法和检查的说明中最恰当的是？

- ① 空调刚打开时，从高挡开始，然后转换成低挡。
- ② 每6个月更换一次空调制冷剂。
- ③ 空调温度设置在摄氏16度最合适。

④ 使用空调时，开启外循环效果更佳。

■ 정답 : 1

613. 下列选项中，哪一项最能降低机动车燃料消耗率？

- ① 每次加油都加满。
- ② 换机油时一起更换机油滤清器和空气滤清器。
- ③ 停车时，猛踩刹车进行制动。
- ④ 经常踩油门和刹车。

■ 정답 : 2

614. 行驶途中，脚离开油门踏板或者将变速器置于低挡而让车辆的速度减慢，这种驾驶方法叫做？

- ① 空挡
- ② 刹车踏板
- ③ 手刹
- ④ 发动机制动

■ 정답 : 4

615. 下列选项中，哪一项最能降低机动车燃料的消耗率？

- ① 考虑到机动车可能发生故障，车里放置各种工具及零部件。
- ② 按法定速度定速驾驶。
- ③ 随时进行紧急出发、紧急加速、紧急制动等。
- ④ 为降低燃料消耗率，将胎压降低30%。

■ 정답 : 2

616. 下列选项中，哪项不属于通过改善驾驶习惯进行环保经济驾驶的是？

- ① 时常空转。
- ② 柔和起步。
- ③ 保持定速行驶。
- ④ 遵守经济速度。

■ 정답 : 1

617. 下列选项中，哪一项属于环保经济型驾驶方式？

- ① 降低胎压。
- ② 启动空调时由低档开始。
- ③ 换机油时不换机油滤清器和空气滤清器，而是继续使用。
- ④ 机动车燃料只加到一半左右。

■ 정답 : 4

618. 下列选项中，不能同时实现环保经济驾驶和预防交通事故双重效果的方法是？

- ① 不突然起步
- ② 不定速行驶
- ③ 不紧急制动
- ④ 不突然加速

■ 정답 : 2

619. 乘用车因突然起步、突然加速行为受到通报处分时，应缴纳的罚款金额是？

- ① 1万韩元
- ② 3万韩元
- ③ 4万韩元
- ④ 5万韩元

■ 정답 : 3

620. 环保经济型驾驶的最正确实践方式是？

- ① 降低轮胎胎压。
- ② 随时补充燃料，油箱时常满油状态。
- ③ 尽量将变速器置于低挡行驶。
- ④ 不携带多余的行李。

■ 정답 : 4

621. 汽车尾气的颜色为白色的情况是？

- ① 燃料没有完全燃烧。
- ② 燃料与发动机机油一同燃烧。
- ③ 使用混有类似汽油的燃料。
- ④ 燃料与冷却水一同燃烧。

■ 정답 : 2

622. 下列减少汽车尾气微尘的驾驶方式中，最正确的方式为？

- ① 起步时尽量用力踩油门。
- ② 不要突然加速，缓速柔和起步。
- ③ 驾驶时随时反复加速和停车。
- ④ 暂时停车及停车时，不熄火进行空转。

■ 정답 : 2

623. 以下哪两项属于环保经济型驾驶行为?

- ① 即使没有出现交通阻塞, 也以经济速度恒速行驶。
- ② 抑制不必要的空转。
- ③ 为增加轮胎的接地面积, 将胎压降低5%。
- ④ 为保持行驶的稳定性的, 在后车厢始终携带约10公斤的行李。

■ 정답 : 1, 2

624. 以下哪两项属于环保驾驶?

- ① 保持适当胎压。
- ② 习惯恒速行驶, 不经常踩刹车。
- ③ 为防止燃料不足, 加满油。
- ④ 空调始终设为低挡。

■ 정답 : 1, 2

625. 下列选项中, 哪一项有害尾气排放的最多?

- ① 电动汽车
- ② 氢燃料汽车
- ③ LPG汽车
- ④ 老化的柴油汽车

■ 정답 : 4

626. 下列选项中, 不属于环保经济驾驶中惯性行驶 (fuel cut) 方法的是?

- ① 驶入交叉路口前提前离开加速踏板, 利用发动机制动。
- ② 在平地上不减速, 连续踩踏加速踏板。
- ③ 在下坡路上适当利用发动机制动。
- ④ 驶入上坡路前加速, 利用惯性。

■ 정답 : 2

627. 下列选项中, 汽车排气再循环装置 (Exhaust Gas Recirculation, EGR) 主要抑制的物质是?

- ① 氮氧化物 (NO_x) ② 碳氢化合物 (HC) ③ 一氧化碳 (CO) ④ 二氧化碳 (CO₂)

■ 정답 : 1

628. 下列选项中, 不属于节省燃油的环保经济型驾驶方法的是?

- ① 不进行不必要的空转。
- ② 不使用类似燃油的燃料。
- ③ 在后备箱中只装载必要的行李。
- ④ 经常超速与减速驾驶。

■ 정답 : 4

629. 下列选项中, 不属于手动挡车的环保经济型驾驶方法的是?

- ① 根据道路条件适当换挡。
- ② 等待信号灯时挂空挡。
- ③ 避免剧烈的速度变化, 匀速行驶。

④ 以低挡位持续行驶。

■ 정답 : 4

630. 下列选项中，不属于环保经济型驾驶方法的是？

- ① 驾驶时不剧烈改变速度。
- ② 使用空调时在上坡路上暂时关闭、在下坡路时再开启。
- ③ 定期检查胎压。
- ④ 随时变更车道。

■ 정답 : 4

631. 装载货物的自卸货车在下坡行驶时，以下哪项是最安全的驾驶方法？

- ① 挂空挡行驶以节省燃料。
- ② 分次踩刹车会失去制动效果，所以一次踩下去。
- ③ 为防止前车紧急刹车，应保持足够的距离。
- ④ 用力鸣笛，加速快速行驶。

■ 정답 : 3

632. 为减少因货物的不良装载等造成的交通事故，下列选项中最正确的方法是？

- ① 装载货物行驶时，一定要罩上遮盖套。
- ② 无需检查备用轮胎等固定的附着物。
- ③ 为快速搬运货物，松松绑住货物。
- ④ 移动距离较近时，无需固定货物。

■ 정답 : 1

633. 下列选项中，哪一项符合化学物质管理法规定的有毒物质运输车辆的车道通行标准？

- ① 道路的右侧边缘车道
- ② 道路的最上方车道
- ③ 无车辆通行的车道
- ④ 因属于危险物质而无法在高速公路上通行。

■ 정답 : 1

634. 下列有关大型及特殊机动车制动特性的说明中错误的是？

- ① 根据载重的变化而改变。
- ② 胎压和胎面不匀时，制动距离发生改变。
- ③ 因车辆重量而改变。
- ④ 车辆装载量越大，实际制动距离越短。

■ 정답 : 4

635. 以下哪项最不符合低地板公交车的特征?

- ① 方便老弱病残上车。
- ② 车身底盘高度比普通公交车低。
- ③ 出入口设有斜坡板而非阶梯式。
- ④ 车身高度为普通公交车的1/2。

■ 정답 : 4

636. 以下哪种车辆必须要设置行车记录仪?

- ① 《货车运输事业法》指定的货车
- ② 野营用乘用车
- ③ 带有高架梯的特殊车辆
- ④ 营运货车

■ 정답 : 1

637. 以下有关大型货车特性的说明中哪项最正确?

- ① 根据货物的装载量, 载重变化较大。
- ② 前轴的载重与转向性无关。
- ③ 与乘用车相比, 前轴的载重较小。
- ④ 与乘用车相比, 车轴的结构较简单。

■ 정답 : 1

638. 以有偿运输为目的登记的营运货车驾驶员一定要具备哪个证件?

- ① 车辆整修技术资格证 ② 货物运输从业资格证
- ③ 出租车司机资格证 ④ 一类特殊驾驶证

■ 정답 : 2

639. 以下有关大型货车特性的说明中哪项最正确?

- ① 根据货物的种类, 旋转半径和稳定性会发生很大的变化。
- ② 由于较长的轴间距离, 稳定性明显低。
- ③ 与乘用车相比, 方向盘的复原力较优越。
- ④ 车身重量虽轻, 但体积比乘用车大。

■ 정답 : 1

640. 《道路交通安全法》中规定需要设置行车记录仪的道路运输营运机动车驾驶员的哪种驾驶行为最正确?

- ① 未设置行车记录仪便运输行驶
- ② 设置因故障而无法使用的行车记录仪运输行驶
- ③ 不以行车记录仪原来目的使用而运输行驶
- ④ 定期管理行车记录仪, 提前防止出现故障

■ 정답 : 4

641. 取得一类大型车驾驶证时, 要达到的听力标准是(助听器使用人员除外)?

- ① 25分贝 ② 35分贝 ③ 45分贝 ④ 55分贝

■ 정답 : 4

642. 以下有关大型货车特征的说明中哪项最正确?

- ① 车辆的重心位置根据装载货物的位置或高度改变
- ② 重心不根据上下方向改变。
- ③ 重心高度几乎不影响震动特性。
- ④ 大型货车无震动特性，车辆震感比乘用车小得多。

■ 정답 : 1

643. 以下有关大型货车驾驶特性的说明中哪项最正确?

- ① 较重的重量和较长的轴距使其稳定性较低。
- ② 高速行驶时车身摇晃不稳，导致直行稳定性会瞬间减弱。
- ③ 方向盘操作方面，比小型乘用车的方向盘复原力更优越。
- ④ 驾驶席较高，出现异常天气时，视野会变得更好。

■ 정답 : 2

644. 在以下有关大型货车的视觉盲区和刹车时载重变化的说明中哪项最正确?

- ① 视觉盲区与是否有引擎盖无关。
- ② 前后轮的制动力与载重的变化无关。
- ③ 左侧视觉盲区比驾驶席右侧宽。
- ④ 货物负荷的变化使制动力略有差异。

■ 정답 : 4

645. 以下有关大型货车的装载量和实际制动距离的说明中哪项最正确?

- ① 启动刹车到车轮停止的时间根据车辆的重量有所不同。
- ② 根据负荷的变化, 前、后车轮停止的时间没有差异。
- ③ 即使胎压和接地面不均衡, 制动距离也无太大差异。
- ④ 车辆的重量(装载量)越大, 实际制动距离就越短。

■ 정답 : 1

646. 道路上用蓝色实线标示的路面标志是什么意思?

- ① 公共汽车专用车道标志
- ② 车道变更限制线标志
- ③ 乘用车车道变更禁止标志
- ④ 停车、暂时停车禁止标志

■ 정답 : 1

647. 下列有关大型车驾驶特性的说明中错误的是?

- ① 因重量大, 轴距长, 所以稳定性高, 但操作方向盘时与小型车不同, 方向盘回位迟钝。
- ② 驾驶座比小型车高, 驾驶时可直视前方, 直行稳定性好。
- ③ 根据货物的种类和装载位置, 转弯特性的变化大。
- ④ 根据货物的种类和装载位置, 稳定性的变化大。

■ 정답 : 2

648. 根据《机动车及机动车零部件的性能和标准相关规则》，汽车长度不能超过()米。()应填入?

- ① 10
- ② 11
- ③ 12
- ④ 13

■ 정답 : 4

649. 大型客车行驶途中，驾驶员对车内跳舞的乘客不管不问时，会受到什么处罚?

- ① 违章罚款9万韩元，扣30分 ② 违章罚款10万韩元，扣40分
- ③ 违章罚款11万韩元，扣50分 ④ 违章罚款12万韩元，扣60分

■ 정답 : 2

650. 下列有关大型客车在转弯路上行驶出现歪倒或翻倒的原因中正确的一项是?

- ① 摩擦力和离心力保持平衡
- ② 摩擦力和冲击力相同
- ③ 摩擦力比离心力大
- ④ 离心力比摩擦力大

■ 정답 : 4

651. 高速大巴在夜晚行驶时，应开启的车灯是?

- ① 前照灯、位置灯、车尾灯、牌照灯、车内灯
- ② 前照灯、车尾灯
- ③ 车尾灯、位置灯、牌照灯
- ④ 车尾灯、位置灯

■ 정답 : 1

652. 下列有关大型客车出发前驾驶员应该遵守的事项中, 哪项不正确?

- ① 确认乘客的安全后出发。
- ② 仅通过车内后视镜确认后后方后出发。
- ③ 在乘车之前, 确认车的前后方。
- ④ 确认是否系上安全带后再出发。

■ 정답 : 2

653. 对于无法分开、无法应用安全标准的货物获得货物装载许可时, 货物两端应附着宽30cm、长50cm的()布。可填入()的选项是?

- ① 白色
- ② 黄色
- ③ 红色
- ④ 黑色

■ 정답 : 3

654. 区分一类大型驾驶证和一类普通驾驶证驾驶范围的货车装载量标准是?

- ① 未满12吨
- ② 未满10吨
- ③ 4吨以下
- ④ 2吨以下

■ 정답 : 1

655. 第一类普通驾驶证持有人在拖吊总重量为750kg~3t的被拖吊车时，需再持有哪一类驾驶证？

- ① 一类小型拖吊车驾驶证
- ② 二类普通驾驶证
- ③ 一类大型车驾驶证
- ④ 一类抢险车驾驶证

■ 정답 : 1

656. 持以下哪一类驾驶证无法拖吊总重量为750公斤以下的被拖吊车辆？

- ① 一类普通驾驶证
- ② 一类普通实习驾驶证
- ③ 一类大型驾驶证
- ④ 二类普通驾驶证

■ 정답 : 2

657. 下列哪项属于《机动车管理法》中规定的特殊机动车？

- ① 以拖吊其他机动车为目的而制造的车辆
- ② 自卸货车
- ③ 野营用车辆或野营用拖车
- ④ 在工地运输货物的叉车

■ 정답 : 1

658. 根据《机动车管理法》规定，露营拖车属于哪一类别的机动车？

- ① 特殊车辆
- ② 货车
- ③ 客车
- ④ 乘用车

■ 정답 : 3

659. 持以下哪种驾驶证才可以驾驶以特殊作业为目的、制造总重量3.5吨以下的特殊车辆(抢险车等除外)？

- ① 一类普通实习驾驶证
- ② 二类普通实习驾驶证
- ③ 二类普通驾驶证
- ④ 一类小型驾驶证

■ 정답 : 3

660. 下列选项中，哪一项属于《道路交通安全法》中规定的小型拖吊车驾驶人应该遵守的事项？

- ① 小型拖吊车驾驶人因执行紧急任务，可以不系安全带。
- ② 小型拖吊车驾驶人在行驶期间可使用日常业务用手机。
- ③ 小型拖吊车驾驶人在行驶时，应取得并持有一类特殊（小型拖吊车）驾驶证。
- ④ 小型拖吊车驾驶人出动前往事故现场时可超过规定速度行驶。

■ 정답 : 3

661. 在单向三车道高速公路上行驶时，拖吊车可在以下哪个车道行驶？

- ① 1车道
- ② 2车道
- ③ 3车道
- ④ 均可

■ 정답 : 3

662. 在道路弯曲部分行驶的拖车急刹车时, 连接的部分呈直角弯曲的现象是?

- ① 旋转 ② 前翘 ③ 折刀 ④ 弹动

■ 정답 : 3

663. 以下是根据拖车特性采取的驾驶方法。哪种驾驶方法最安全?

- ① 右转弯时, 保持与乘用车相近的转动角。
② 掉头时, 尽量减小转动角。
③ 为防止货物倾倒现象, 避免紧急刹车。
④ 由于车辆长度较长, 应始终在第2车道掉头。

■ 정답 : 3

664. 以下有关拖车特性的说明中最正确的一项是?

- ① 左转弯时, 保持与乘用车相近的转动角。
② 为防止在下坡路打滑, 挂空挡滑行。
③ 内轮差比乘用车大。
④ 轴间距离比乘用车短。

■ 정답 : 3

665. 装载货物的拖车以时速50公里的速度要进入单向1车道的右方弯曲道路。以下哪种驾驶方法最安全？

- ① 减速时，会有翻倒的危险，应加速驶入。
- ② 为减少转动半径，从反向车道驶入。
- ③ 为保持交通顺畅，以当前速度快速驶入。
- ④ 离心力可能造成翻倒的危险，需边减速边安全驶入。

■ 정답 : 4

666. 以下哪项不属于《机动车管理法》中按类型划分的特殊车辆？

- ① 拖吊型 ② 救助型 ③ 普通型 ④ 特殊操作型

■ 정답 : 3

667. 以下哪项不属于拖车？

- ① 全拖车 ② 低地板拖车
- ③ 半挂车 ④ 高架拖车

■ 정답 : 4

668. 《机动车及机动车零部件性能和标准相关规定》中规定的拖车重量指的是？

- ① 空车状态的机动车重量。
- ② 装载状态的机动车重量。
- ③ 空车状态的机动车轴重。
- ④ 装载状态的机动车轴重。

■ 정답 : 1

669. 以下有关拖车装载货物的方法中，哪项最正确？

- ① 使用货物固定护板，尽量减少货物晃动。
- ② 货物装载空间比其他车辆宽广，不使用固定绳也无妨。
- ③ 牵引器和拖车连接部分最好连接得松弛一些。
- ④ 在运货厢载人有助于经济驾驶。

■ 정답 : 1

670. 在拖吊型特殊车辆的后面或右侧面上应标示的内容是？

- ① 车辆总重量、最大装载量
- ② 车辆重量与限载人员重量之和
- ③ 车辆总重量与限载人员重量之和
- ④ 车辆总重量、最大装载量、最大装载容积、装载物品名

■ 정답 : 2

671. 下列选项中，哪一项属于拖吊车牵引器和拖挂器的连接装置？

- ① 挂钩
- ② 转向销
- ③ 支腿
- ④ 臂架

■ 정답 : 1

■ 정답 : 2

676. 以下有关大型货车旋转特性和震动特性的说明中哪项最正确?

- ① 震动角度几乎不受车辆离心力的影响。
- ② 震动角度几乎不受车辆重心高度的影响。
- ③ 根据货物的种类和装载位置, 旋转半径和稳定性会发生较大变化。
- ④ 震动角度比乘用车小, 易导致碰撞事故。

■ 정답 : 3

677. 下列拖车驾驶员需要遵守的事项中, 哪项最正确?

- ① 仅在行驶结束后进行车辆日常检查和确认。
- ② 无正当理由不得拒绝运输货物。
- ③ 仅在运输费用较高的情况下保持良好的车辆卫生。
- ④ 到达目的地后在确认防止装载货物掉落的遮盖套、包装等。

■ 정답 : 2

678. 在单向三车道高速公路上行驶时, 抢险车的行驶车道为?

- ① 第1车道 ② 第2车道 ③ 第3车道 ④ 所有车道

■ 정답 : 3

679. 用抢险车拖吊全时四驱机动车时，最恰当的方法是？

- ① 用前轮驱动机动车抬起后部。
- ② 用全时四驱机动车抬起整个车身。
- ③ 驱动方式与拖吊方法无关。
- ④ 被拖吊的所有机动车的停车制动必须置于制动状态。

■ 정답 : 2

680. 以下哪项属于《机动车管理法》中规定的救助型特殊车辆的详细标准？

- ① 专门拖吊被拖吊车
- ② 可进行拖吊、救难
- ③ 可救助、拖吊因故障或事故等难以行驶的车辆
- ④ 不属于以上几项的特殊操作专用

■ 정답 : 3

681. 根据《机动车及机动车零部件的性能和标准相关规定》，连接车辆的长度标准是？

- ① 13.7米
- ② 14.7米
- ③ 15.7米
- ④ 16.7米

■ 정답 : 4

682. 下列选项中，哪一项属于到达交通事故现场的抢险车驾驶员最应该做的？

- ① 没收事故车辆驾驶员的驾驶证。
- ② 到达后立即拖吊事故车辆将其移送至修理厂。
- ③ 与驾驶员对事故车辆修理费用讨价还价。

④ 确认驾驶员的受伤程度，采取安全措施，以防发生2次事故。

■ 정답 : 4

683. 抢险车驾驶员最正确的驾驶行为是?

- ① 出现故障车辆时，快速出动、马上拖吊。
- ② 拖吊车辆时安全守法驾驶。
- ③ 仅在拖吊车移动距离费用较高的时候实施安全驾驶。
- ④ 出现事故车辆时，在赶到事故现场途中可无视信号灯。

■ 정답 : 2

684. 抢险车在路肩拖吊故障车辆后进入主车道时，最需要注意的事项是?

- ① 注意在高速公路前方恒速行驶的车辆
- ② 注意被拖吊车辆后车厢中装载的货物
- ③ 注意从车道后方快速驶来的车辆
- ④ 因拖吊车很显眼，故无需顾虑太多

■ 정답 : 3

685. 当抢险车驾驶员到达发生人员伤亡的事故现场后，下列措施中最不妥当的一项是？

- ① 确认伤员的神志状态。
- ② 确认伤员的呼吸状态。
- ③ 确认伤员的出血状态。
- ④ 马上做拖吊准备，催促调解。

■ 정답 : 4

686. 下列选项中，有关抢险车各种装置的正确说明是？

- ① 吊车车身上的吊车臂部分叫吊钩(hook)。
- ② 拖吊结构物时，与抢险车连接的装置叫PTO开关。
- ③ 为确保作业时的安全性，装在前方和后方侧面的结构物叫支腿。
- ④ 呈挂钩状装在吊车上，挂在钢丝绳上可挂重物的装置叫臂架(boom)。

■ 정답 : 3

687. 抢险车驾驶员对FF方式(Front engine Front wheel drive)的故障车进行施救的最正确方式是？

- ① 抬起车身前部。
- ② 抬起车身后部。
- ③ 抬起前部或后部均可
- ④ 必须抬起整个车身。

■ 정답 : 1

688. 下面是抢险车驾驶员在交通事故现场采取的措施, 最正确的是?

- ① 催促交通事故当事人进行私下调解。
- ② 不考虑交通事故当事人的意见, 立即拖吊车辆。
- ③ 因白天能看清楚, 故未采取任何安全措施直接做拖吊准备。
- ④ 帮助事故当事人先稳定心理情绪。

■ 정답 : 4

689. 抢险车驾驶员在交通事故现场发现伤者时, 最正确的处理方法是?

- ① 尝试与伤者对话或拍其肩膀, 确认伤者的意识状态。
- ② 若伤者失去意识, 进行人工呼吸。
- ③ 立即为骨折伤者固定夹板后, 等待救护车到来。
- ④ 出血严重时, 将出血部位置于心脏下方。

■ 정답 : 1

690. 抢险车驾驶员到达交通事故现场后, 以下哪一项最不符合应该抢救伤者的理由?

- ① 为了快速护送伤员
- ② 为了缓解伤员的痛苦
- ③ 为了保护伤员的财产
- ④ 为了提高伤员的救命率

■ 정답 : 3

691. 无抢险任务时的抢险车可以停车或暂时停车的场所是?

- ① 事故多发地段的高速公路路肩
- ② 混乱的高速公路出入口边缘
- ③ 车流量大且交通复杂的交叉路口附近的安全地带
- ④ 单向2车道道路的道路边缘收费停车区域

■ 정답 : 4

692. 下列选项中, 抢险车驾驶员最正确的行为是?

- ① 为在发生火灾时采取初期灭火措施, 在车上配备灭火装置。
- ② 为快速到达事故现场, 越过中心线行驶。
- ③ 若事故轻微, 催促驾驶员之间进行调解。
- ④ 让交通事故驾驶员和同乘者坐在事故车辆上后, 再拖吊车辆。

■ 정답 : 1

693. 抢险车辆驾驶员为开展抢险工作, 因在限速100公里的单向双车道高速公路上以时速185公里的速度行驶而被举报超速, 这种情况的扣分或处罚金额是?

- ① 扣70分, 违章罚款14万韩元
- ② 扣60分, 违章罚款13万韩元
- ③ 扣30分, 违章罚款10万韩元
- ④ 扣15分, 违章罚款7万韩元

■ 정답 : 2

694. 下列选项中, 哪一项属于抢险车驾驶员可以在车辆上涂色或进行标注的内容?

- ① 与交通管制车辆相似的颜色和标志
- ② 与犯罪侦查车辆相似的颜色和标志
- ③ 与紧急车辆相似的颜色和标志

④ 发生紧急情况时可联系到的驾驶员的电话号码

■ 정답 : 4

695. 抢险车驾驶员救助RR方式(Rear engine Rear wheel drive)故障车时, 最正确的方式是?

- ① 抬起车身前部。
- ② 抬起车身后部。
- ③ 抬起前部或后部均可。
- ④ 必须抬起整个车身。

■ 정답 : 2

696. 下面是出动到交通事故现场的抢险车驾驶员的心态, 最正确的是?

- ① 因为把迅速到达摆在首位, 在对向车道驾驶。
- ② 因属于紧急车辆, 可超过最高速度行驶。
- ③ 高速公路上车辆拥堵时, 边鸣笛边在路肩行驶。
- ④ 快速到达固然重要, 为防止交通事故应保持安全驾驶。

■ 정답 : 4

697. 根据《机动车管理法》的规定, 以下不属于特殊车辆的是哪种?

- ① 拖吊型特殊车辆
- ② 特殊作业型特殊车辆
- ③ 救助型特殊车辆
- ④ 用于煤气紧急修复的特殊车辆

■ 정답 : 4

698. 关于一类特殊驾驶证中小型拖吊车驾驶证的技能考试说明中正确的一项是?

- ① 小型拖吊车驾驶证合格标准为：满分为100分，成绩达到90分以上的为合格。
- ② 小型拖吊车考试需要通过直角转弯、曲线行驶、变更方向、道路行驶。
- ③ 小型拖吊车考试路线的合格标准为分别在5分钟内完成各个路线。
- ④ 未碰到小型拖吊车考试各个路线的确认线时分别减5分。

■ 정답 : 1

699. 用抢险车拖吊故障车辆时，被拖吊车应打开的车灯是?

- ① 前照灯、应急灯
- ② 前照灯、车尾灯
- ③ 车尾灯、位置灯、牌照灯
- ④ 左转向灯

■ 정답 : 3

700. 下列哪项属于抢险车驾驶员应遵守的事项?

- ① 在局部范围内允许抢险车驾驶员偷听警察的无线电通信。
- ② 抢险车驾驶员必须遵守道路交通法。
- ③ 发生交通事故时，出动的抢险车可以超速
- ④ 发生交通事故时，抢险车可无视信号等行驶。

■ 정답 : 2

701. 正在接近前方的交叉路口。下面的选项中最安全的2种驾驶方法是？

- ① 从停着的车辆间隙当中可能突然有人跑出来，应减速行驶。
- ② 看不到特别的危险，在交通信号变成红色之前提速。
- ③ 看不到人行横道上的行人，只需集中注意反向道路上行驶中的车辆。
- ④ 停在右侧的车辆不可能突然出发，无须注意。
- ⑤ 前方交通信号正变为黄色，应减缓车速。



■ 정답 : 1, 5

702. 为在单项三车道向右转弯而准备变更车道。下列选项当中最安全的2种驾驶方法是？

- ① 变更车道时，不必注意加塞到第2车道上的货车。
- ② 为不妨碍其他车辆，快速变道
- ③ 变更车道时，由于其他车辆的加塞可能会使前方车辆紧急停车，要注意安全变道
- ④ 开启转向灯，与3车道上行驶的车辆保持足够的距离后变更车道。
- ⑤ 只与前车保持安全距离即可。



■ 정답 : 3, 4

703. 在下面的情况当中，最安全的2种驾驶方法是？

- ① 在停止线前暂时停车，确认前方交通信号和行人安全之后再行驶。
- ② 鸣喇叭让行人迅速通过马路。
- ③ 缓慢行驶的同时，为了避免与行人相撞，躲避行人行驶。
- ④ 经过未设信号灯的路口时，可按原速行驶。
- ⑤ 防备在人行横道附近出现违法横穿马路的行人。



■ 정답 : 1, 5

704. 车辆原本正在通过交叉路口，在交通信号从绿色变为黄色的情况下，最安全的2种驾驶方法是？

- ① 必须迅速驶离交叉路口。
- ② 必须立刻停车。
- ③ 必须慢速行驶。
- ④ 必须暂时停车之后再行驶。
- ⑤ 必须在观察周围情况的同时，迅速行驶。



■ 정답 : 1, 5

705. 在下面的情况当中，最安全的2种驾驶方法是？

- ① 设置在前方道路路面上的标志是为了提醒大家有人行横道，需减速行驶。
- ② 设置在前方道路路面上的标志是为了提醒大家路口设有交通信号灯，需减速行驶。
- ③ 因为没有速度限制，故可以以每小时90公里左右的速度行驶。
- ④ 右前方公交车站有人，在行驶时要加以注意。
- ⑤ 紧急变更到左侧道路上行驶。



■ 정답 : 1, 4

706. 准备通过下面的交叉路口。下列选项中最安全的2种驾驶方法是？

- ① 前方设有保护儿童安全标志，需特别注意。
- ② 边鸣笛，边在人行横道内停止。
- ③ 加速迅速通过路口。
- ④ 在停止线前暂时停车。
- ⑤ 减速慢行通过路口。



■ 정답 : 1, 4

707. 正跟在货车后面行驶当中。必须保持足够安全距离行驶的2项理由是？

- ① 确保前方视野能预防危险。
- ② 货车上装载着的货物可能会掉落。
- ③ 可能会妨碍后面车辆超车到前方。
- ④ 信号灯变换的情况下，随着车流可以迅速驶离交叉路口。
- ⑤ 跟在货车后面行驶很安全。



■ 정답 : 1, 2

708. 有关进行非保护左转弯的方法中正确的两项是？

- ① 在不妨碍对面车辆直行的情况下左转弯。
- ② 有车辆从对面驶入，需暂时停车确定安全后左转弯。
- ③ 非保护左转弯有优先权，迅速左转弯。
- ④ 非保护左转弯区域，不能左转弯。
- ⑤ 红色信号灯亮起时左转弯。



■ 정답 : 1, 2

709. 有关下列情况的说明中正确的2项是?

- ① 可以进行非保护左转弯的交叉路口。
- ② 可以调头的交叉路口。
- ③ 前方信号灯没有左转弯信号。
- ④ 可根据绿色信号灯指示直行。
- ⑤ 可根据绿色信号灯指示调头。



■ 정답 : 2, 4

710. 在信号灯发生故障的交叉路口行驶时, 最安全的2种驾驶方法是?

- ① 对左转弯车辆鸣笛, 迫使其停车后再通过交叉路口。
- ② 因直行车辆有优先通行权, 在进入交叉路口后, 应避开左转弯车辆通行。
- ③ 进入交叉路口停止, 等待左转弯车辆驶过后通行。
- ④ 因为对面的左转弯车辆先进入交叉路口, 所以应向左转弯车辆让行后再通行。
- ⑤ 进入交叉路口之前暂时停车, 确保安全后通行。



■ 정답 : 4, 5

711. 在下面的情况当中, 最正确的2种驾驶方法是?

- ① 在对最高时速没有特别规定的情况下, 行驶速度应保持在70公里/时
- ② 因前方设有非保护左转弯标志, 在绿灯时可以左转弯。
- ③ 在驶入上坡路时, 必须将速度降低至最高限速的20%。
- ④ 人行横道附近会有穿越的行人, 应多加注意。
- ⑤ 在前方行驶的车辆缓慢行驶的情况下, 进行超车。



■ 정답 : 2, 4

712. 在下面的情况当中，最安全的2种驾驶方法是？

- ① 因该条路禁止停放车辆或暂时停车，需提速行驶。
- ② 经过右前方的乘用车旁边时，可能有人打开车门下车，需减速慢行。
- ③ 因对面道路上行驶的出租车违反了交叉路口的通行方法，应鸣笛给予警告。
- ④ 因左右两侧人行道上的行人可能跑出来，需减速行驶。
- ⑤ 因前方没有行驶车辆，需尽可能加速。



■ 정답 : 2, 4

713. 在下面的情况当中，最安全的2种驾驶方法是？


- ① 从对面道路上的巴士下车的乘客可能从巴士的前面跑出来，需减速行驶。
- ② 对面道路上的巴士突然出时，出租车很有可能越过中心线，需多加注意。
- ③ 前方没有发现人行横道，也没有违法横穿马路的人，可加快速度。
- ④ 因本车前方没有车辆行驶，可加速行驶。
- ⑤ 因单向1车道道路，可以每小时80公里的速度行驶。



■ 정답 : 1, 2

714. 正在未设信号灯的交叉路口处跟着前方车辆左转弯。下列选项当中，最安全的2种驾驶方法是？

- ① 因反方向上可能会有直行的车辆驶来，需紧跟前方车辆迅速行驶。
- ② 因前方车辆有可能紧急停车，需减速缓行。
- ③ 因已经进入交叉路口，可提速只注意前方并继续行驶。
- ④ 因在交叉路口附近可能出现行人，需边确认安全边行驶。
- ⑤ 因已在左转弯，可不考虑前方情况继续行驶。



■ 정답 : 2, 4

715. 在混乱的交叉路口直行时最安全的2种驾驶方法是？

- ① 车辆有可能停止在交叉路口前，即使在绿色信号灯亮起，也不应进入交叉路口。
- ② 按照前车行驶方向行驶即可。
- ③ 超车并迅速通过。
- ④ 留意其他交通状况并继续行驶。
- ⑤ 留意拥堵车辆周围可能会随意横穿的行人。



■ 정답 : 1, 5

716. 驶入交叉路口前黄色信号灯亮起。下列驾驶方法中最安全的2项是？

- ① 加速并迅速通过。
- ② 在停止线或人行横道前停车。
- ③ 注意前面的自行车或要过马路的行人。
- ④ 鸣喇叭，让妨碍行驶的前方自行车闪开。
- ⑤ 前方有停车的车辆，需变更到左侧车道后行驶。



■ 정답 : 2, 3

717. 正在驶入环形交叉口。下列驾驶方法中最安全的2项是？

- ① 左侧环行的车辆优先，需等环行车辆通过后再驶入。
- ② 驶入车辆优先，可迅速驶入。
- ③ 暂时停车后，边确认安全边驶入。
- ④ 右侧道路上的车辆优先，可直接驶入。
- ⑤ 鸣喇叭，使环行车辆停车后驶入。



■ 정답 : 1, 3

718. 现位于交叉路口想要右转。下列驾驶方法中最安全的2项是？

- ① 车辆信号灯为红色，不能右转。
- ② 边注意人行道上的行人边慢行、右转。
- ③ 以最快的速度右转。
- ④ 连续鸣喇叭，使人行道上的行人无法走上车道。
- ⑤ 边注意对面正在左转的车辆边右转。



■ 정답 : 2, 5

719. 在前方施工的车道上行驶。下列驾驶方法中最安全的2项是？

- ① 迅速插进左侧车道。
- ② 边开启左转向灯，边安全地变道至左侧车道。
- ③ 施工区域为人行道，可继续在当前行驶的车道上行驶。
- ④ 鸣喇叭，使相关施工人员避让。
- ⑤ 左侧车道拥堵时，在当前行驶的车道上暂时停车。



■ 정답 : 2, 5

720. 车前有人正在横穿马路。下列驾驶方法中最安全的2项是？

- ① 暂时停车，保护正在横穿马路的行人。
- ② 无保护横穿马路者的义务，可迅速行驶。
- ③ 急停车后从车上下下来对横穿马路者发火。
- ④ 开启应急灯，告知后边车辆危险情况。



⑤ 鸣喇叭，使横穿马路者无法横穿。

■ 정답 : 1, 4

721. 在下面的情况当中，在向右转弯的情况下最安全的2种驾驶方法是？

- ① 必须防备停在右前方的车辆突然出发。
- ② 防备右前方的行人突然跑出来。
- ③ 在根据信号灯指示的情况下，没必要防备行驶在左前方的车辆。
- ④ 因缓慢行驶会妨碍交通顺畅，需迅速通过。
- ⑤ 因不可能有人从右侧违法停车的车辆上下来，可加速行驶。



■ 정답 : 1, 2

722. 在前方有巴士发生故障的情况下，最安全的2种驾驶方法是？

- ① 鸣喇叭并且急刹车停下。
- ② 与巴士保持距离并确认安全之后，利用左侧车道缓慢行驶。
- ③ 注意左后方的同时，缓缓地变更到左侧车道。
- ④ 打开应急灯之后，加速变更至左侧车道。
- ⑤ 变更到左侧车道之后，照原样迅速驶离。



■ 정답 : 2, 3

723. 在如下图所示的道路上，最安全的2种驾驶方法是？

- ① 向前行驶的自行车可能会突然进入道路中央，要注意自行车的活动。
- ② 自行车右前方的车辆正处于驻车状态，无需特别注意。
- ③ 僻静道路，可不考虑道路左右两侧的情况直接行驶。
- ④ 与自行车保持足够的安全距离，缓慢行驶。
- ⑤ 鸣喇叭引起自行车的注意后超车。



■ 정답 : 1, 4

724. 下列情况中，最安全的2种驾驶方法是？

- ① 车辆有可能突然从停放的车辆中开出，需仔细观察左右同时慢行。
- ② 虽然是禁止停车处，但右前方的白色车辆后有车位，所以可以停车。
- ③ 对面车道随时可能有车辆驶来，做好向右边躲闪的准备。
- ④ 为不给后面跟来的车辆带来不便，尽量迅速通行或停车。
- ⑤ 可能有车辆越过中心线迎面驶来，应比其先越过中心线，快速通行。



■ 정답 : 1, 3

725. 如下路况中最安全的2种驾驶方法是？

- ① 减速通过减速带。
- ② 快速通过限速带。
- ③ 缓慢行驶通过限速带后，加速通过人行横道。
- ④ 始终保持同一速度快速行驶。
- ⑤ 减慢车速安全通过人行横道。



■ 정답 : 1, 5

726. 在下面的情况当中，最安全的2种驾驶方法是？

- ① 在雨天道路上，急刹车比几次踩刹车踏板更加安全。
- ② 经过积水处时，可能会把水溅到行人或是其他车辆上，应减速慢行。
- ③ 在到达减速带之前，紧急停车后再行驶。
- ④ 因为右前方打着雨伞步行的行人可能会进入车道，所以保持充分的距离之后缓慢行驶。
- ⑤ 因为打着雨伞的行人在人行道上，不必特别注意。



■ 정답 : 2, 4

727. 行人正在穿越人行横道。下列选项当中，最安全的2种驾驶方法是？

- ① 为让行人安全地穿过马路，临时停在停止线上。
- ② 迅速驶离该区域。
- ③ 注意从人行横道右侧突然跑出来的行人。
- ④ 接近人行横道时，为引起行人注意多次鸣笛。
- ⑤ 因左侧道路上的车辆可能会接近，反复鸣笛。



■ 정답 : 1, 3

728. 在前方有车辆驶来的情况下，下列选项中最安全的2种驾驶方法是？

- ① 让对方避开，本车照常行驶。
- ② 闪烁前照灯的同时给予警告。
- ③ 确保对方车辆有足够的空间能够通过。
- ④ 持续鸣笛引起对方注意的同时，使其迅速通过。
- ⑤ 因胡同里面有可能出现行人，需减缓车速。



■ 정답 : 3, 5

729. 以下路况中最安全的2种驾驶方法是？

- ① 行人已穿过马路，可直接通过。
- ② 避免因对面车辆的前照灯照射产生炫目，并留意行人。
- ③ 切换远光灯及近光灯以引起行人注意并通过。
- ④ 应减慢车速并在人行横道前暂时停车。
- ⑤ 为确保视野开启远光灯行驶。



■ 정답 : 2, 4

730. 雨天驾驶接近人行横道时。以下路况中最安全的2种驾驶方法是？

- ① 因水滴或湿气难以看清前方，需快速通过。
- ② 留意慌忙避雨的行人。
- ③ 为警示车辆接近，持续鸣笛行驶。
- ④ 留意被雨伞遮挡而未注意到车辆接近的行人。
- ⑤ 在通过积水处时有可能打滑，需在紧急制动停车后通过。



■ 정답 : 2, 4

731. 在设有单向2车道的上坡弯道上行驶时，最安全的2种驾驶方法是？

- ① 与前方车辆保持充分的行驶距离。
- ② 在前方车辆放慢车速时，同时超越2辆车。
- ③ 为了预防弯道的离心力作用而加速行驶。
- ④ 因预料到前方第1车道上的车辆可能会变更车道，需减速行驶。



⑤ 因预料到前方第1车道上的车辆可能会变更车道，需加速行驶。

■ 정답 : 1, 4

732. 在如下图的地方道路上行驶。下列选项当中，最安全的2种驾驶方法是？

- ① 车速应保持在可随时停车的速度行驶。
- ② 因反方向道路上没有车辆，使用前照灯进行警告的同时照原样行驶。
- ③ 预料到右前方道路上的车辆会进入车道，减缓车速使后方车辆有所防备。
- ④ 准备在右前方道路上进入的车辆有优先权，所有车辆都应暂时停车给右侧道路上的车辆让路。
- ⑤ 因直行的车辆具有优先权，可持续鸣喇叭的同时继续行驶。



■ 정답 : 1, 3

733. 下列情况中最安全的2种驾驶方法是？

- ① 因对面车辆超车属于违法行为，需鸣笛的同时继续行驶。
- ② 等对面正在超车的车辆通过后，注意右侧行人的同时，小心地在弯道行驶。
- ③ 快速进入弯道再缓慢开出是安全的。
- ④ 在弯道行驶时，紧贴中心线行驶更安全。
- ⑤ 为使对面正在超车的车辆可以安全超车，需减速行驶。



■ 정답 : 2, 5

734. 在Y字形交叉路口左转弯时，最安全的2种驾驶方法是？

- ① 对面道路无车辆驶来时，可越过有黄色实线的中心线行驶。
- ② 在进入交叉路口前，开启左转向灯。
- ③ 经过交叉路口后，开启左转向灯。
- ④ 在交叉路口前30多米以上的地点，开启左转向灯。
- ⑤ 开启左转向灯，充分观察周边路况，确认安全后通行。



■ 정답 : 4, 5

735. 下面的情况当中，当市内巴士不出发时，最安全的2种驾驶方法是？

- ① 反复鸣笛使停靠在路边的市内巴士迅速出发。
- ② 在停车的状态下，转头确认跟在后面的车辆是否跟上。
- ③ 开启左转向灯，边看后视镜边确认安全，随后变更车道。
- ④ 因有可能和左侧车道上行驶的车辆发生交通事故，需紧急变更车道。
- ⑤ 因从巴士上下来的人有可能违法横穿马路，需迅速通过巴士的前方。



■ 정답 : 2, 3

736. 如下路况中最安全的2种驾驶方法是？

- ① 由于前车在禁止超车的路段超车，应持续鸣笛加以制止。
- ② 由于前车在超车，为确保交通顺畅，应跟随其后实施超车。
- ③ 由于中心线是黄色实线区域，不得超车。
- ④ 考虑到交通状况，应紧随正在实施超车的前车行驶。
- ⑤ 由于无法得知停放在前方右侧的车辆何时出发，驾驶时应当留意。



■ 정답 : 3, 5

737. 在坡顶附近行驶时，最安全的2种驾驶方法是？

- ① 保持现在的行驶速度。
- ② 因可能会出现违法横穿马路的人，行驶时需格外注意。
- ③ 加速行驶。
- ④ 看到下坡路的时候，将变速器置于空挡。
- ⑤ 由于是急转弯路段相连区域，需减速行驶。



■ 정답 : 2, 5

738. 在环形交叉口中，最安全的2种驾驶方法是？

- ① 由于转弯车辆优先，驶入车辆需让行。
- ② 由于直行车辆优先，可直接驶入。
- ③ 向转弯车辆鸣笛示意并驶入。
- ④ 转弯车辆在留意驶入车辆的同时转弯。
- ⑤ 在第一辆转弯车辆经过后直接驶入。



■ 정답 : 1, 4

739. 欲超越前方巴士行驶。最安全的2种驾驶方法是？

- ① 从前车的右侧超车。
- ② 从前车的左侧超车。
- ③ 若前方巴士试图超车，则应放弃超车。
- ④ 与后车行驶无关，快速变更车道超车。
- ⑤ 以超过法定速度的车速超车。



■ 정답 : 2, 3

740. 在交通信号灯黄色信号闪烁的交叉路口处，最安全的2种驾驶方法是？

- ① 留意周围车辆缓慢行驶。
- ② 无需预测危险状况行驶。
- ③ 直接通过交叉路口。
- ④ 无需留意前方左转弯车辆，可直接驶入。
- ⑤ 确认是否存在试图通过人行横道的行人。



■ 정답 : 1, 5

741. 上坡路弯道右侧设有施工标志牌。最安全的2种驾驶方法是？

- ① 施工中，需注意留意前方路况。
- ② 由于路上车辆较少，无需减慢车速行驶。
- ③ 由于是弯道，需降低车速行驶。
- ④ 由于是上坡路，需提高车速。
- ⑤ 由于存在撞上中央隔离带的危险，需压过车线行驶。



■ 정답 : 1, 3

742. 在郊区行驶途中出现如图所示的情况时，最安全的2种驾驶方法是？

- ① 因无法确认右弯道路的前方情况，需减速慢行。
- ② 避开右侧停放的车辆，快速越过道路中心线通过。
- ③ 超过限速范围，快速通过。
- ④ 可能会因离心力越过道路中心线，需紧紧沿着路边区域线行驶。
- ⑤ 因停放的车辆后侧可能会突然有人走出，需慢行通过。



■ 정답 : 1, 5

743. 在高速公路上行驶途中出现如图所示的情况时，最安全的2种驾驶方法是？

- ① 在隧道入口注意侧风、减速。
- ② 驶入隧道前开启夜间使用的车灯。
- ③ 在佩戴太阳镜的状态下行驶。
- ④ 如侧面车道通畅，即可变更车道。
- ⑤ 在隧道内会丧失速度感，可快速通过。



■ 정답 : 1, 2

744. 在高速公路行驶途中出现如图所示的情况时，最安全的2种驾驶方法是？

- ① 以低于限速90公里/时的速度行驶。
- ② 超出最高限速行驶，在无人管制设备前减速。
- ③ 因法定速度优先于安全标志标示的限速，可以100公里/时的速度行驶。
- ④ 为超越货车，以100公里/时的速度迅速通过。
- ⑤ 为防止前方货车突然减速，需确保安全距离。



■ 정답 : 1, 5

745. 在郊区行驶途中出现如图所属的情况时，最安全的2种驾驶方法是？

- ① 因前车尾气严重，可急变道至该车辆前迫使其停车。
- ② 加速可能会与右侧防护墙发生碰撞，需减速。
- ③ 左侧车辆可能会因离心力越至右侧，需加速比它更快通过。
- ④ 因前方道路变为3条车道，应加速行驶。
- ⑤ 因左侧车道上行驶的车辆妨碍视线，很难确认当前行驶车道的前方情况，应减速行驶。



■ 정답 : 2, 5

746. 在准备经高速公路的匝道驶离高速公路时，最安全的2种驾驶方法是？

- ① 在安全岛暂时停车后通行。
- ② 沿白色虚线部分前行。
- ③ 错过高速公路出口时，可倒车后通行。
- ④ 开出出口处之前减速通行。
- ⑤ 通行时如遇前面车辆停车，应利用安全岛迅速通过。



■ 정답 : 2, 4

747. 准备从第3车道变道至第2车道时。最安全的2种驾驶方法是？

- ① 驶入第2车道时，应最大限度地减速。
- ② 确认2车道上行驶的车辆位置或速度后驶入。
- ③ 即使会发生危险，也还是紧急变换车道。
- ④ 驶入第2车道时，鸣笛警告后再驶入。
- ⑤ 变更车道前提前开启转向灯，确认安全后驶入。



■ 정답 : 2, 5

748. 在驶入地下车道的入口时，最安全的2种驾驶方法是？

- ① 在地下车道内与前方车辆保持安全距离的同时行驶。
- ② 打开前照灯仔细观察前方的同时以安全速度行驶。
- ③ 考虑到在地下车道内的车流，超车到速度缓慢的其他车辆前面。
- ④ 因为地下车道内部感觉到的速度变快，所以依靠前方车辆的前照灯行驶。
- ⑤ 为了让其他车辆无法加塞，缩短与前方车辆的距离行驶。



■ 정답 : 1, 2

749. 在下面的情况当中，最安全的2种驾驶方法是？

- ① 因为在第2车道上的货车正在行驶，应利用巴士专用车道进行超车。
- ② 在第2车道上行驶的货车前方迅速变更车道。
- ③ 注意实习驾驶车辆（教练车）并减速行驶。
- ④ 在第2车道上的货车后面安全地变更车道之后，继续行驶。
- ⑤ 为了让实习驾驶车辆（教练车）提高车速，持续鸣笛。



■ 정답 : 3, 4

750. 在有车辆准备变更车道时，最安全的2种驾驶方法是？

- ① 持续鸣笛，使其无法变更车道。
- ② 加速紧贴在前方车辆的后面行驶。
- ③ 为预防事故发生，紧急变更至左侧车道。
- ④ 为其确保足够的空间便于其变道。
- ⑤ 通过后视镜观察后方车辆的情况，减速行驶。



■ 정답 : 4, 5

751. 经过前方交叉路口，准备从右侧匝道驶入高速路的时候，最安全的2种驾驶方法是？

- ① 要注意在交叉路口右侧道路上右转弯的车辆。
- ② 持续直行，在到达匝道之前，变更车道进入道路。
- ③ 在匝道入口的人行横道上暂时停车后，缓慢驶入。
- ④ 错过匝道时，开启应急灯倒车再次进入。
- ⑤ 通过交叉路口之后，确认右后方的安全后缓慢变更至右侧车道。



■ 정답 : 1, 5

752. 下面的情况中，最安全的2种驾驶方法是？


- ① 为使右前方的车辆能够迅速驶入，提高本车的速度先行通过。
- ② 为使右前方的车辆能够安全驶入，应减速慢行。
- ③ 因右前方的车辆驶入快车道时有可能打滑，应保持足够的安全距离。
- ④ 因右前方车道禁止通行，应鸣笛以引起注意。
- ⑤ 因驶入的车辆必须让路，可不必减速照常行驶。



■ 정답 : 2, 3

753. 下列有关在机动车专用车道（行驶的车道标有白色实线）上变更车道的说明中正确的2项是？

- ① 在第2车道上行驶的货车可以将车道变更至第1车道。
- ② 在第2车道上行驶的货车不得将车道变更至第3车道。
- ③ 可以在第3车道上变更至加速车道。
- ④ 可以在加速车道上变更车道至第3车道。
- ⑤ 可以在所有的车道上变更车道。



■ 정답 : 2, 4

754. 在以下路况行驶时，最安全的2种驾驶方法是？


- ① 由于右侧前方的货车可能会突然驶入，应鸣笛并提高车速。
- ② 快速变更车道至主路。
- ③ 一边注意后方来车一边变更车道。
- ④ 提高车速，快速变更车道进入主路行驶车辆的前方。
- ⑤ 留意右前方停放货车的前方路况，小心 驾驶。



■ 정답 : 3, 5

755. 在地下车道附近被禁止的2项驾驶行为是？

- ① 超车
- ② 开启前照灯
- ③ 开启示宽灯及尾灯
- ④ 鸣笛
- ⑤ 变更车道



■ 정답 : 1, 5

756. 以下路况中安全的2种出入方法是？

- ① 开启右转向灯发出信号，确认安全后变更车道。
- ② 在行驶车道上缓慢行进。
- ③ 在行驶车道上充分加速后，在出口前方直接驶出。
- ④ 利用减速车道缓慢减速，从出口驶出。
- ⑤ 超车至右侧面包车前方，进入减速车道。



■ 정답 : 1, 4

757. 在单向2车道的高速公路上行驶时。以下驾驶方法中安全的2项是？

- ① 与前方货车保持足够的安全距离。
- ② 右侧车道的乘用车可能并道，需减速。
- ③ 为超越前方货车，将车道变更至右侧乘用车前方。
- ④ 因在车辆河流路段附近，无需确保安全距离。
- ⑤ 为了不让右侧乘用车进入，缩短与前方货车的距离。



■ 정답 : 1, 2

758. 欲超过前方低速行驶的货车时，下列驾驶方法中安全的2项是？

- ① 连续鸣笛或远光灯，使前车让行。
- ② 从前方货车的右侧迅速变更车道后超车。
- ③ 提前开启左转向灯，确保安全距离后驶入左侧车道并超车。
- ④ 因左侧车道上车辆较多，不要勉强尝试超车。
- ⑤ 尽量接近前方货车后超车。



■ 정답 : 3, 4

759. 在机动车专用道上欲驶入右侧车道时，下列驾驶方法中安全的2项是？

- ① 错过匝道时立即开启危险警报灯，倒车驶入匝道。
- ② 急减速并向右侧行驶方向变更车道。
- ③ 开启右转向灯并确保安全距离，根据实际情况驶入右侧。
- ④ 错误驶入入口时，立即打开双闪灯后退，返回到打算进入的车道。
- ⑤ 即使入口车道上没有车辆，也要打开右转向灯后进入车道。



■ 정답 : 3, 5

760. 下列情况中，驾驶人判断正确的2项是？

- ① 没必要与第3车道上行驶的乘用车保持充分间距。
- ② 预防第2车道上行驶的车辆为驶入机场方向而加塞至第3车道。
- ③ 预防第2车道上行驶的机动车为避免与前车相撞而突然驶入第3车道。
- ④ 因第2车道上的机动车可能会加塞，应缩短与第3车道前车之间的距离。
- ⑤ 相信第2车道上行驶的乘用车绝对不会变更车道至第3车道。



■ 정답 : 2, 3

761. 车辆正在高速公路上行驶。下面的情况当中，最安全的2种驾驶方法是？

- ① 紧急变更车道并加速行驶。
- ② 为了防止与前方车辆追尾，确保安全距离。
- ③ 确认安全之后，变更车道。
- ④ 因为前方车辆行驶缓慢，为了使视野不受妨碍，从右侧超车。
- ⑤ 减缓车速后缓慢行驶。



■ 정답 : 2, 3

762. 在下面的情况当中，最安全的2种驾驶方法是？

- ① 因前方的交通正处于停滞状态，在确保安全距离的同时行驶。
- ② 变更到相对通畅的车道。
- ③ 听音乐或是吸烟。
- ④ 为了不让其他车辆加塞到本车前方，缩短与前方车辆的距离。
- ⑤ 为了防止前方车辆紧急停车，多加注意前方的情况继续行驶。



■ 정답 : 1, 5

763. 在下面的情况当中，最安全的2种驾驶方法是？

- ① 试图从右侧超车。
- ② 鸣喇叭使前方车辆换到第3车道上后，继续行驶。
- ③ 闪烁前照灯以使其遵守行车线。
- ④ 因为无法得知前方的情况，需维持安全距离直到确保视野开阔。
- ⑤ 因为无法得知大型机动车前方的情况，应充分减缓车速。



■ 정답 : 4, 5

764. 车辆正在高速公路上行驶。最安全的2种驾驶方法是？

- ① 开启右转向灯，变更至右侧车道之后再超车。
- ② 缩短与向前行驶的货车的安全距离，同时继续行驶。
- ③ 为了超车到前方车辆的前面，开启左转向灯，观察前后方的安全之后从左侧超车。
- ④ 与向前行驶的货车保持充分的安全距离，同时继续行驶。
- ⑤ 持续鸣喇叭以催促其迅速行驶。



■ 정답 : 3, 4

765. 在积雪融化的桥梁上，关于在下面的情况下安全的行驶方法的叙述，正确的2项是？

- ① 前方右侧车辆正踩刹车减速，可正常超车。
- ② 雪融化后只有水，在没有结冰的情况下无需特别减速。
- ③ 桥梁上发生事故的危险性比较高，所以不在前方车辆的右侧超车。
- ④ 利用第2车道安全变道。
- ⑤ 小心结冰路段等，减速慢行。



■ 정답 : 3, 5

766. 下列有关高速公路的说明及安全进出的方法中正确的2项是?

- ① 是具有2个车道以及右侧路肩的高速公路。
- ② 第1车道是乘用车与1.5吨以下的货车的行驶车道，第2车道是特殊车辆的行驶车道。
- ③ 由于正在靠近匝道，因此提前在标有白色实线的右侧路肩上行驶并驶离。
- ④ 因为路面状态良好，可加速通行。
- ⑤ 注意不要错过匝道，同时一直在车道上通行，直到到达可以变道的地点再进行变道。



■ 정답 : 1, 5

767. 长时间行驶在高速公路上时有可能犯困。最安全的2种驾驶方法是?


- ① 到附近的休息站暂作休息。
- ② 为防止犯困，经常变换车道。
- ③ 把车停在路肩暂作休息。
- ④ 强忍着困意加速行驶，尽快到达目的地。
- ⑤ 打开车窗换气后，以安全的速度开到最近的休息站。



■ 정답 : 1, 5

768. 在下面的情况当中，最安全的2种驾驶方法是?

- ① 因不清楚隧道外面的情况，在驶离隧道的同时提高车速。
- ② 因通过隧道的同时可能会刮强风，应双手紧握方向盘行驶。
- ③ 在隧道内充分地减速行驶。
- ④ 在隧道内加速，尽量紧跟在前方车辆的后面行驶。
- ⑤ 在隧道内变更车道选择想要去的车道。



■ 정답 : 2, 3

769. 拟从高速公路收费站快速通道通过时, 最安全的2种驾驶方式是?

- ① 使用快速通道的车辆, 在到达收费站之前先变更到空的快速通道上。
- ② 因快速通道不拥堵, 不使用快速通道的车辆也可在快速通道专用车道上驾驶, 到收费站入口后再变更车道。
- ③ 使用快速通道的车辆应考虑到前方车辆的减速, 以时速30公里以下的速度保持安全距离。
- ④ 使用快速通道时, 因通过收费站时无需停车, 车辆无需与前车保持安全距离, 可快速驾驶通过。
- ⑤ 不使用快速通道的车辆提前变更到其它车道。



■ 정답 : 3, 5

770. 车辆正在桥上行驶, 在刮着强风和车身剧烈摇晃的情况下, 最安全的2种驾驶方法是?

- ① 加速行驶。
- ② 减速行驶。
- ③ 轻轻握住方向盘。
- ④ 比平时更加用力地紧握住方向盘。
- ⑤ 迅速行驶并紧握住方向盘。



■ 정답 : 2, 4

771. 在下列情况时，最安全的2种驾驶方法是？

- ① 不变换车道，保持现在的车速通行。
- ② 为了防止打滑，应减速慢行。
- ③ 因残疾人车辆有可能突然变换方向，应小心行驶。
- ④ 从前方右侧停着的公交车旁迅速通行。
- ⑤ 不会有什么危险，可加速行驶。



■ 정답 : 2, 3

772. 正在接近前方处于停滞状态的交叉路口。最安全的2种驾驶方法是？


- ① 因为交通信号绿灯亮起，可继续行驶。
- ② 迅速驶过人行横道，跟在前方车辆的后面。
- ③ 因为正处于停滞状态，所以在进入交叉路口之前，应先在停止线上暂时停车。
- ④ 用手势告之行人快速穿过马路。
- ⑤ 注意行人的活动。



■ 정답 : 3, 5

773. 在下面的情况下，最安全的2种驾驶方法是？

- ① 正在施工中的建筑机械或施工人员有可能突然进入车道，因此应做好防备。
- ② 与公路边的施工车辆相比，在公路上通行的车辆有优先权，因此鸣笛引起注意后即可继续行驶。
- ③ 在建筑机械进入道路的情况下，因其要缓慢跟在车后，所以可以加速迅速通行。
- ④ 因为是在儿童保护区域的起始处，车速应控制在30公里/时内，慢行并防止突发的危险情况。
- ⑤ 虽然车辆行驶到儿童保护区域的起始处，但是因为道路上没有儿童，可维持现在车速行驶。



■ 정답 : 1, 4

774. 下列有关儿童保护区域的说明中正确的2项是？

- ① 在儿童保护区域，机动车的通行速度限制在时速50公里以内。
- ② 为保护儿童免受交通事故的危险，可以指定儿童保护区域。
- ③ 在儿童保护区域允许停放车辆及暂时停车。
- ④ 儿童保护区域能够引起儿童注意，因此不会发生事故。
- ⑤ 应遵守通行车速，留意儿童的安全，进行驾驶。



■ 정답 : 2, 5

775. 以下路况中最安全的2种驾驶方法是？

- ① 以低于时速30公里的速度缓慢行驶。
- ② 不可以停放车辆及暂时停车。
- ③ 由于是下坡路，可快速行驶。
- ④ 虽然不能停放车辆，但可以暂时停车。
- ⑤ 通过人行横道时鸣笛行驶。



■ 정답 : 1, 2

776. 有关指定儿童保护区域的说明中最恰当的2项是？

- ① 在儿童保护区域，机动车的通行速度低于时速60公里。
- ② 可以将幼儿园设施的周边道路指定为儿童保护区域。
- ③ 可以将小学周边道路指定为儿童保护区域。
- ④ 特殊教育学校的周边道路不能被指定为儿童保护区域。
- ⑤ 被指定为儿童保护区域的托儿所周边道路，其通行速度应在时速10公里以下。



■ 정답 : 2, 3

777. 在学校前方人行横道附近需要遵守的内容中正确的2项是?

- ① 无车通行时可以停放车辆。
- ② 留意行人的活动，仔细观察前方。
- ③ 高于限制速度行驶。
- ④ 可以暂时停车而与车辆通行无关。
- ⑤ 行人横过马路时暂时停车。



■ 정답 : 2, 5

778. 以下路况中最安全的2种驾驶方法是?

- ① 提高车速通过空着的车道。
- ② 由于无异常危险，可与其他车辆一同通过。
- ③ 根据路面标志降低车速行驶。
- ④ 由于可能会有行人突然跑出，应鸣笛通过。
- ⑤ 留意被其他车辆挡住而无法观察到的行人。



■ 정답 : 3, 5

779. 在下面的情况当中，最安全的2种驾驶方法是？

- ① 在难以变更车道的情况下，临时停在巴士后面，观察巴士动作的同时进行行驶。
- ② 因为下车的乘客可能突然跑到车道上来，应紧急停车。
- ③ 仔细观察跟在后面的车辆以及从巴士上下车的乘客们的活动，确认安全的同时进行行驶。
- ④ 观察其他车辆的活动，如果没有什么问题的话，直接超车到巴士前方进行行驶。
- ⑤ 鸣喇叭以唤起周围的注意，同时迅速变更车道到左侧车道。



■ 정답 : 1, 3

780. 在交叉路口准备向右转弯。下列选项中最安全的2种驾驶方法是？

- ① 因为打着雨伞的行人可能会突然走到人行横道上，应减速行驶。
- ② 因为认定行人已经穿过马路，可迅速右转弯。
- ③ 下雨天尽量紧跟在前方车辆的后面缓慢行驶。
- ④ 因为道路边上的水坑里溅起来的水可能会造成危险，应注意行驶。
- ⑤ 在交叉路口向右转弯的时候，猛踩制动踏板是安全的。



■ 정답 : 1, 4

781. 在下面的情况下，最安全的2种驾驶方法是？

- ① 连续鸣喇叭，提示行人有车接近。
- ② 在行人后面缓慢行驶。
- ③ 到达人行横道之前，在停止线暂时停车。
- ④ 为了让行人迅速通过马路，闪烁前照灯进行催促。
- ⑤ 确认行人通过马路后再起步。



■ 정답 : 3, 5

782. 以下道路情形中最安全的2种驾驶方法是？

- ① 遵守安全标志上标示的速度。
- ② 儿童可能会突然窜出，应边注意观察边行驶。
- ③ 因为没有车辆，所以可在道路右侧停车。
- ④ 尽管是儿童保护区域，但没有儿童时与普通公路无异。
- ⑤ 被指定为儿童保护区域的区间可能发生危险，应迅速通过。



■ 정답 : 1, 2

783. 下列通过儿童保护区域时能够预测到的要素中最危险的2项是？

- ① 对面路边区域正在进行电气施工的车辆
- ② 对面下方车道上停放的车辆
- ③ 前方车辆急停车
- ④ 停放车辆间跑出的行人
- ⑤ 欲驶入当前行驶车道的停放车辆



■ 정답 : 4, 5

784. 在下列路况中行驶时，正确的2项通行方法是？

- ① 因老人正在路边区域步行，应边提前减速边注意。
- ② 因老人正在路边区域步行，应慢行通过。
- ③ 确信老人不会靠近第2车道，应照常行驶。
- ④ 边对老人鸣喇叭告知其有车辆经过，边迅速驶过。
- ⑤ 利用第1车道与第2车道中间部分，无需减速照常行驶。



■ 정답 : 1, 2

785. 有关在如下道路上通行时注意事项的说明中正确的2项是？

- ① 因告知此处为老人保护区域，应提前充分减速，注意安全。
- ② 老人保护区域内虽未看到有老人正在步行，也应慢行通过。
- ③ 虽然是老人保护区域，但只需在建筑前慢行通过。
- ④ 为确保安全，尽量紧紧跟在前车后面通过。
- ⑤ 加速迅速驶离老人保护区。



■ 정답 : 1, 2

786. 在下列情况时最安全的2种驾驶方法是？

- ① 紧跟在手推车后，鸣笛行驶。
- ② 与手推车保持距离缓慢行驶。
- ③ 就当手推车知道后方交通状况，加速通行。
- ④ 边注意其它交通状况，边变道。
- ⑤ 利用与手推车同一车道内的左侧空间超车。



■ 정답 : 2, 4

787. 在如下路面积雪的路况中，最安全的2种驾驶方法是？

- ① 不紧急制动，不猛转方向盘。
- ② 利用前照灯提醒对面车辆注意并通过。
- ③ 与前车保持足够的安全距离行驶。
- ④ 鸣笛行驶。
- ⑤ 紧随前车快速通过。



■ 정답 : 1, 3

788. 在下列情况下哪2种机动车的通行方法是正确的？


- ① 左侧道路的货车右转弯加入紧急车辆的队列。
- ② 所有车辆都要为紧急车辆让路。
- ③ 不管紧急车辆如何行驶，只按照交通信号行驶。
- ④ 超越紧急车辆迅速行驶。
- ⑤ 左侧道路的货车要一直等到紧急车辆通过为止。



■ 정답 : 2, 5

789. 紧急车辆出动时，驾驶人员的哪2种驾驶方法最恰当？

- ① 不管紧急车辆如何行驶，只按照交通信号行驶。
- ② 为紧急车辆让路，使其迅速通行。
- ③ 对面道路上的公共汽车在左转弯信号灯亮起时也应停车，为紧急车辆让路。
- ④ 不是所有机动车都需要为紧急车辆让路。
- ⑤ 可在紧急车辆行驶的车道上暂时停车。



■ 정답 : 2, 3

790. 在下列情况下驾驶人员最恰当的2种驾驶方法是什么?

- ① 正在转弯的乘用车在紧急车辆要进入转弯车道时应该让路。
- ② 为了给紧急车辆让路，要避到左、右两侧让路。
- ③ 搭载乘客的公共汽车没必要让路。
- ④ 即使是紧急车辆也不能横穿安全地带超车。
- ⑤ 为了安全驾驶跟在紧急车辆后面行驶。



■ 정답 : 1, 2

791. 行驶中，自行车试图从车辆前通过。最安全的2种驾驶方法是?

- ① 下车后让骑行者注意应该使用人行横道。
- ② 边通行边持续鸣笛提醒骑行者提高警惕。
- ③ 为了不让自行车进入，紧贴在公交车后面。
- ④ 暂时停车，让自行车能够安全地过马路。
- ⑤ 如果车辆左侧有其他车辆正在行驶，就用手势等示意有危险使之停下。



■ 정답 : 4, 5

792. 在下面的情况下，最安全的2种驾驶方法是?

- ① 鸣笛，引导自行车向右侧避让后，从自行车旁边行驶。
- ② 下雪后路面很滑，应尽量少急刹车。
- ③ 因为是在向左急转弯的上坡路上行驶并且路面湿滑，应与自行车保持安全距离，慢行。
- ④ 因为反方向车道没有车辆开来，应在反方向道路上行驶。
- ⑤ 迅速超越自行车。



■ 정답 : 2, 3

793. 下列状况时最安全的2种驾驶方法是？

- ① 持续鸣笛后，引导行人利用道路边缘地带通行。
- ② 为防止停放车辆车门突然打开，应保持一定的距离慢行。
- ③ 猛烈空转使行人畏惧的同时行驶。
- ④ 前方有行人或自行车的情况下，因为其可能佩戴耳机，应保持一定的距离慢行。
- ⑤ 当前方行人与自行车移动到道路边缘地带时，快速地通行。



■ 정답 : 2, 4

794. 两辆车正在进入合并的道路。最安全的2种驾驶方法是？

- ① 因为车辆汇合可能会使跟在后面的摩托车摔倒，应与摩托车保持充分的距离行驶。
- ② 因为摩托车在紧急情况下也可轻易变更车道，所以不可能与本车发生追尾。
- ③ 在汇合的道路上车辆有可能紧急停止，应与前方车辆保持充分的距离。
- ④ 在汇合的道路上，从变窄的车道上出现的车辆加塞时，鸣笛并且与之一起行驶。
- ⑤ 在未设有信号等车流汇合道路上，因为驾驶员的注意，所以没有发生交通事故的危险。



■ 정답 : 1, 3

795. 在下面的情况当中，车辆准备右转弯。最安全的2种驾驶方法是？

- ① 迅速右转弯，避免与自行车相撞。
- ② 鸣笛示意自行车尽量在道路边缘地带通行。
- ③ 右转弯时，与后轮相比，前轮越过道路边缘线引起事故的可能性更高。
- ④ 右侧自行车为了避开迎面而来的自行车可能会驶到车道里面来，应减速。
- ⑤ 右转弯时，要与未观察到的左侧道路直行车辆及自行车保持足够的安全距离。



■ 정답 : 4, 5

796. 车辆正占在第1车道和第2车道上行驶。此时最安全的2种驾驶方法是？

- ① 变更车道到第1车道后迅速通过。
- ② 确认是否有从右侧人行道上进入人行横道的行人。
- ③ 鸣喇叭使自行车骑行人迅速通过。
- ④ 因为自行车不是行人，可从自行车的后方通过。
- ⑤ 在停止线之前暂时停车。



■ 정답 : 2, 5

797. 正在交叉路口等待右转信号灯。最安全的2种驾驶方法是？

- ① 通过道路边缘地带右转弯。
- ② 跟随前车缓慢行驶右转。
- ③ 尽管交叉路口内侧堵车，也要在交通信号灯为绿色的情况下先驶入。
- ④ 向前方右侧的骑自行车者和行人持续鸣笛并且右转弯。
- ⑤ 跟前方右侧自行车和行人保持安全距离后右转弯。



■ 정답 : 2, 5

798. 在下列情况时，最安全的2种驾驶方法是？

- ① 路面宽阔足够车辆驶离，可保持原速通行。
- ② 慢行并注意自行车的一举一动。
- ③ 与自行车交叉行驶时，踩踏加速踏板，加速迅速通过。
- ④ 反复鸣笛提高骑自行车骑行人的警惕性并继续行驶。
- ⑤ 与自行车保持足够的距离，注意不要发生碰撞。



■ 정답 : 2, 5

799. 在下列情况时，最安全的2种驾驶方法是？

- ① 自行车不可能驶入车道，可加速迅速通过。
- ② 为了防备自行车进入人行横道，应暂时停车。
- ③ 在自行车安全地过马路后，再通行。
- ④ 突然向第1车道紧急变道，迅速通行。
- ⑤ 骑着自行车横过人行横道的话，就无法以行人的身份来接受保护，所以照原样通过。



■ 정답 : 2, 3

800. 决定从自行车的旁边通过时，最安全的2种驾驶方法是？

- ① 连续鸣喇叭的同时通过。
- ② 与自行车保持充分的安全距离。
- ③ 因为自行车可能会突然冲入道路中央，应减速慢行。
- ④ 缩短与自行车的安全距离迅速驶离。
- ⑤ 大型车辆迎面驶来时，使用前照灯提醒其注意并通过。



■ 정답 : 2, 3

801. 在下面的情况当中，最安全的2种驾驶方法是？

- ① 因为无法得知卡车前方的情况，应缓慢行驶。
- ② 因为卡车向左转弯，应跟着卡车进入并通过交叉路口。
- ③ 先进入交叉路口，同时边注意右侧的摩托车边行驶。
- ④ 加速在卡车的右侧行驶。
- ⑤ 注意交叉路口左右道路的情况。



- 设有黄色闪光信号灯的交叉路口
- 在交叉路口处左转弯的卡车
- 停在右侧道路上的摩托车

■ 정답 : 1, 5

802. 紧随面包车右转弯的情况下预期可能会发生的2项危险是？

- ① 面包车不会随意紧急制动，因此始终是安全的。
- ② 只需注意前车刹车灯即可迅速应对，因此无危险。
- ③ 由于存在着因面包车导致的视野限制，因此难以应对前方状况。
- ④ 如果对驾驶技术有信心，就可以快速处理危险状况，因此没有问题。
- ⑤ 面包车紧急刹车时没有足够的安全距离，可能会发生撞车。



- 单向1车道普通公路
- 后视镜中的乘用车

■ 정답 : 3, 5

803. 在下面的情况当中，右转弯的时候，最安全的2种驾驶方法是？

- ① 因右转弯的拖车速度很慢，可在拖车的左侧超车右转弯。
- ② 因道路充分宽阔，可从拖车的右侧超车到前面。
- ③ 因为拖车正在向交叉路口外侧转换方向，空间足够宽阔，可行驶到拖车旁边与其并排向右转弯。
- ④ 即使道路很宽阔，对拖车的右转弯来说也并不充分，应保持安全距离缓缓地跟在后面。
- ⑤ 因为拖车会因内轮差大转弯，所以不进入交叉路口，只在后面跟着。



- 道路宽阔
- 拖车开启右转向灯准备右转弯

■ 정답 : 4, 5

804. 在下面的情况中，直行的时候，最安全的2种驾驶方法是？

- ① 因为第1车道上的乘用车可能会紧急变更车道到本车所行驶的车道上来，应缩短与前方车辆的间距。
- ② 因出租车可能为载客而紧急停车，应要保持一定距离。
- ③ 因为乘用车和出租车看不清前方的道路状况，应跨在第1、第2车道的中间行驶。
- ④ 因为已经预料到出租车为了载客会暂时停车，应迅速变更车道至第1车道。
- ⑤ 出租车为了右转弯有可能减速，因此事先减速跟在其后方。



- 在第1、第2车道上并排行驶的乘用车和出租车
- 本车行驶在出租车的后面
- 站在人行道上挥手的行人

■ 정답 : 2, 5

805. 如下图所示，在非保护左转弯的交叉路口左转弯的情况下，最危险的2种因素是？

- ① 在对面车道上的乘用车左转弯。
- ② 与跟在后方的乘用车发生追尾的危险。
- ③ 为了保护行人，货车在人行横道前方暂时停车。
- ④ 在对面车道上直行的车辆与本车相撞的危险。
- ⑤ 跟在本车后面的车辆的超车。



- 前方交通信号为绿灯
- 在左侧人行横道上过马路的行人
- 后视镜里显示的远远地跟在后面的乘用车
- 从前方直行驶来的乘用车

■ 정답 : 3, 4

806. 欲在以下交叉路口右转弯时。最安全的2种驾驶方法是?

- ① 由于巴士乘客正在下车，应暂时停车。
- ② 由于巴士无法确认前方路况，为确保视野应快速右转弯。
- ③ 由于巴士可能会突然出发，可越过中心线右转弯。
- ④ 由于从巴士下车的人们可能会在巴士前方突然横穿马路，需要留意。
- ⑤ 由于从巴士下车的人们可能会在巴士后方横穿马路，可利用对面车道右转弯。



- 前方车辆信号为绿色信号
- 从巴士上下车的人们

■ 정답 : 1, 4

807. 在设有黄色信号灯闪烁的交叉路口右转弯的时候，最危险的2种因素是?

- ① 前方对面车道上试图左转弯的货车
- ② 在右侧道路上试图右转弯的乘用车
- ③ 等待左转弯的乘用车
- ④ 后视镜里的乘用车
- ⑤ 在第3车道上行驶的摩托车



- 在前方试图左转弯的货车
- 在右侧道路上试图右转弯的乘用车
- 等待左转弯的乘用车
- 本车行驶在第2车道上
- 在第3车道上行驶的摩托车
- 后视镜里跟在远处的乘用车

■ 정답 : 1, 5

808. 直行的途中，前方交通信号灯从绿色变成了黄色。下列选项当中最危险的2种情况是？

- ① 在本车急刹车时，后方车辆有与本车发生追尾的危险。
- ② 在注意后方车辆的时候，有使本车违反信号灯指示而引起事故的危险。
- ③ 后方车辆有超车的危险。
- ④ 右侧车辆插到本车后方而发生的危险。
- ⑤ 在右侧道路上等待信号的车辆突然调头而发生危险。



- 在右侧道路上等待信号的乘用车
- 出现在后视镜里面的紧跟在后面的出租车
- 正在第2车道上行驶的乘用车

■ 정답 : 1, 2

809. 在下面的情况当中，最安全的2种驾驶方法是？

- ① 因为在行驶方向上的道路宽阔且具有优先权，应从左右狭窄道路进入的车辆先通过交叉路口。
- ② 因为没有信号灯，应为了安全要迅速通过交叉路口。
- ③ 到达停止线前暂时停车，需确认左右安全之后再行驶。
- ④ 因为前方人行横道上没有行人，可迅速通过人行横道。
- ⑤ 因为在前方人行横道附近可能会有违法横穿马路的行人，应加以注意。



- 没有信号灯的交叉路口
- 左·右侧狭窄的道路

■ 정답 : 3, 5

810. 下面关于进行非保护左转弯的时候，最大的2种危险因素是？

- ① 在对面2车道上被客车挡住而看不到的车辆，有可能快速驶来。
- ② 在反方向第1车道上面包车后面的车辆可能停车。
- ③ 行人可能会在左侧的人行横道上过马路。
- ④ 后方车辆可能突然违法调头。
- ⑤ 反方向第1车道上的面包车可能进行非保护左转弯。



- 此时的交通信号是绿色（双向绿灯）
- 反方向第1车道上准备左转弯的面包车

■ 정답 : 1, 3

811. 在下面的情况当中，最安全的2种驾驶方法是？

- ① 进入交叉路口之前，如果信号显示为黄色，要迅速通过交叉路口。
- ② 因为车辆高速行驶的情况下，在信号变为黄色时很难停下，应减速以防备黄灯的出现。
- ③ 因为不知道信号什么时候会换，应加快速度争取在信号变换之前通过。
- ④ 后方车辆有可能紧跟在车后，可加快速度迅速通过交叉路口。
- ⑤ 可能有从第1车道突然变更车道到第2车道的车辆，要减速以作准备。



- 打算在交叉路口处直行
- 前方信号为绿色，但是随时可能变成黄色
- 左边第1车道上打算左转弯的车辆正在等待之中
- 以每小时70公里的速度行驶

■ 정답 : 2, 5

812. 下面是关于为了调头而准备变更车道的情况，下列驾驶方法中最安全的2种是？

- ① 因为第1车道正空着，所以迅速变更车道到第1车道。
- ② 在变更车道前30米以外的地点打开左转向灯。
- ③ 观察前方的人行横道上是否有行人。
- ④ 通过安全地带，提前进入第1车道。
- ⑤ 通过左侧后视镜观察是否有车进入安全地带。



- 交叉路口亮起左转弯信号
- 为了调头准备进入第1车道
- 第1车道允许左转弯和调头

■ 정답 : 2, 5

813. 在以下交叉路口试图右转弯。最安全的2种驾驶方法是？

- ① 鸣笛告知车辆行驶。
- ② 因为骑自行车者在听音乐，所以闪烁前照灯。
- ③ 超越自行车右转弯。
- ④ 让自行车先行通过后右转弯。
- ⑤ 与自行车保持足够的安全距离缓慢行驶。



- 前方交叉路口
- 戴耳机听音乐的骑自行车者

■ 정답 : 4, 5

814. 以下路况中最危险的2项因素是？

- ① 可能会与右侧道路中右转弯的车辆发生碰撞。
- ② 进入左侧第2车道的车辆可能会右转弯。
- ③ 可能会与对面右转弯的车辆发生碰撞。
- ④ 可能会与对面抢先左转弯的车辆发生碰撞。
- ⑤ 可能会与右侧后方试图右转弯的行驶车辆发生碰撞。



- 进入交叉路口后交通信号灯变更为黄色信号
- 时速75公里行驶中

■ 정답 : 1, 4

815. 以下路况中最恰当的2种行为是？

- ① 暂时停车后，首先将周围车辆放行后通过交叉路口。
- ② 通过交叉路口后，向派出所或警察局通报故障事宜。
- ③ 由于交通信号灯故障，可以原速度快速通过。
- ④ 由于交通信号灯发生故障的交叉路口无法通过，应调头返回。
- ⑤ 若存在首先进入的车辆，则在闪烁前照灯的同时通过。



- 发生故障的交通信号灯
- 第2车道行驶中

■ 정답 : 1, 2

816. 以下情形时最安全的2项驾驶方法是？

- ① 因交叉路口没有信号灯，可无条件驶入。
- ② 在停车线之前暂时停车。
- ③ 持续鸣笛，促使前方车辆快速行驶。
- ④ 因前方右侧的车辆可能会加塞，所以需注意安全。
- ⑤ 本车越过中心线行驶到对面。



- 没有信号灯的交叉路口
- 交叉路口内车辆拥堵
- 单向2车道的市内道路

■ 정답 : 2, 4

817. 以下情形时最安全的2种驾驶方法是？

- ① 降低速度，以保持与货车的安全距离。
- ② 超车到货车前方后急刹车。
- ③ 迅速变换车道至右侧车道。
- ④ 提高速度，超越货车。
- ⑤ 打开应急灯向后车示意危险。



- 单向2车道的市内道路
- 突然加塞到自身车辆前方的货车
- 后视镜中紧跟着的大型客车

■ 정답 : 1, 5

818. 下列情形中最安全的2种驾驶方法是？

- ① 因正在驶入的乘用车优先，所以鸣喇叭，使行人无法横过马路。
- ② 由于驶入车辆优先，所以快速驶入。
- ③ 在人行横道前停下来，让行人通过。
- ④ 由于环行车辆优先，所以环行车辆经过后再驶入。
- ⑤ 为使环行车辆停下，边闪烁前照灯边驶入。



- 正在驶入前方环形交叉路口
- 正在交叉路口内环行的车辆
- 人行道上想要过马路的行人

■ 정답 : 3, 4

819. 夜间以每小时40公里的速度行驶在住宅区的道路上并正接近人行横道。

下列选项中，最安全的2种驾驶方法是？

- ① 因为行人已经基本穿过马路，可加速通过。
- ② 因为行人已经基本穿过马路，可以现在的速度通过。
- ③ 因为灯光而无法清楚地知道前方情况，应减速慢行。
- ④ 因为有过马路的行人，应紧急刹车。
- ⑤ 因为后方车辆正在接近，应打开应急灯。



- 停在对面车道上的车辆
- 正在过马路的行人
- 出现在后视镜里的车辆

■ 정답 : 3, 5

820. 在越过中心线违章调头的情况下，发生事故可能性最高的2项危险因素是？

- ① 前方右侧人行道上使用手机的行人
- ② 试图右转弯的左侧道路上的车辆
- ③ 突然试图右转的前方车辆
- ④ 试图停在路边上的后方乘用车
- ⑤ 右侧道路上试图突然违章左转的摩托车



- 左右侧与较窄道路连接
- 前方右侧道路上的摩托车
- 左侧道路上的乘用车

■ 정답 : 2, 5

821. 在下面的情况当中，最安全的2种驾驶方法是？

- ① 因为右前方的人可能会为了搭出租车而下到车道上来，所以行驶中要加以注意。
- ② 因为右前方的人可能会为了搭出租车而下到车道上来，所以闪烁前照灯予以警告。
- ③ 因为第2车道上的出租车可能会为了接乘客而紧急进入第3车道，因此要减速早作防备。
- ④ 因为第2车道上的出租车可能会为了接乘客而紧急进入第3车道，所以缩短与前车的距离行驶。
- ⑤ 为第2车道的出租车进入第3车道做好准备，快速躲避到第2车道。



- 单向3车道道路
- 想要搭乘右前方的出租车的人
- 出租车正行驶在左侧车道
- 以每小时60公里的速度行驶

■ 정답 : 1, 3

822. 行驶在市中心双向道路上时，下列驾驶方法中最安全的2种是？

- ① 必须注意正在与自行车一起散步的狗可能会突然出现在路中间。
- ② 鸣笛示意本车接近，并让路给自行车。
- ③ 儿童可能会突然跑到道路中间，所以减缓车速。
- ④ 提高速度躲开自行车并迅速通过。
- ⑤ 闪烁前照灯的同时，注意迎面而来的车。



- 儿童正在穿越马路
- 骑自行车的人正在与狗散步

■ 정답 : 1, 3

823. 以下情形中，最安全的2种驾驶方法是？

- ① 到达前方人行横道前充分减速后通过人行横道。
- ② 即使有行人从人行横道的左侧过马路，若判断无发生事故的可能性，则可直接通过。
- ③ 由于左侧行人正横过马路，因此暂时停车确认行人过完马路后，再通过人行横道。
- ④ 若在人行横道前急刹车，可能会使紧跟在后面的车辆追尾，因此直接通过。
- ⑤ 由于右侧人行道上奔跑的行人可能会通过人行横道，应暂时停车以确



- 左侧过马路的行人
- 对面停车线前的停止车辆
- 右侧人行道上的行人

保行人的安全。

■ 정답 : 3, 5

824. 在下列情况中，让乘车者下车后再出发的时候，最危险的2种情况是？

- ① 左侧道路上的人们来回行走的情况
- ② 对面道路上减速的货车右转弯的情况
- ③ 停放的前方车辆的驾驶员突然打开车门下车的情况
- ④ 左侧道路上突然有车辆右转弯出现的情况
- ⑤ 在本车后面的车辆突然在道路右侧停车的情况



- 对面左侧道路上的人们
- 对面减速行驶的货车
- 开启右侧转向灯停车的前车

■ 정답 : 3, 4

825. 下列情况中，停止的A车出发时，最应该要注意的2项危险因素是？

- ① 在停在本车前方的货车的前面，可能会有行人突然出现
- ② 停在货车前方的车辆出发
- ③ 在对面左侧道路上可能左转弯的自行车
- ④ A车正后方只顾玩耍的儿童
- ⑤ 对面左侧的停放车辆右转弯



- 右侧成一行停放的车辆
- 前方左侧狭窄的道路
- 停在前方左侧远处的车辆

■ 정답 : 1, 4

826. A车准备右转弯时，最应注意的2种危险情况是？

- ① 确认左侧及前方路况，在右转弯的瞬间，可能会遇到在右侧道路上出现的摩托车。
- ② 认为左侧道路上驶来的车距离还很远而右转弯，但该车行驶的速度比本人判断的更快，可能会相遇。
- ③ 右转弯的瞬间，可能与前方右侧道路上右转弯的车辆相遇。
- ④ 右转弯的瞬间，因为有车辆从左侧驶来而停车，但是在本车后面的车辆却抢先超车从而有可能相遇。
- ⑤ 右转弯可能遇到行走在前方右侧人行道上的行人。



- 右侧道路上的乘用车、摩托车
- 左侧道路上从远处驶来的车辆
- 前方右侧人行道上的行人

■ 정답 : 1, 2

827. 请选出以下路况中需要注意的2项危险情况。

- ① 可能会与逆行的机动车发生碰撞。
- ② 可能会有自行车突然从右侧建筑物角落中出现。
- ③ 可能会与右转弯进入车道的车辆发生碰撞。
- ④ 可能会遇到跑过马路的行人。
- ⑤ 可能会与由右侧向左侧直行的车辆发生碰撞。



- 人行横道中开始穿越马路的行人
- 时速30公里行驶中

■ 정답 : 2, 4

828. 以下路况中最需要注意的2项危险状况是？

- ① 可能会与后侧试图超车的车辆发生碰撞。
- ② 对面货车可能会提高车速。
- ③ 对面货车可能会调头。
- ④ 可能会撞上对面车后方过马路的行人。
- ⑤ 在右侧后方可能会出现跑过人行横道的行人。



- 行人正经人行横道过马路
- 车辆暂时停车后欲出发的状况
- 右侧后方行人

■ 정답 : 4, 5

829. 在下面的情况当中，最安全的2种驾驶方法是？

- ① 信号灯绿灯亮起，可变更到第1车道并加速行驶。
- ② 分几次踩刹车停车。
- ③ 因为有可能会追尾，所以变更至第1车道继续照常行驶。
- ④ 急刹车停车。
- ⑤ 因为是雨路，所以要紧握住方向盘保持好方向。



- 单向2车道单向通行的道路
- 交通信号灯为绿灯
- 制动中的车辆
- 打着雨伞过马路的行人

■ 정답 : 2, 5

830. 以下路况中直行时最安全的两种驾驶方法是？

- ① 由于车辆急停时可能会引起后车追尾，应缓慢减速停在停车线前。
- ② 有可能与货车发生碰撞，等货车左转后立即行驶。
- ③ 由于无法确认货车后方路况，因此暂时停车，在确认安全后行驶。
- ④ 由于货车左转弯，存在与后续车辆发生碰撞的危险，应向对面车道附近行驶。
- ⑤ 由于存在与后续车辆发生碰撞的危险，应提高车速，利用路边空间直接行驶。



- 对面试图左转弯的货车
- 左转弯的货车引起的视野受限
- 后视镜中快速跟上的乘用车

■ 정답 : 1, 3

831. 巴士正准备右转弯，下列选项中，最有可能发生事故的2项是？

- ① 在右侧人行横道上的绿色步行信号闪烁的情况下，与稍晚些跑来的行人相撞。
- ② 与在右侧道路上左转弯的车辆相撞。
- ③ 与在巴士左侧第1车道上直行的车辆相撞。
- ④ 与在对面道路第1车道上左转弯的车辆相撞。
- ⑤ 与在对面道路第2车道上准备直行的车辆相撞。



- 有信号灯的交叉路口
- 右侧道路上有人行横道

■ 정답 : 1, 4

832. 准备超车到拖拉机前方。这时，最有可能发生事故的2项是？

- ① 与在右前方道路边缘地带步行的行人相撞。
- ② 与从对面驶来的车辆正面相撞。
- ③ 与从非铺装道路上出来并准备左转弯越过中心线的车辆相撞。
- ④ 与朝向非铺装道路右转弯的拖拉机相撞。
- ⑤ 与跟在后方的车辆相撞。



- 在前方右转弯的拖拉机
- 在右前方的非铺装道路上左转弯的乘用车
- 右前方的行人
- 对面道路上的乘用车

■ 정답 : 2, 3

833. 在下面的道路上，A车为了让同乘的人下车而临时停下来后重新出发时，最有可能发生事故的2项是？

- ① 对面道路上的车辆在直行途中，与A车正面相撞。
- ② 跟在后面的车在超过A车辆的途中，由于A车出发而引起两车相撞。
- ③ 在A车辆前面正在右转弯的车辆与A车相撞。
- ④ 在右侧道路上开着右转向灯正在等待中的车辆与A车相撞。
- ⑤ A车直行出发的时候，与对面道路上左转弯的车辆相撞。



- 没有信号灯的交叉路口

■ 정답 : 2, 5

834. 在下坡路上快速行驶时，最有可能发生事故的2项是？

- ① 与正在对面道路上的上坡车辆相撞
- ② 与交叉路口对面道路上行驶的车辆相撞
- ③ 与对面人行道上步行的行人相撞
- ④ 前方交叉路口的交通信号转变的同时，与右侧道路上左转弯的车辆相撞
- ⑤ 在前方交叉路口的信号灯转变的同时，车辆急刹车的瞬间与跟在后方的车辆相撞



- 单向1车道下坡路
- 下坡路的尽头是设有信号灯的交叉路口
- 交通信号为绿色

■ 정답 : 4, 5

835. A车正在行驶。最安全的2种驾驶方法是？

- ① 车辆根据离心力的作用可能会脱离到道路外面，应压着中心线行驶。
- ② 因为在对面道路上可能有车辆准备超车到正在停车的车辆前方而越过中心线，要有所准备。
- ③ 为了预防与右前方的商店前面的行人相撞，朝向中心线迅速行驶。
- ④ 因为正在对面道路上停车的车辆驾驶员可能会突然过来，应边注意边行驶。
- ⑤ 因为在弯道上对周围所有的危险因素进行预测十分困难，应迅速通过弯道。



- 向左弯曲的单向1车道道路
- 正停在对面道路上的货车
- 右前方的商店

■ 정답 : 2, 4

836. 下面的情况当中，必须要先行考虑的2种危险情况是？

- ① 停在右边的车辆中间可能有因发生故障而被搁置的车辆。
- ② 可能有与从对面驶来的车辆相撞的危险。
- ③ 可能有从停在右侧的车辆间隙中跑出来的儿童。
- ④ 在对面道路上行驶的车辆可能在道路左侧停下。
- ⑤ 可能有从左侧建筑物里出来的行人。



- 单向1车道道路
- 由于停着的车辆而压着中心线行驶
- 以每小时40公里的速度行驶

■ 정답 : 2, 3

837. 在下面的情况当中，最安全的2种驾驶方法是？

- ① 临时停在人行横道前，观察是否有行人。
- ② 因为即使不是在人行横道处也可能有行人从车间隙中出来横穿马路，应该减速慢行。
- ③ 因为与前方车辆车距很大，需缩短与前方车辆的距离。
- ④ 停下等待，直到对面车辆开始行驶。
- ⑤ 因为前方车辆已在远处，应加速行驶。



- 单向1车道道路
- 前方有没有信号灯的人行横道
- 对面车道拥堵
- 以每小时40公里的速度行驶

■ 정답 : 1, 2

838. 在如下夜间路况下驾驶时，需要特别注意的2点危险是？

- ① 道路右侧部分逆行的自行车
- ② 道路对面试图横穿机动车道的行人
- ③ 车后随意横穿马路的行人
- ④ 打着转向灯想右转的后方车辆
- ⑤ 右侧停放车辆内乘坐的驾驶员



- 以时速50公里行驶中

■ 정답 : 1, 2

839. 冬季时，正驶入放着空心钢板（铁板）的地铁施工现场。最安全的2种驾驶方法是？

- ① 利用发动机制动减速，同时缓缓进入第1车道。
- ② 急刹车降低速度，同时变更车道到第1车道。
- ③ 马上变更车道到第1车道，同时缩短与前方车辆的距离。
- ④ 加速，行驶到前方车辆的前方驶离该区域。
- ⑤ 路面很滑要小心操纵方向盘。



- 前方交叉路口信号灯是绿灯
- 路面上施工现场的空心钢板（铁板）
- 因为施工成为单向1车道的道路

■ 정답 : 1, 5

840. 在下面的情况当中，最应该要注意的2种危险因素是？

- ① 对面道路后方的货车
- ② 跟在本车后面的车辆
- ③ 本车前方的车辆
- ④ 高架路下面的阴影路面
- ⑤ 准备在本车前方驶入道路的出租车



- 高架路下面的阴影
- 潮湿的路面
- 从匝道进入主干道的出租车

■ 정답 : 4, 5

841. 准备进入右侧加油站的时候，最有可能发生事故的2项是？

- ① 与加完油后加速驶入车道的车辆相撞。
- ② 准备变更车道到右侧而急刹车的瞬间，与后方车辆追尾。
- ③ 紧急变道到右侧的瞬间，与右侧后方的车辆相撞。



④ 与行驶速度低于限制速度的第1车道上的车辆相撞。

⑤ 与对面第2车道上的超速行驶的车辆相撞。

■ 右前方的加油站

■ 右后方的车辆

■ 后方的乘用车

■ 정답 : 2, 3

842. 下面关于在道路上行驶情况的描述, 最有可能发生事故的2种情况是?

① 直行的时候, 对面第1车道上的货车左转弯的情况

② 直行的时候, 在本车后方的车辆右转弯的情况

③ 右转弯的时候, 对面第2车道上的乘用车直行的情况

④ 直行的时候, 在对面第1车道上货车的后方, 乘用车朝着小区入口左转弯的情况

⑤ 右转弯的时候, 对面道路上的货车直行的情况



■ 没有信号灯的交叉路口

■ 右前方是住宅小区入口

■ 正在对面道路上行驶的货车

■ 정답 : 1, 4

843. 下面的情况当中, 不可以超车到行驶在上坡路上的货车前方的2个最大理由是?

① 因为摩托车正停在对面道路的边缘地带

② 因为货车可能左转弯到左侧道路上

③ 因为后方车辆可能缓慢前行

④ 因为看不到从对面道路上驶下来的车辆

⑤ 因为货车可能持续缓慢行驶



■ 左前方的道路

■ 正停在对面左侧道路边缘地带的摩托车

■ 정답 : 2, 4

844. 下面的情况当中，可以事先预测到的2种危险情况是？

- ① 对面车辆可能急刹车。
- ② 前方车辆可能右转弯。
- ③ 行人可能会从停在对面道路上的车辆间隙里跑出来。
- ④ 停在对面道路上的车辆中可能会有一辆后退。
- ⑤ 对面道路上的车辆之中，可能有一辆会调头。



- 向左弯曲的道路
- 对面道路拥堵
- 以每小时40公里的速度行驶

■ 정답 : 3, 5

845. 紧跟在大型车辆后面的情况下，下列驾驶方法中最安全的2种是？

- ① 因为大型货车有可能没能发现本车，要注意大型货车的移动。
- ② 行驶在前方第2车道上的巴士可能会突然提速，要多加注意。
- ③ 跟在后面的车辆可能会变更车道，要多加注意。
- ④ 有可能因对向车道车辆的前照灯灯光而出现炫目现象，需注意。
- ⑤ 因为无法确认前方的情况，确保维持充分的安全距离后，随时确认前方情况等并注意安全。



- 单向3车道
- 第1车道上的巴士正在准备变更车道至第2车道

■ 정답 : 1, 5

846. 下列情况中，A车应注意的最危险的2项因素是？

- ① 在前方货车的前面正在搬运货物的人
- ② 停在前方开启刹车灯的车辆
- ③ 右侧道路上突然出现的车辆
- ④ 文具店前面正专心玩游戏机的儿童
- ⑤ 站在右前方道路上望向左侧文具店的儿童



- 文具店前的货车
- 文具店前的儿童
- 站在前方的儿童

■ 정답 : 3, 5

847. 以下路况中最有可能发生事故的2项是？

- ① 左侧第1车道的车辆可能会突然直行。
- ② 当黄色信号灯亮起时，前车可能会紧急制动。
- ③ 右侧第3车道的车辆可能会突然试图右转。
- ④ 前车可能会变更车道进入第3车道。
- ⑤ 在因信号变更而紧急制动的情况下，可能会使后车遭遇撞车事故。



- 在单向4车道道路中经由第2车道进入交叉路口
- 时速70公里行驶中

■ 정답 : 2, 5

848. 以下路况中，在试图左转违章越过中心线进入前方左转弯车道的情况下，最危险的2项原因是？

- ① 对面车辆可能会突然倒车。
- ② 前车可能会在当前位置调头。
- ③ 有可能从踩着刹车的前方车辆前面出现行人。
- ④ 踩着刹车的前方车辆有可能突然向右侧改变车道。
- ⑤ 前车的前行车辆可能会右转进入第2车道。



- 时速20公里行驶中
- 直行·左转弯信号灯同时亮起
- 前车踩着刹车

■ 정답 : 2, 3

849. 驾驶手动变速的车辆行驶在有积雪的上坡路上的时候, 最安全的2种驾驶方法是?

- ① 将变速器置于低挡缓慢驶上坡路。
- ② 将变速器置于高挡全力冲上坡路。
- ③ 在装有防滑轮胎的情况下, 提高车速驶上坡路。
- ④ 沿着前方车辆的轮胎印驶上坡路。
- ⑤ 躲开前方车辆的轮胎印驶上坡路。



- 驶上上坡路的前方车辆
- 前方行驶车辆的轮胎印

■ 정답 : 1, 4

850. 在下面的情况当中, 最应该要注意的2种危险因素是?

- ① 隧道内的情况
- ② 右前方的车辆
- ③ 对面车道上的车辆
- ④ 进入隧道之前的路面
- ⑤ 跟在本车后面的车辆



- 积雪堆积在中心线附近
- 隧道入口处水流结冰

■ 정답 : 2, 4

851. 下面的情况中, 最容易发生事故的2种情况是?

- ① 为进入休息站而紧急减速的过程中, 可能与跟在第2车道后方的车辆发生追尾事故。
- ② 朝着休息站变更车道的瞬间, 可能与超车的后方车辆相撞。
- ③ 为了进入休息站, 紧急变更车道时, 可能与右后方车辆相撞。
- ④ 从第2车道紧急变更车道到第1车道, 可能与右后方车辆相撞。
- ⑤ 在第2车道上超速行驶可能与右后方车辆相撞。



- 右前方有休息站
- 右后方的车辆

■ 정답 : 1, 3

852. 夜间行车时，在下列情况下最正确的2种驾驶方法是？

- ① 因为无法得知正在停车的货车会发生怎样的危险情况，应迅速变更至第1车道。
- ② 一直向正在停车的货车鸣喇叭，同时继续行驶。
- ③ 先停在右前方货车的后面，之后等到前方车辆出发再出发。
- ④ 因为在停着的货车前方或周围可能会发生危险，所以降低速度并加以注意。
- ⑤ 变更车道到第1车道时，确认安全后再试图变换车道。



- 单向2车道的直线道路
- 行驶在第1车道后方的车辆
- 在前方的货车正在停车

■ 정답 : 4, 5

853. 下面的情况当中，最安全的2种驾驶方法是？

- ① 因为中心线是实线，无需格外注意反方向道路上车辆行驶。
- ② 为前方车辆急刹车或者紧急变更车道而做准备，行驶时加以注意。
- ③ 为了让前方车辆提速行驶，用前照灯灯光进行催促。
- ④ 与前方车辆保持距离，同时减速行驶。
- ⑤ 迅速变更车道到前方车辆右侧。



- 向右弯曲的坡路
- 右后方的乘用车

■ 정답 : 2, 4

854. 在下面的情况当中，最安全的2种驾驶方法是？

- ① 前方右侧的货车可能会变更车道，应保持安全距离。
- ② 因无法得知坡顶的情况，应多加注意。
- ③ 因为可能会刮起强风，必须要轻握住方向盘。
- ④ 考虑到跟在后面的车辆，要加快速度迅速通过。
- ⑤ 向跟在后面的车辆驾驶员发出让其超车到本车前方的信号。



- 单向2车道
- 斜坡路的顶端附近

■ 정답 : 1, 2

855. 正行驶在急转弯道路上。最安全的2种驾驶方法是？

- ① 预料到迎面而来的车可能会越过中心线，所以要认真观察前方。
- ② 车辆在离心力的作用下可能脱离车道，要提前减缓车速。
- ③ 为了预防驻波现象，加快速度。
- ④ 为防止离心力的作用，在车道的边缘地带行驶。
- ⑤ 为防止跟在后面的车辆超车，认真注意后方。



- 单向2车道且带有急转弯的道路

■ 정답 : 1, 2

856. 以下路况中最安全的2种驾驶方法是？

- ① 由于可能会出现水膜现象而打滑，应减速行驶。
- ② 遇到水坑的情况下，应紧急制动以防止发生水膜滑行现象。
- ③ 当水坑里的水溅到挡风玻璃上看不清时，猛踩刹车减速。
- ④ 由于对面车辆可能溅起积水，应紧急驶入第2车道。
- ⑤ 遇到水坑时，稍微加速通过。



- 雨天过后部分路面积水
- 时速60公里行驶中

■ 정답 : 1, 4

857. 积雪道路交通状况下安全的2种驾驶方法是?

- ① 沿前车车轮印行驶较为安全, 且最好是与道路中心线保持一定距离。
- ② 由于在积雪路面或结冰路面上的空走距离加长, 需要留出比平时更长的安全距离。
- ③ 对面车辆在弯道上踩刹车时, 有可能越过中心线, 应快速通过。
- ④ 在弯道上猛踩刹车减速。
- ⑤ 在积雪路面或结冰路面上最好是减速行驶。



■ 时速30公里行驶中

■ 정답 : 1, 5

858. 对面车辆前照灯灯光过于明亮时最安全的2种驾驶方法是?

- ① 可能因 " 蒸发现象 " 无法看到站立在道路中心线上的行人, 应采取紧急制动。
- ② 可能发生炫目现象, 应充分降低车速并确认危险是否存在。
- ③ 由于无法看清前方行人, 应开启远光灯进行确认。
- ④ 由第1车道转向第2车道行驶, 避免直视灯光。
- ⑤ 灯光过于明亮时难以确认前方路况, 应加速通过。



■ 时速50公里行驶中

■ 정답 : 2, 4

859. A车准备超车到巴士前方。最有可能发生下列中的哪两项事故?

- ① 因未确保与行驶在A车后方的车辆的安全距离而追尾。
- ② 超车时，与从对面道路上驶来的货车相撞。
- ③ 与从巴士上下车并从巴士前方跑着过马路的行人相撞。
- ④ 与正在公交车站内等车乘客相撞。
- ⑤ 停着的巴士重新出发的瞬间，巴士与对面道路上的货车相撞。



- 单向1车道道路
- 巴士正在车站内停车
- 对面道路上的货车

■ 정답 : 2, 3

860. 下面的情况当中，车辆行驶时最安全的2种驾驶方法是?

- ① 因不知儿童是否会为捡球而跑出来，应临时停下车观察情况。
- ② 因从右侧胡同里滚出来的球可能会滚到左侧或是本车的前方，应沿着右侧道路边缘地带继续行驶。
- ③ 停着的车辆不会移动，无需注意。
- ④ 只有球滚了出来，仅需鸣笛以相同的速度继续行驶。
- ⑤ 因停放车辆中可能有车突然起步，必须加以注意。



- 住宅区胡同
- 停在对面左侧的车辆
- 从右侧胡同里滚出来的球

■ 정답 : 1, 5

861. 在泥泞的非铺装道路上行驶时，最安全的2种驾驶方法是?

- ① 为了保护行人而急刹车。
- ② 因前方没有车辆，无需减速行驶。
- ③ 注意不把积水溅到行人身上。
- ④ 为不妨碍跟在后面的拖拉机，迅速行驶。
- ⑤ 因路面湿滑，应缓慢行驶。



- 右前方的行人
- 后视镜里的拖拉机

■ 정답 : 3, 5

862. 以下情形中，最危险的2种情况是？

- ① 让儿童上下车的校车可能突然倒车。
- ② 从校车下车的儿童，可能突然在校车的前方横穿马路。
- ③ 有车辆紧跟在减速行驶的本车后方。
- ④ 在对面道路上校车后面的摩托车可能会超车到校车前面。
- ⑤ 对面道路上停放在校车前方的车辆可能起步。



- 对面暂时停车的儿童校车
- 停放在校车前的车辆
- 正从校车下车的儿童
- 跟在后面的车辆

■ 정답 : 2, 4

863. 下面关于A车超越手推车的情况中，最危险的2种情况是？

- ① 前方右侧人行道上骑自行车的学生在手推车的前方横穿马路
- ② 对面被手推车挡住摩托车加速驶来
- ③ 在准备超车的过程中，手推车突然原地停止
- ④ A车右后方的儿童正在等待补习班班车
- ⑤ 对面前方左侧车辆始终停放



- 儿童保护区域
- 前方右侧人行道上骑自行车的学生
- 对面行驶的摩托车
- 左侧前方停放的车辆

■ 정답 : 1, 2

864. 以下路况中最安全的2种驾驶行为是?

- ① 鸣笛提示行人注意危险。
- ② 开启应急灯提示后车注意危险。
- ③ 停车时后车可能会超车，应减慢速度通过。
- ④ 留出足够的距离暂时停车，直至行人完全穿过马路。
- ⑤ 变更至第2车道通过。



- 老年人保护区域
- 随意横穿马路的老年人

■ 정답 : 2, 4

865. 以下路况中可能发生的最危险的2项因素是?

- ① 停在右侧的乘用车可能会突然出发。
- ② 在右侧乘用车前方可能会有儿童跑出。
- ③ 停在右侧的乘用车有可能出发。
- ④ 减速可能会使后车遭遇撞车事故。
- ⑤ 在左侧人行道上玩耍的儿童可能会横穿马路。



- 位于儿童保护区域周围的儿童
- 右侧前方停车中的乘用车

■ 정답 : 2, 5

866. 以下路况中最安全的2种驾驶方法是?

- ① 鸣提示儿童注意危险并通过。
- ② 开启前照灯提示儿童校车驾驶员注意危险并通过。
- ③ 开启应急灯提示后车注意危险并暂时停车。
- ④ 在到达儿童校车之前暂时停车，之后缓慢通过。
- ⑤ 开启应急灯提示后车注意危险并通过。



- 右侧前方停车中的儿童校车
- 儿童校车上红色闪烁灯启动中

■ 정답 : 3, 4

867. 在行人信号灯的绿色闪烁信号将近结束的状态下，若首先进入交叉路口可能会发生危险的2项原因是？

- ① 后车可能会越过中心线左转弯
- ② 在左侧道路减速的车辆可能会突然右转弯
- ③ 差不多走完人行横道的右侧行人可能会突然掉转方向往回走
- ④ 车辆后方右侧的摩托车可能会一同通过人行横道
- ⑤ 在左侧道路减速的车辆为左转弯可能会进入交叉路口



- 突然出发
- 三色信号灯中的红灯亮起
- 从左侧道路驶来的车辆减速

■ 정답 : 3, 5

868. 试图左转弯变更车道至第1车道时，在不开启转向灯的情况下可能发生的2种危险是？

- ① 车辆左侧的摩托车突然调头
- ② 第1车道位于后方的乘用车违章调头
- ③ 第1车道前方的小客车紧急制动
- ④ 在第一车道行驶的后方乘用车为车辆前方变更车道而提高车速
- ⑤ 车辆后方的摩托车试图左转弯



- 时速40公里行驶中
- 4色交通信号灯，直行及左转向信号灯同时亮起
- 第1车道左转弯，第2车道直行

■ 정답 : 4, 5

869. 发现巴士突然减速，本车准备变更车道至第2车道时，最有可能发生如下哪两种事故？


- ① 与穿过人行横道的左、右侧行人发生碰撞。
- ② 与对面车辆相撞。
- ③ 对面车辆与行人发生碰撞
- ④ 与在第2车道上行驶的后方车辆相撞。
- ⑤ 跟在本车后方的车辆与行驶在第2车道上的车辆相撞。



- 单向2车道道路
- 巴士急刹车
- 巴士前方的步行信号灯绿灯亮起

	<ul style="list-style-type: none"> ■ 右后方的乘用车
<ul style="list-style-type: none"> ■ 정답 : 1, 4 	

<p>870. A车准备左转弯的时候，最有可能发生如下哪两种事故？</p> <ul style="list-style-type: none"> ① 与在对面道路上直行的C车相撞。 ② 与在左侧道路上右转弯的B车相撞。 ③ 与跟在后面的摩托车追尾。 ④ 与向前通过交叉路口继续行驶的D车追尾。 ⑤ 与在右侧道路上直行的E车相撞。 	 <ul style="list-style-type: none"> ■ 跟在后面的摩托车 ■ 在左侧道路上右转弯的车辆
<ul style="list-style-type: none"> ■ 정답 : 1, 5 	

<p>871. 紧急变更车道时，最有可能发生如下哪两种事故？</p> <ul style="list-style-type: none"> ① 与在面包车前违法横穿马路的行人相撞。 ② 与对面车道上的车辆相撞。 ③ 与跟在后面的摩托车相撞。 ④ 与对面车道上变更车道的车辆相撞。 ⑤ 与跟在第1车道后方超速行驶的车辆相撞。 	 <ul style="list-style-type: none"> ■ 单向2车道道路 ■ 前方车辆急刹车 ■ 开着右侧转向灯的后方摩托车 ■ 第1车道后方的乘用车
<ul style="list-style-type: none"> ■ 정답 : 1, 5 	

872. 在下列情况当中，最安全的2种驾驶方法是？

- ① 为使其无法靠近而不断鸣笛。
- ② 为能够对紧急变道的摩托车作相应准备，保持足够的安全距离。
- ③ 为防止与冒险加塞的摩托车发生冲撞，缩小与前方车辆的距离。
- ④ 为防止与摩托车集团发生冲撞而减缓车速。
- ⑤ 加快速度以脱离摩托车群。



- 单向3车道道路
- 飞车族集体在路上行驶

■ 정답 : 2, 4

873. 以下情况中，最安全的2种驾驶方法是？

- ① 对面可能会有车辆出现，应在车辆到来之前迅速越过中心线行驶。
- ② 观察前方施工区间，突然减速时有可能与紧跟在后面的车辆发生交通事故，应快速行驶。
- ③ 为避开前方施工现场而不得已越过中心线时，应确认对面交通情况后冉行驶。
- ④ 因前方施工车辆可能会突然出发，在观察施工车辆活动的同时缓慢行驶。
- ⑤ 紧跟在后面的车辆试图超越本车时，本车先行越过中心线迅速行驶。



- 紧跟在后面的车辆

■ 정답 : 3, 4

874. 在下面的情况当中，驾驶员一定要注意的最大的2个危险因素是？

- ① 急刹车的后方自行车
- ② 在右侧停车场里停着的面包车
- ③ 在右侧停车场里准备紧急出发的乘用车
- ④ 从右侧停车场进入建筑物的人
- ⑤ 可能从左侧胡同里跑出来的儿童



- 右侧停车场
- 左侧的胡同
- 后方的自行车

■ 정답 : 3, 5

875. 在下面的情况当中，最安全的2种驾驶方法是？

- ① 预防停靠在路边的车辆内可能有乘客突然打开车门下车而小心行驶。
- ② 因自行车可能突然进入对面车道，应迅速通过。
- ③ 因自行车可能会暂时停车，应继续行驶。
- ④ 暂时停车留意自行车，确认安全后再通过。
- ⑤ 注意紧跟在后面的车辆越过中心线超车到前方。



- 单向1车道道路
- 自行车的逆向行驶
- 后视镜内的乘用车

■ 정답 : 1, 4

876. 行驶在单向1车道普通公路上，在该情况下，下列最安全的两种驾驶方法是？

- ① 鸣笛示意自行车，使其无法横穿道路。
- ② 为使自行车无法横穿马路，加速并缩小与前方车辆的距离。
- ③ 比起自行车，更应该注意正在进入人行横道的前方车辆
- ④ 因自行车可能横穿马路，应在减速的同时留意自行车。
- ⑤ 由于行人穿越人行横道，前方车辆可能会急刹车，应事先分几次踩刹车踏板以提醒后面的车辆。



- 前方有人行横道
- 骑自行车的人转头

■ 정답 : 4, 5

877. 准备在设有自行车专用道的交叉路口右转弯。最安全的2种驾驶方法是?

- ① 暂时停车确认安全后，缓慢行驶并向右转弯。
- ② 确认车辆侧方和后方安全，并注意盲区。
- ③ 因货车可能突然停车，应从左侧越到货车前方再右转弯。
- ④ 因自行车无法预知机动车的形式轨迹，应持续鸣笛示意对方本车正在接近。
- ⑤ 因信号马上就会转变，要提高速度跟在货车后面。



- 十字路口
- 交通信号灯从黄色变为红色的瞬间
- 自行车专用道路

■ 정답 : 1, 2

878. 行驶在如下的乡村道路上时，最恰当的2种驾驶方法是?

- ① 注意儿童等各种威胁驾驶安全的情况。
- ② 因道路较空，应提速后迅速通过。
- ③ 因预计到自行车可能会出现在道路中间，应在确保安全距离的同时缓慢通行。
- ④ 为让儿童和骑行者意识到本车的存在，反复鸣笛。
- ⑤ 为充分保持与自行车的距离，利用左侧道路的边缘地带迅速通过。



- 双向道路
- 儿童在道路边缘地带玩耍
- 自行车上载着农具的骑车人

■ 정답 : 1, 3

879. 以下路况中最危险的2项因素是?

- ① 等待左转弯的第1车道的车辆可能会突然进入第2车道。
- ② 可能会与第1车道试图右转弯的车辆发生碰撞。
- ③ 位于第3车道的摩托车可能会突然进入第2车道。
- ④ 可能会与第3车道试图右转弯的车辆发生碰撞。
- ⑤ 后车可能会试图强行变更车道。



- 绿色信号灯亮时接近交叉路口
- 等待左转弯的多辆机动车位于第1车道

■ 정답 : 1, 3

880. 以下路况中试图右转弯时安全的2种驾驶方法是？

- ① 可能会因摩托车直行发生碰撞，应事先开启右转向灯。
- ② 有可能与摩托车发生碰撞，应快速右转弯。
- ③ 预防前方右侧道路上的机动车后方可能出现的过路行人。
- ④ 在抵达右侧道路前紧急刹车后行驶。
- ⑤ 由于后方的摩托车可能会超车，不开启转向灯。



■ 右侧后方的摩托车

■ 정답 : 1, 3

881. 试图通过交叉路口时，需要注意的最安全的2种驾驶方法是？

- ① 前方的机动车可能会停车，需快速跟进。
- ② 有自行车从左侧道路驶入，应降低车速暂停车辆。
- ③ 只有提高车速首先通过交叉路口，才能使自行车停下来。
- ④ 为右侧道路不可见的危险因素做好准备而暂时停车。
- ⑤ 为防止与自行车发生交通事故，应开启应急灯进入路口。



■ 以时速30公里的速度行驶中

■ 정답 : 2, 4

882. 因前方停放车辆而不得已需要越过车道中心线的情况下，最安全的2种驾驶行为是？

- ① 快递车辆前方可能存在行人等未见危险因素，应在最大程度 上减速并确认危险因素后通过。
- ② 对面有车辆驶来，应试图快速超越。
- ③ 在不得已需要越过中心线的情况下，需鸣笛或开启前照灯以示他人。
- ④ 方自行车可能会一同越过车道中心线，应加速贴近中心线左侧道路的道路边缘区域线一侧行驶。
- ⑤ 前方停放的快递车辆挡住视线，为确保视野应减速并事先越过车道中心线行驶。



■ 时速30公里行驶中

■ 정답 : 1, 3

883. 以下路况中，最安全的2种驾驶方法是？

- ① 由于右侧存在停放车辆，应与停放车辆保持一定距离并确认车辆是否开动。
- ② 位于左侧的自行车可能会突然进入车辆前方，不应超越该自行车。
- ③ 难以确认左侧道路的路况，应快速左转弯。
- ④ 后方的货车可能会超车，应在到达交叉路口时重新提高车速。
- ⑤ 由于自行车沿道路左侧行驶，可能会左转弯，无需在意。



■ 开启左侧转向灯，以时速20公里的速度行驶中

■ 정답 : 1, 2

884. 下列情形中A乘用车驾驶人最安全的2种驾驶方法是？

- ① 不管自行车，提高速度超过大型客车。
- ② 持续鸣喇叭并催促大型客车行驶。
- ③ 因大型客车可能会急刹车，需确保安全距离。
- ④ 为确保安全，应紧紧跟在大型客车后面。



■ 单向2车道道路

⑤ 因第1车道上有乘用车正在行驶，所以变更车道时需注意安全。

- 在大型客车前行驶的自行车
- 跟在自行车后面的大型客车
- 跟在大型客车后面的A乘用车

■ 정답 : 3, 5

885. 以下情形时最安全的2项驾驶方法是?

- ① 因直行的乘用车始终优先，可照常驶入。
- ② 预想左侧机动车不驶入会停车，所以照常驶入。
- ③ 鸣喇叭，边告知自行车边加速驶入。
- ④ 驶入交叉路口前，在停止线前暂时停车并确认是否安全。
- ⑤ 因自行车可能会照常驶入，所以需要注意。



- 单向1车道、没有信号灯的交叉路口
- 想要从左侧直行驶入的乘用车
- 想要骑自行车进入人行横道的骑行者

■ 정답 : 4, 5

886. 以下人行横道标志的应设置在哪里?

- ① 有交通信号灯的柏油路交叉口
- ② 有交通信号灯的柏油路单行路
- ③ 禁止行人横穿的地方
- ④ 没有信号的柏油路交叉口或单行路



■ 정답 : 4

887. 有关以下安全标志的说明中正确的是?

- ① 幼儿园附近禁止车辆通行。
- ② 有儿童通行的通行道路或人行横道。
- ③ 在距学校大门的2公里处设置。
- ④ 告知儿童此处不可以过马路。



■ 정답 : 2

888. 途中安全标志的含义是?

- ① 提示路面不平坦
- ② 提示前方有隧道
- ③ 提示前方有减速带
- ④ 提示前方路滑



■ 정답 : 3

889. 如遇途中安全标志, 应采取的安全行驶方法是?

- ① 公路中央有障碍物, 应小心靠右侧通行。
- ② 公路中央开始出现隔离带, 应小心通行。
- ③ 公路中央隔离带路段结束, 应小心通行。
- ④ 前方有隧道, 打开前照灯小心通行。



■ 정답 : 1

890. 图中安全标志的含义是?

- ① 提示有十字形交叉路口
- ② 提示有Y字形交叉路口
- ③ 提示左面有车道并入
- ④ 提示有优先道路



■ 정답 : 3

891. 图中安全标志的含义是?

- ① 提示上坡坡度
- ② 提示下坡坡度
- ③ 提示有碎石滑落
- ④ 提示路况弯曲



■ 정답 : 2

892. 图中的安全标志应设置在哪个同一位置?

- ① 多雾的高速公路
- ② 有很多宠物穿行的公路
- ③ 告知有横风隐患和野生动物保护区的公路
- ④ 有很多行人的公园散步路



■ 정답 : 3

893. 有关图中安全标志含义的说明中正确的是?

- ① 前方100米处起是危险的悬崖, 应注意行驶。
- ② 前方100米处起开始施工路段, 应注意行驶。
- ③ 前方100米处起是江边公路, 应注意行驶。
- ④ 前方100米处有落石危险, 应注意行驶。



■ 정답 : 4

894. 下列关于图示安全标志的说明中正确的是?

- ① 铁路标志
- ② 桥梁标志
- ③ 限制高度标志
- ④ 文物保护单位标志



■ 정답 : 2

895. 图中安全标志的含义是?

- ① 前方是两侧通行公路, 应减速慢行。
- ② 前方有障碍物, 应减速慢行。
- ③ 前方有开始设有中央隔离带的道路, 应减速慢行。
- ④ 前方有双向通行的道路, 应减速慢行。



■ 정답 : 3

896. 图中安全标志代表的含义是?

- ① 左侧通行
- ② 右侧汇入道路
- ③ 路面变窄
- ④ 右侧车道消失



■ 정답 : 4

897. 图中安全标志代表的含义是?

- ① 中央隔离带开始
- ② 双向通行
- ③ 中央隔离带终止
- ④ 存在路面障碍物



■ 정답 : 1

898. 图中安全标志代表的含义是?

- ① 单向2车道的隧道
- ② 连续减速带
- ③ 路面不平
- ④ 弯曲的漫水桥



■ 정답 : 3

899. 图中安全标志代表的含义是?

- ① 注意前方有较多自行车通行
- ② 自行车车道
- ③ 自行车停车场
- ④ 自行车专用道路



■ 정답 : 1

900. 在设有图中安全标志的道路上行驶时，正确的驾驶方法是?

- ① 积雪路况时使用高挡位变速器。
- ② 积雪路况时不在中途紧急停车。
- ③ 使用比平地更高挡位的变速器。
- ④ 紧随装载较多货物的车辆。



■ 정답 : 2

901. 在设有图中所示安全标志的道路上行驶时，安全的驾驶方法是?

- ① 交通信号灯行驶信号亮起时，缓慢驶入通过。
- ② 在栏杆正在放下的过程中快速驶入通过。
- ③ 进入铁路道口前发出警报时加速通过。
- ④ 在栏杆正在抬起的过程中，频繁换挡通过。



■ 정답 : 1

902. 图中的安全标志代表?

- ① 优先道路与非优先道路交叉的标志。
- ② 单行道交叉路口的标志。
- ③ 告知从单向通道变成双向通道地点的标志。
- ④ 告知双向通行的标志。



■ 정답 : 1

903. 下列关于图示安全标志的说明中正确的是?

- ① 告知存在环形交叉路口。
- ② 告知存在右弯道路。
- ③ 告知存在左弯道路。
- ④ 告知存在十字路口。



■ 정답 : 4

904. 下列关于图示安全标志的说明中正确的是?

- ① 沿江公路标志
- ② 机动车专用车道标志
- ③ 停车场标志
- ④ 公共汽车专用车道标志



■ 정답 : 1

905. 符合图中安全标志说明的是?

- ① 双方向通行标志
- ② 中央隔离带结束标志
- ③ 两侧方向通行标志
- ④ 中央隔离带开始标志



■ 정답 : 3

906. 下列关于图示安全标志的说明中正确的是?

- ① 环形交叉路口标志
- ② 掉头与左转车辆注意标志
- ③ 非信号交叉路口标志
- ④ 左弯道路



■ 정답 : 1

907. 图中安全标志应该设置在哪里?

- ① 道路左弯、可能会发生偏离车道危险的道路
- ② 容易因雨雪而导致机动车打滑的道路
- ③ 道路出现连续弯道、可能会发生偏离车道危险的道路
- ④ 下陡坡、应该减速的道路



■ 정답 : 2

908. 下列关于图示安全标志的说明中正确的是?

- ① 指示车辆右转弯的标志。
- ② 禁止车辆直行的提示标志。
- ③ 提醒前方为右弯道路的提示标志。
- ④ 禁止车辆右转的提示标志。



■ 정답 : 3

909. 行驶到设有此安全标志处, 正确的行驶方法是?

- ① 自前方50米起, 与前车保持距离行驶。
- ② 紧跟前方车辆行驶时, 应以50公里/时的速度行驶。
- ③ 同后方车辆保持50米左右的距离行驶。
- ④ 车距保持在50米以上行驶。



■ 정답 : 4

910. 图中的安全标志指的是?

- ① 前方50米处有危险
- ② 保持车距
- ③ 限定的最低车速
- ④ 限定的最高车速



■ 정답 : 4

911. 下列关于图示安全标志的说明中正确的是?

- ① 行人可以通行。
- ② 不仅是行人, 所有的车马都不可以通过。
- ③ 设置在道路的中央或者左侧。



④ 不能与禁止通行的时间一起进行标识。

■ 정답 : 2

912. 下列关于图示安全标志的说明中最正确的是?

- ① 禁止两轮机动车以及自行车通行。
- ② 禁止两轮机动车以及摩托化自行车通行。
- ③ 除了两轮机动车以及自行车之外的车马可随时通行。
- ④ 除了两轮机动车以及摩托化自行车以外的其他车马可随时通行。



■ 정답 : 2

913. 下列关于图示安全标志的说明中正确的是?

- ① 禁止车辆进入。
- ② 禁止所有车辆和行人进入。
- ③ 禁止载有危险物品的货车进入。
- ④ 不能设置标有禁止进入时间等的辅助标志。



■ 정답 : 1

914. 下列关于图示安全标志的说明中最正确的是?

- ① 设在直行车辆很多的道路上。
- ② 设在必须禁止的地点的道路左侧。
- ③ 在这一地点必须要调头返回。



④ 必须利用左右两侧道路等其他道路。

■ 정답 : 4

915. 图中的安全标志指的是?

- ① 禁止调头
- ② 禁止左转弯
- ③ 禁止直行
- ④ 调头区域



■ 정답 : 1

916. 下列关于图示安全标志的说明中正确的是?

- ① 装载货时可暂时停车。
- ② 卸客时可暂时停车。
- ③ 设置在禁止驻停车区域。
- ④ 两轮机动车可以停车。



■ 정답 : 2

917. 图中的安全标志指的是?

- ① 车辆限宽
- ② 车辆限高
- ③ 确保车辆间距



④ 隧道高度

■ 정답 : 2

918. 图中的安全标志指的是?

- ① 车辆限高
- ② 确保车辆间距
- ③ 车辆限宽
- ④ 车辆限长



■ 정답 : 3

919. 在设有图中安全标志的道路上行驶时，正确的驾驶方法是?

- ① 只在有车辆驶来时，才可以停车。
- ② 即使道路上没有车辆，也必须要停车。
- ③ 只有在儿童过马路时才要停车。
- ④ 只有在红灯亮起时才停车。



■ 정답 : 2

920. 可在下列场所中设置图中禁令标志的选项是?

- ① 未实施交通管制的交通繁忙交叉路口
- ② 坡路顶端附近
- ③ 未实施交通管制且无法确认左右路况的十字路口



④ 未设置交通信号灯的铁路道口

■ 정답 : 2

921. 图中的禁令标志所代表的含义是?

- ① 禁止危险品运输车辆通行
- ② 因前方车辆起火实施交通管制中
- ③ 车辆起火频发区域
- ④ 山火发生区域禁止车辆通行



■ 정답 : 1

922. 哪种车辆禁止在设有图示禁令标志的地段行驶?

- ① 摩托车
- ② 客车
- ③ 乘用车
- ④ 摩托化自行车



■ 정답 : 2

923. 下列选项三种符合图中安全标志含义的是?

- ① 单列停车
- ② 交通拥堵路段
- ③ 夜间通行注意行驶



④ 车道线变换路段

■ 정답 : 2

924. 图中禁令标志所代表的含义是?

- ① 注意弯道
- ② 禁止机动车进入
- ③ 禁止超车
- ④ 设置减速带区域



■ 정답 : 3

925. 下列关于图示安全标志的说明中正确的是?

- ① 机动车限高标志
- ② 机动车限重标志
- ③ 机动车限宽标志
- ④ 确保车间距离标志



■ 정답 : 2

926. 下列关于图示安全标志的说明中正确的是?

- ① 禁止乘用车通行。
- ② 禁止运输危险物的机动车通行。
- ③ 禁止面包车通行。



④ 禁止货车通行。

■ 정답 : 4

927. 下列关于图示安全标志的说明中正确的是?

- ① 禁止车辆右转弯。
- ② 禁止车辆左转弯。
- ③ 禁止车辆通行。
- ④ 禁止车辆掉头。



■ 정답 : 1

928. 下列关于图示安全标志的说明中正确的是?

- ① 提示前方人行横道。
- ② 提示前方有行人。
- ③ 禁止行人步行。
- ④ 禁止自行车通行。



■ 정답 : 3

929. 以下哪种车辆可以在设有图中禁令标志的地区行驶?

- ① 货车
- ② 耕耘机
- ③ 拖拉机



④ 手推车

■ 정답 : 1

930. 下列关于图示禁令标志的说明中正确的是?

- ① 最低限速标志
- ② 最高限速标志
- ③ 确保车距标志
- ④ 保持安全速度标志



■ 정답 : 1

931. 图示安全标志的名称是?

- ① 两侧通行标志
- ② 禁止两侧通行标志
- ③ 中央隔离带开始的标志
- ④ 中央隔离带结束的标志



■ 정답 : 1

932. 下列关于图示安全标志的说明中正确的是?

- ① 不管信号如何, 没有车辆通行时, 均可以左转弯。
- ② 红色信号灯亮起时, 在不影响交通的情况下可以左转弯。
- ③ 非保护区域, 没有左转弯信号不得左转弯。



④ 绿色信号灯亮起时，在不影响交通的情况下可以左转弯。

■ 정답 : 4

933. 图示安全标志的名称是?

- ① 两侧通行标志
- ② 向左向右转弯标志
- ③ 中央隔离带开始的标志
- ④ 中央隔离带结束的标志



■ 정답 : 2

934. 下列选项中符合图示安全标志说明的是?

- ① 双重弯曲道路标志
- ② 左转弯与掉头标志
- ③ 掉头优先标志
- ④ 左转弯优先标志



■ 정답 : 2

935. 下列关于图示安全标志的说明中正确的是?

- ① 在进入停车场时，沿箭头的指示方向通行。
- ② 指示在禁止左转的区域内，沿右转弯道路通行。
- ③ 环行交叉路口，小心转弯行驶。



④ 指示靠左侧通行。

■ 정답 : 2

936. 图示安全标志所代表的含义是?

- ① 沿白色箭头方向行驶的车辆可以优先通行。
- ② 沿红色箭头方向行驶的车辆可以优先通行。
- ③ 白色箭头方向车辆禁止通行。
- ④ 红色箭头方向车辆禁止通行。



■ 정답 : 1

937. 图示安全标志的含义是?

- ① 设有自行车可横穿的自行车横穿道。
- ② 提示或指示自行车无法横穿道路。
- ③ 自行车和行人可横穿道路。
- ④ 注意自行车和行人横穿道路。



■ 정답 : 1

938. 图中安全标志所代表的含义是?

- ① 左侧道路为单向通行道路。
- ② 右侧道路为单向通行道路。
- ③ 全部道路为单向通行道路。



④ 直行道路为单向通行道路。

■ 정답 : 4

939. 图中安全标志所代表的含义是?

- ① 自行车专用车道
- ② 机动车专用道路
- ③ 自行车优先通行道路
- ④ 自行车禁止通行道路



■ 정답 : 1

940. 下列关于图示安全标志的说明中正确的是?

- ① 仅限自行车通行。
- ② 自行车和行人兼用道路。
- ③ 在儿童保护区域中指示保护儿童或幼儿。
- ④ 自行车横穿道。



■ 정답 : 2

941. 下列关于图示安全标志的说明中正确的是?

- ① 两侧方向通行标志
- ② 掉头标志
- ③ 环形交叉路口标志



④ 左右转弯标志

■ 정답 : 3

942. 下列关于图示安全标志的说明中正确的是?

- ① 在自行车道路上允许2辆以上的自行车并行通行。
- ② 表示自行车横穿道。
- ③ 仅限自行车通行。
- ④ 告知有自行车停车场。



■ 정답 : 1

943. 下列关于图示安全标志的说明中正确的是?

- ① 自行车横穿道标志
- ② 自行车优先道路标志
- ③ 自行车与行人兼用道路标志
- ④ 自行车与行人通行划分标志



■ 정답 : 4

944. 下列关于图示安全标志的说明中正确的是 ?

- ① 指示车辆向两侧方向通行。
- ② 指示车辆左转弯、直行或右转弯。
- ③ 指示车辆单向通行。



④ 指示车辆转弯。

■ 정답 : 2

945. 下列关于图示安全标志的说明中正确的是?

- ① 指示车辆转弯。
- ② 指示车辆在左侧面通行。
- ③ 指示车辆在右侧面通行。
- ④ 指示车辆掉头。



■ 정답 : 3

946. 下列关于图示安全标志的说明中正确的是?

- ① 指示车辆在左侧面通行。
- ② 指示车辆转弯。
- ③ 指示车辆在右侧面通行。
- ④ 指示车辆倒车。



■ 정답 : 1

947. 下列关于图示安全标志的说明中正确的是?

- ① 公共汽车专用车道。
- ② 多人共乘车辆专用车道。
- ③ 自行车专用道。



④ 机动车专用车道。

■ 정답 : 4

948. 下列关于图示安全标志的说明中正确的是?

- ① 告知有自行车停车场。
- ② 自行车专用道路。
- ③ 自行车横穿道。
- ④ 自行车与行人兼用道路。



■ 정답 : 2

949. 下列关于图示安全标志的说明中正确的是?

- ① 在儿童保护区域中保护儿童或幼儿。
- ② 行人要在人行横道上通行。
- ③ 行人专用道路。
- ④ 在老人保护区域内保护老人。



■ 정답 : 3

950. 下列关于图示安全标志的说明中正确的是?

- ① 车辆要直行或向右转弯。
- ② 车辆要直行或向左转弯。
- ③ 车辆要掉头。



④ 车辆要行驶迂回道路。

■ 정답 : 2

951. 下列关于图示安全标志的说明中正确的是?

- ① 指示优先保护老弱群体。
- ② 指示此处为行人专用道路。
- ③ 指示保护儿童。
- ④ 指示行人在人行横道上通行。



■ 정답 : 4

952. 图示安全标志的含义是?

- ① 指示保护在人行横道上通行的残疾人。
- ② 指示在住宅区胡同道路上保护儿童。
- ③ 指示在老人保护区域内保护老人。
- ④ 指示老人在人行横道上通行。



■ 정답 : 3

953. 下列关于图示安全标志的说明中正确的是?

- ① 指示此处为只可向前方行驶的单向通行道路。
- ② 提示机动车优先通行。
- ③ 指示车辆右转弯的右转弯标志。



④ 告知直行车辆优先通行的直行车辆优先标志。

■ 정답 : 1

954. 图示安全标志的含义是?

- ① 右转弯标志
- ② 右弯道路标志
- ③ 右转优先标志
- ④ 右侧方优先标志



■ 정답 : 1

955. 下列关于图示安全标志的说明中正确的是?

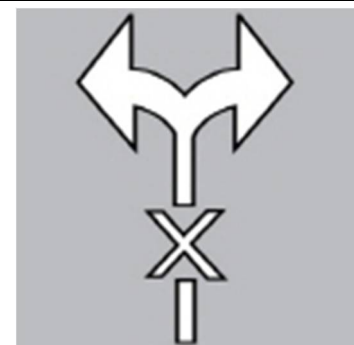
- ① 告知可停放自行车的场所，指示在自行车停车场停车。
- ② 告知可同时停放自行车与机动车，指示停车。
- ③ 告知可修理自行车并停车的场所。
- ④ 告知仅限自行车通行，不得停放自行车。



■ 정답 : 1

956. 图中路面标志所代表的含义是?

- ① 禁止驾驶员左右转弯。
- ② 驾驶时应观察左右路况。
- ③ 只允许驾驶员左右转弯。

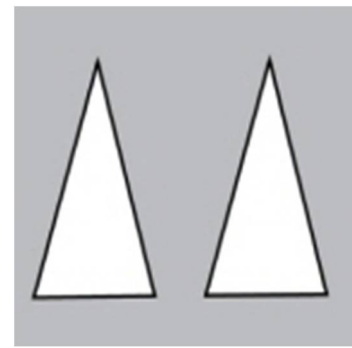


④ 只允许驾驶员右转弯。

■ 정답 : 1

957. 图中路面标志所代表的含义是?

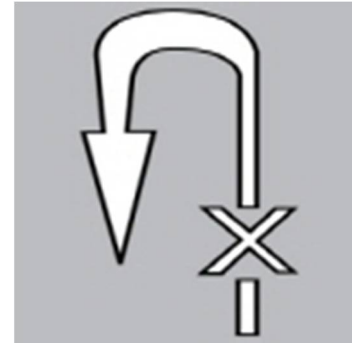
- ① 前方设有减速带或交叉路口处有上坡。
- ② 前方道路变窄。
- ③ 两辆车可并行通过。
- ④ 山区道路。



■ 정답 : 1

958. 图示路面标志所代表的含义是?

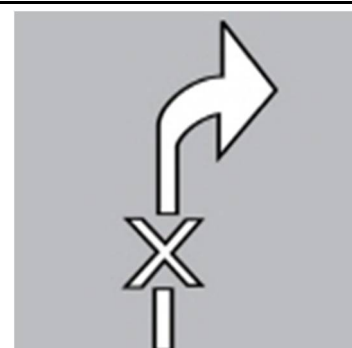
- ① 禁止调头标志, 不可调头。
- ② 禁止调头标志, 不可左转弯。
- ③ 禁止通行标志, 不可直行。
- ④ 禁止左右转弯标志, 不可左右转弯。



■ 정답 : 1

959. 图示路面标志所代表的含义是?

- ① 禁止右转弯标志, 不可调头。
- ② 禁止右转弯标志, 不可右转弯。
- ③ 禁止右侧通行标志, 不可直行。

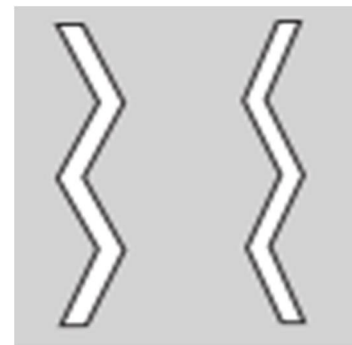


④ 禁止左右转弯标志，不可左右转弯。

■ 정답 : 2

960. 下列关于图示安全标志的说明中正确的是?

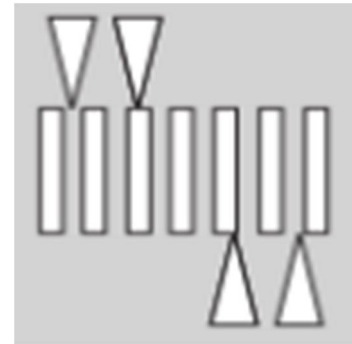
- ① 告知车辆暂时停车。
- ② 告知车辆缓慢行驶。
- ③ 告知车辆禁止暂时停车和停车。
- ④ 告知路面上有障碍物。



■ 정답 : 2

961. 下列关于图示安全标志的说明中正确的是?

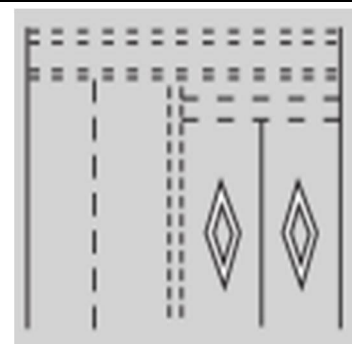
- ① 凸起式人行横道标志。
- ② 呈凸起梯形和减速带形状，高度为10cm。
- ③ 设置在需要让驾驶员小心驾驶的地点。
- ④ 可在所有道路上设置。



■ 정답 : 4

962. 下列关于图示安全标志的说明中正确的是?

- ① 告知前方有安全地带。
- ② 表示此为车辆应让路的路段。
- ③ 告知前方有人行横道。

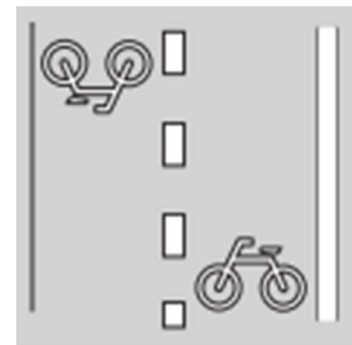


④ 表示此为可停车的路段。

■ 정답 : 3

963. 下列关于图示安全标志的说明中正确的是?

- ① 自行车专用道路标志。
- ② 自行车横穿道标志。
- ③ 指示在自行车停车场停车。
- ④ 允许2辆以上的自行车并排行驶在自行车道路上。



■ 정답 : 2

964. 下列关于图示安全标志的说明中正确的是?

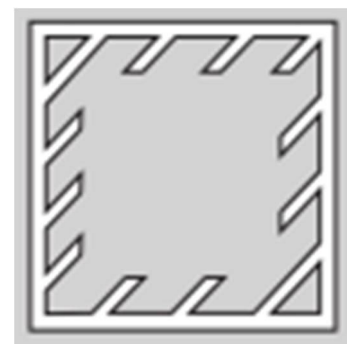
- ① 车辆应让路的场所。
- ② 禁止车辆进入暂时停车。
- ③ 人行横道。
- ④ 道路上有障碍物。



■ 정답 : 1

965. 下列关于图示安全标志的说明中正确的是?

- ① 车辆应让路路段
- ② 道路上有障碍物。
- ③ 禁止车辆进入暂时停车。



④ 可停车的场所。

■ 정답 : 3

966. 图示安全标志的含义是?

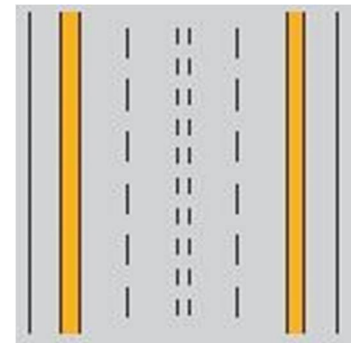
- ① 自行车优先道路标志
- ② 自行车专用道路标志
- ③ 自行车横道标志
- ④ 自行车保护区域标志



■ 정답 : 1

967. 图示安全标志的含义是?

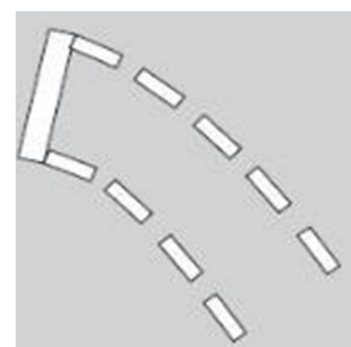
- ① 禁止停车标志
- ② 禁止停车、暂停车标志
- ③ 可变车道标志
- ④ 车道变更限制线标志



■ 정답 : 2

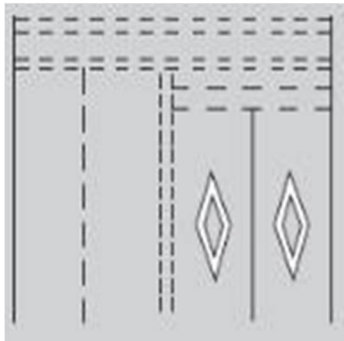
968. 下列选项中有关图示安全标志含义的说明中正确的是?


- ① 表示为确保在交叉路口左转弯的车辆不妨碍交通,使车辆在红灯亮起时待转的区域
- ② 表示为确保在交叉路口左转弯的车辆不妨碍交通、使车辆在黄灯亮起时在交叉路口待转的区域。



<p>③ 表示为确保在交叉路口左转弯的车辆不妨碍交通、使车辆在绿灯亮起时在 交叉路口待转的区域。</p> <p>④ 表示为确保在交叉路口左转弯的车辆不妨碍交通、使车辆于红灯闪烁时在 交叉路口待转的区域。</p>	
<p>■ 정답 : 3</p>	

<p>969. 图示安全标志的含义是?</p> <p>① 应急车道标志</p> <p>② 车道变更限制线标志</p> <p>③ 掉头区域线标志</p> <p>④ 道路边缘区域标志</p>	
<p>■ 정답 : 4</p>	

<p>970. 下列关于图示路面标志的说明中正确的是?</p> <p>① 告知前方有交叉路口</p> <p>②告知前方有人行横道</p> <p>③ 告知前方有路面障碍物</p> <p>④ 告知前方禁止停车</p>	
<p>■ 정답 : 2</p>	

<p>971. 图示安全标志的正确含义是?</p> <p>① 解除最低车速限制</p> <p>② 解除最高车速为50公里/时的限制</p> <p>③ 前方50米起解除时速限制</p>	
---	---

④ 解除车辆间距离50米的限制

■ 정답 : 2

972. 图示安全标志的含义是?

- ① 前方30米起解除车速限制
- ② 解除最高车速限制
- ③ 解除车辆间距离30米的限制
- ④ 解除最低车速限制



■ 정답 : 4

973. 下列关于图示安全标志的说明中正确的是?

- ① 前方100米起是客车专用路。
- ② 前方100米起是公交车专用路。
- ③ 前方100米起是多座乘用车专用路。
- ④ 前方100米起是车辆专用路。



■ 정답 : 2

974. 下列关于图示安全标志的说明中最正确的是?

- ① 禁止机动车和摩托车在08:00 ~ 20:00时间段通行
- ② 禁止机动车、摩托车和摩托化自行车在08:00 ~ 20:00时间段通行
- ③ 禁止机动车和摩托化自行车在08:00 ~ 20:00时间段通行



④ 禁止机动车和自行车在08:00 ~ 20:00时间段通行

■ 정답 : 2

975. 下列关于图示安全标志的说明中正确的是?

- ① 表示拖吊在禁止停车路段停车的车辆的地段。
- ② 表示可在禁止停车路段停车的地段。
- ③ 表示可暂停车和停车的场所。
- ④ 表示禁止暂停车和停车的场所。



■ 정답 : 1

976. 下列关于图示安全标志的说明中正确的是?

- ① 红灯时向左转弯。
- ② 禁止掉头。
- ③ 可在信号灯的任意交通信号时掉头。
- ④ 红灯时掉头。



■ 정답 : 4

977. 下列关于图示安全标志的说明中正确的是?

- ① 提示仅在星期天和公休日, 仅限公共汽车专用车道通行车辆行驶。
- ② 提示除星期天和公休日以外, 仅限公共汽车专用车道通行车辆行驶。
- ③ 提示每天仅限公共汽车专用车道通行车辆通行。



④ 提示除星期天和公休日以外，所有车辆都可通行。

■ 정답 : 2

978. 下列关于图示安全标志的说明中正确的是？

- ① 告知在08:00~20:00时间段是老人保护区域的标志。
- ② 告知在08:00~20:00时间段是残疾人保护区域的标志。
- ③ 告知在08:00~20:00时间段是儿童保护区域的标志。
- ④ 告知在08:00~20:00时间段是行人可横穿道路的标志。



■ 정답 : 3

979. 下列关于图示安全标志的说明中正确的是？

- ① 可在工作日的06:00~22:00时间段在安全标志160米内停车。
- ② 可在公休日的06:00~22:00时间段在安全标志160米内停车。
- ③ 工作日无停车限制时间。
- ④ 公休日无停车限制时间。



■ 정답 : 2

980. 下列选项中符合图示路牌说明的是？

- ① 左右侧双方向用路牌。
- ② “1→” 是道路结束的地点。
- ③ 江南大路长为699米。



④ “江南大路” 道路名称。

■ 정답 : 4

981. 下列关于图示安全标志的说明中正确的是?

- ① 告知单向通行儿童保护区域的标志
- ② 告知左侧有儿童保护区域的标志
- ③ 告知右侧有儿童保护区域的标志
- ④ 禁止在儿童保护区域通行的标志



■ 정답 : 3

982. 下列关于图示安全标志的说明中正确的是?

- ① 前方100米起道路消失
- ② 前方100米起道路变宽
- ③ 前方100米起右侧道路变窄
- ④ 前方100米起道路变窄



■ 정답 : 4



983. 下列选项中哪个是官公署用建筑编号牌?

■ 정답 : 4

984. 有关图示建筑编号牌的说明中正确的是？

- ① 坪村街是道路名，30是建筑编号。
- ② 坪村街是主出入口，30是基础编号。
- ③ 坪村街是道路起点，30是建筑地址。
- ④ 坪村街是各道路的区分标准，30是详细地址。



■ 정답 : 1

985. 下列选项中有关图示3向道路名预告标志的说明中正确的是？

- ① 左转弯后向前300米是市政厅。
- ② “冠坪路”是南北设置的道路区间。
- ③ 右转弯后向前300米是坪村站。
- ④ 直行后向前300米是“冠坪路”。



■ 정답 : 4

986. 视频中可预测到的最危险的状况是？（参考官网）

- ① 经过向左弯曲的道路时，对面车辆可能会发生侧滑越过中心线。
- ② 经过向左弯曲的道路时，停放在右侧的车辆可能会突然起动。
- ③ 经过向左弯曲的道路时，可能会因离心力而侧滑越过中心线。
- ④ 经过向右弯曲的道路时，对面车辆可能会因离心力越过中心线。

■ 정답 : 1

987. 视频中可预测到的最危险的情况是？（参考官网）

- ① 在第1车道上行驶时，因在第2车道上行驶的车辆减速而发生碰撞。
- ② 在第1车道上行驶时，因前车突然变更车道而与对向车道行驶的车辆发生碰撞。
- ③ 在第1车道上行驶时，与第1车道上的故障车辆发生碰撞。
- ④ 在第2车道上行驶时，与变更至第1车道的前车发生碰撞。

■ 정답 : 3

988. 下列视频中可预测到的最危险的情况是？（参考官网）

- ① 第1车道行驶中的车辆突然减速。
- ② 在第3车道后方行驶的车辆，为躲避停在前方第3车道上的车辆，在车前方快速变更车道。
- ③ 在到达交叉路口之前，在第1车道等待左转弯信号的车辆突然直行。
- ④ 经过交叉路口在第1车道行驶中的车辆因发现无人监控摄像头而突然减速。

■ 정답 : 2

989. 下列视频中可预测到的最危险的因素是？（参考官网）

- ① 通过人行横道时，巴士前方晚一步穿过马路的行人。
- ② 通过人行横道时，第3车道上待出发的车辆。
- ③ 通过交叉路口时，第1车道左转弯的车辆
- ④ 通过交叉路口时，从第4车道出发的车辆。

■ 정답 : 1

990. 下列视频中可预测到的最危险的因素是？（参考官网）

- ① 右侧公交汽车站使用手机的人
- ② 经过弯道区间时，沿对面道路边缘行驶的摩托车
- ③ 在对面道路上待左转弯的拖拉机
- ④ 刚经过弯道区间时，对面道路上待右转弯的车辆

■ 정답 : 3

991. 下列视频中可预测到的最危险的因素是？（参考官网）

- ① 车辆变更至第1车道时，停在第2车道上的待出发的车辆
- ② 左转弯时，在对向第1车道上左转弯的大型货车
- ③ 左转弯时，从大型货车与小客车之间驶来的对向车道摩托车
- ④ 左转弯结束时，在对面第1车道上等待信号的车辆

■ 정답 : 3

992. 下列视频中可预测到的最危险的因素是？（参考官网）

- ① 在第一个交叉路口左转弯时，在右侧人行道上行走的行人
- ② 在第一个交叉路口左转弯时，试图从对向行驶的公交车后方超车的车辆
- ③ 在第二个交叉路口右转弯时，在对向车道上右转弯的车辆
- ④ 在第三个交叉路口左转弯时，从对面驶来的车辆

■ 정답 : 2

993. 下列视频中可预测到的最危险的情况是？（参考官网）

- ① 因看不清货车尾灯及反光灯导致追尾。
- ② 货车变更至第1车道时发生碰撞。
- ③ 为躲避故障车辆变更至第2车道时，与在第1车道上行驶的车辆发生碰撞。
- ④ 为躲避故障车辆变更至第2车道，因行驶中的拖车突然启动而发生碰撞。

■ 정답 : 1

994. 下列视频中可预测到的最危险的情况是？（参考官网）

- ① 通过第一个交叉路口时，对向第1车道的车辆直行通过。
- ② 看到前方绿色信号后快速通过交叉路口时，在积水处打滑。
- ③ 在前方施工的第2车道上行驶时，第1车道上行驶的车辆突然变更至左侧车道。
- ④ 在第二个交叉路口右转弯后，前方第2车道上的车辆在道路右侧停车。

■ 정답 : 2

995. 下列视频中可预测到的最危险的情况是？（参考官网）

- ① 为躲避前方事故车辆，越过中央隔离带。
- ② 为躲避前方事故车辆，与第2车道的前方车辆发生碰撞。
- ③ 在第2车道上行驶的过程中，与第3车道内快速变更车道插入车前的车辆发生碰撞。
- ④ 在第3车道上行驶的过程中，因离心力与第2车道上行驶的车辆在弯道区间发生碰撞。

■ 정답 : 3

996. 下列视频中可预测到的最危险的情况是？（参考官网）

- ① 为在交叉路口右转弯而从第1车道变更车道至第2车道的瞬间，在第1车道等待左转弯的车辆掉头
- ② 在交叉路口右转弯时，对向第1车道上最前方的车辆左转
- ③ 在交叉路口右转弯时，摩托车在第二车道逆行
- ④ 在交叉路口向右转弯行驶时，停在第二车道上的车辆中，最前方的车辆突然出发

■ 정답 : 3

997. 下列视频中可预测到的最危险的情况是？（参考官网）

- ① 快速通过下坡弯道区间时，因离心力撞上右侧防护墙。
- ② 经过下坡弯道区间超车时，右转向的前车突然停车。
- ③ 超越的车辆因发现无人监控摄像头而紧急制动。
- ④ 超越因发现无人监控摄像头而突然减速的前车时，对向车道上的车辆减速。

■ 정답 : 3

998. 下列视频中可预测到的最危险的情况是？（参考官网）

- ① 行驶在第1车道上的黑色机动车变更车道。
- ② 有乘客下车的公交车倒车。
- ③ 第1车道的面包车超车。
- ④ 与在胡同道路上右转弯的机动车相撞。

■ 정답 : 4

999. 下列视频中可预测到的最危险的情况是？（参考官网）

- ① 行驶在第2车道上的出租车突然向左侧车道变道。
- ② 与行驶在第1车道上的摩托车相撞。
- ③ 与对向车道上左转弯的摩托车相撞。
- ④ 人行道上的行人突然横穿马路。

■ 정답 : 2

1000. 下列视频中可预测到的最危险的情况是？（参考官网）

- ① 为载客将车停在第2车道上的市内公交车
- ② 文具店前抱着孩子的行人
- ③ 停车区内按序停车的机动车
- ④ 停车区周边玩耍的儿童

■ 정답 : 4